

**СОЗДАНО
РАЗРАБОТЧИКАМИ**

ЕГЭ

37

ВАРИАНТОВ ЗАДАНИЙ

Под редакцией И. В. Ященко

МАТЕМАТИКА

ПРОФИЛЬНЫЙ УРОВЕНЬ

К НОВОЙ ОФИЦИАЛЬНОЙ ДЕМОНСТРАЦИОННОЙ ВЕРСИИ ЕГЭ

ЕГЭ

**ТИПОВЫЕ ВАРИАНТЫ
ЭКЗАМЕНАЦИОННЫХ
ЗАДАНИЙ**



- **37 вариантов заданий**
- Инструкция по выполнению экзаменационной работы
- Ответы и решения
- Критерии оценивания
- Бланки ответов

2021

Под редакцией И. В. Ященко

МАТЕМАТИКА

ПРОФИЛЬНЫЙ УРОВЕНЬ

*ТИПОВЫЕ ВАРИАНТЫ
ЭКЗАМЕНАЦИОННЫХ ЗАДАНИЙ*

37 вариантов заданий

*Инструкция по выполнению
экзаменационной работы*

Ответы и решения

Критерии оценивания

Бланки ответов

*Издательство
«ЭКЗАМЕН»*

МОСКВА
2021

УДК 372.8:51
ББК 74.262.21
ЕЗЗ

Имена авторов, название и содержание произведений используются в данной книге в учебных целях в объёме, оправданном целью цитирования (ст. 1274 п. 1 части четвёртой Гражданского кодекса Российской Федерации).

ЕЗЗ ЕГЭ 2021. Математика. Профильный уровень. 37 вариантов. Типовые варианты экзаменационных заданий от разработчиков ЕГЭ / И. В. Яценко, М. А. Волчкевич, И. Р. Высоцкий, Р. К. Гордин, П. В. Семёнов, О. Н. Косухин, Д. А. Фёдоровых, А. И. Суздальцев, А. Р. Рязановский, В. А. Смирнов, А. В. Хачатурян, С. А. Шестаков, Д. Э. Шноль; под ред. И. В. Яценко. — М. : Издательство «Экзамен», 2021. — 167, [1] с. (Серия «ЕГЭ. 37 вариантов. Тесты от разработчиков»)

ISBN 978-5-377-16138-7

Авторы пособия — ведущие специалисты, принимающие непосредственное участие в разработке методических материалов для подготовки к выполнению контрольных измерительных материалов ЕГЭ.

Книга содержит 37 типовых вариантов экзаменационных заданий по математике, составленных с учетом всех особенностей и требований Единого государственного экзамена по математике профильного уровня 2021 года.

Назначение пособия — предоставить читателям информацию о структуре и содержании контрольных измерительных материалов по математике профильного уровня, степени трудности заданий.

В сборнике даны ответы на все варианты тестов, приводятся решения заданий части 2 двух вариантов.

Кроме того, приведены образцы бланков, используемых на ЕГЭ для записи ответов и решений.

Пособие может быть использовано учителями для подготовки учащихся к экзамену по математике в форме ЕГЭ, а также старшеклассниками — для самоподготовки и самоконтроля.

Приказом № 699 Министерства образования и науки Российской Федерации учебные пособия издательства «Экзамен» допущены к использованию в общеобразовательных организациях.

УДК 372.8:51
ББК 74.262.21

Формат 60×90/8. Гарнитура «Школьная». Бумага газетная. Уч.-изд. л. 8,34.
Усл. печ. л. 21. Тираж 30 000 экз. Заказ 4314/20

ISBN 978-5-377-16138-7

© Яценко И. В., Волчкевич М. А., Высоцкий И. Р.,
Гордин Р. К., Семёнов П. В., Косухин О. Н.,
Фёдоровых Д. А., Суздальцев А. И., Рязановский А. Р.,
Смирнов В. А., Хачатурян А. В., Шестаков С. А.,
Шноль Д. Э., 2021
© Издательство «ЭКЗАМЕН», 2021

СОДЕРЖАНИЕ

Типовые бланки ответов ЕГЭ.....	7
Инструкция по выполнению работы.....	9
Вариант 1	10
Часть 1	10
Часть 2	11
Вариант 2	13
Часть 1	13
Часть 2	14
Вариант 3	16
Часть 1	16
Часть 2	17
Вариант 4	19
Часть 1	19
Часть 2	21
Вариант 5	23
Часть 1	23
Часть 2	24
Вариант 6	26
Часть 1	26
Часть 2	27
Вариант 7	29
Часть 1	29
Часть 2	30
Вариант 8	32
Часть 1	32
Часть 2	33
Вариант 9	35
Часть 1	35
Часть 2	36
Вариант 10	38
Часть 1	38
Часть 2	39
Вариант 11	41
Часть 1	41
Часть 2	43
Вариант 12	45
Часть 1	45
Часть 2	47
Вариант 13	49
Часть 1	49
Часть 2	51

Вариант 14	53
Часть 1	53
Часть 2	55
Вариант 15	57
Часть 1	57
Часть 2	58
Вариант 16	60
Часть 1	60
Часть 2	62
Вариант 17	64
Часть 1	64
Часть 2	66
Вариант 18	68
Часть 1	68
Часть 2	70
Вариант 19	72
Часть 1	72
Часть 2	74
Вариант 20	76
Часть 1	76
Часть 2	78
Вариант 21	80
Часть 1	80
Часть 2	81
Вариант 22	83
Часть 1	83
Часть 2	85
Вариант 23	87
Часть 1	87
Часть 2	89
Вариант 24	91
Часть 1	91
Часть 2	93
Вариант 25	95
Часть 1	95
Часть 2	96
Вариант 26	98
Часть 1	98
Часть 2	99
Вариант 27	101
Часть 1	101
Часть 2	103
Вариант 28	105
Часть 1	105
Часть 2	106

Вариант 29	108
Часть 1	108
Часть 2	109
Вариант 30	111
Часть 1	111
Часть 2	113
Вариант 31	115
Часть 1	115
Часть 2	117
Вариант 32	119
Часть 1	119
Часть 2	121
Вариант 33	123
Часть 1	123
Часть 2	125
Вариант 34	127
Часть 1	127
Часть 2	129
Вариант 35	131
Часть 1	131
Часть 2	133
Вариант 36	135
Часть 1	135
Часть 2	136
Вариант 37	138
Часть 1	138
Часть 2	139
Система оценивания экзаменационной работы по математике (профильный уровень)	141
Решение заданий	142
Вариант 21. Часть 2	142
Вариант 35. Часть 2	149
Ответы	155
Вариант 1	155
Вариант 2	155
Вариант 3	156
Вариант 4	156
Вариант 5	156
Вариант 6	157
Вариант 7	157
Вариант 8	157
Вариант 9	158
Вариант 10	158
Вариант 11	158

Вариант 12.....	159
Вариант 13.....	159
Вариант 14.....	159
Вариант 15.....	160
Вариант 16.....	160
Вариант 17.....	160
Вариант 18.....	161
Вариант 19.....	161
Вариант 20.....	161
Вариант 21.....	162
Вариант 22.....	162
Вариант 23.....	162
Вариант 24.....	163
Вариант 25.....	163
Вариант 26.....	163
Вариант 27.....	164
Вариант 28.....	164
Вариант 29.....	164
Вариант 30.....	165
Вариант 31.....	165
Вариант 32.....	165
Вариант 33.....	166
Вариант 34.....	166
Вариант 35.....	166
Вариант 36.....	167
Вариант 37.....	167

Бланк ответов № 1

Код региона	Код предмета	Название предмета
-------------	--------------	-------------------



С перерывом проведение
данного государственного экзамена откладывается на 1 год

Подпись участника ЕГЭ строго внутри окошка

Резерв - 4



Заполнять гелевой или капиллярной ручкой ЧЕРНЫМИ чернилами ЗАГЛАВНЫМИ ПЕЧАТНЫМИ БУКВАМИ и ЦИФРАМИ по следующим образцам:

A B В Г Д Е Ё Ж З И Й К Л М Н О П Р С Т У Ф Х Ц Ч Ш Щ Ъ Ы Ь Э Ю Я
A B C D E F G H I J K L M N O P Q R S T U V W X Y Z , -
1 2 3 4 5 6 7 8 9 0 A A A 0 0 0 0 0 0 0 0 0 0 0 0 0 0 0 0



ВНИМАНИЕ!

Все бланки и контрольные измерительные материалы рассматриваются в комплекте

Результаты выполнения заданий с КРАТКИМ ОТВЕТОМ

[illegible]

Замена ошибочных ответов на задания с КРАТКИМ ОТВЕТОМ

Заполняется ответственным организатором в аудитории:

Количество заполненных полей
«Замена ошибочных ответов»

☐

Подпись ответственного организатора строго внутри округа



Единый государственный экзамен - 2021
Бланк ответов № 2 лист 1

Код региона □□	Код предмета □□	Название предмета □□□□	Резерв - 5 □□□□□□
Бланк ответов № 2 (лист 2)			Лист □□



Перепишите значения полей "Код региона", "Код предмета", "Название предмета" из БЛАНКА РЕГИСТРАЦИИ.
Отвечая на задания с РАЗВЕРНУТЫМ ОТВЕТОМ, пишите аккуратно и разборчиво, соблюдая разметку страницы.
Не забудьте указать номер задания, на которое Вы отвечаете, например, 31.
Условия задания переписывать не нужно.

ВНИМАНИЕ! Все бланки и контрольные измерительные материалы рассматриваются в комплекте

Оборотная сторона бланка НЕ ЗАПОЛНЯЕТСЯ. Используйте бланк ответов № 2 (лист 2).

Инструкция по выполнению работы¹

Экзаменационная работа состоит из двух частей, включающих в себя 19 заданий. Часть 1 содержит 8 заданий с кратким ответом базового уровня сложности. Часть 2 содержит 4 задания с кратким ответом повышенного уровня сложности и 7 заданий с развёрнутым ответом повышенного и высокого уровней сложности.

На выполнение экзаменационной работы по математике отводится 3 часа 55 минут (235 минут).

Ответы к заданиям 1–12 записываются по приведённому ниже образцу в виде целого числа или конечной десятичной дроби. Числа запишите в поля ответов в тексте работы, а затем перенесите в бланк ответов № 1.

КИМ

Ответ: -0,8.

-	0	,	8																
---	---	---	---	--	--	--	--	--	--	--	--	--	--	--	--	--	--	--	--

Бланк

При выполнении заданий 13–19 требуется записать полное решение и ответ в бланке ответов № 2.

Все бланки ЕГЭ заполняются яркими чёрными чернилами. Допускается использование гелевой или капиллярной ручки.

При выполнении заданий можно пользоваться черновиком. Записи в черновике, а также в тексте контрольных измерительных материалов не учитываются при оценивании работы.

Баллы, полученные Вами за выполненные задания, суммируются. Постарайтесь выполнить как можно больше заданий и набрать наибольшее количество баллов.

После завершения работы проверьте, чтобы ответ на каждое задание в бланках ответов № 1 и № 2 был записан под правильным номером.

Желаем успеха!

Справочные материалы

$$\begin{aligned}\sin^2 \alpha + \cos^2 \alpha &= 1 \\ \sin 2\alpha &= 2 \sin \alpha \cdot \cos \alpha \\ \cos 2\alpha &= \cos^2 \alpha - \sin^2 \alpha \\ \sin(\alpha + \beta) &= \sin \alpha \cdot \cos \beta + \cos \alpha \cdot \sin \beta \\ \cos(\alpha + \beta) &= \cos \alpha \cdot \cos \beta - \sin \alpha \cdot \sin \beta\end{aligned}$$

¹ Использованы материалы сайта ФИПИ (www.fipi.ru).

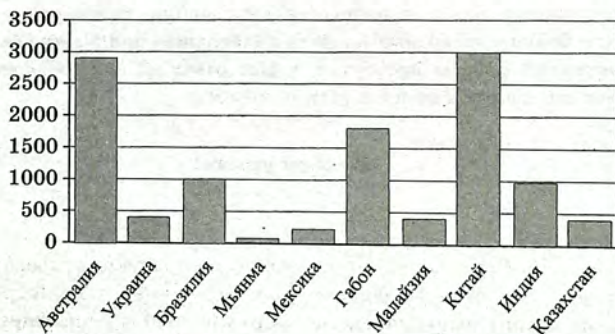
Ответом к заданиям 1–12 является целое число или конечная десятичная дробь. Запишите число в поле ответа в тексте работы, затем перенесите его в БЛАНК ОТВЕТОВ № 1 справа от номера соответствующего задания, начиная с первой клеточки. Каждую цифру, знак «минус» и запятую пишите в отдельной клеточке в соответствии с приведёнными в бланке образцами. Единицы измерений писать не нужно.

Часть 1

- 1 Показания счётчика электроэнергии 1 июля составляли 88 219 кВт · ч, а 1 августа — 88 369 кВт · ч. Сколько нужно заплатить за электроэнергию за июль, если 1 кВт · ч электроэнергии стоит 3 рубля 80 копеек? Ответ дайте в рублях.

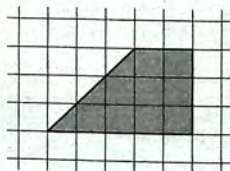
Ответ: _____.

- 2 На диаграмме показано распределение добычи марганцевой руды в 10 странах мира (в тысячах тонн) за 2015 год. Среди представленных стран первое место по добыче марганцевой руды занимал Китай, десятое место — Мьянма. Какое место занимал Габон?



Ответ: _____.

- 3 На клетчатой бумаге с размером клетки 1×1 изображена трапеция. Найдите длину средней линии этой трапеции.



Ответ: _____.

- 4 Одиннадцать детей встают в хоровод в случайном порядке. Среди них Максим и его сестра Вика. Какова вероятность того, что Максим и Вика не окажутся рядом?

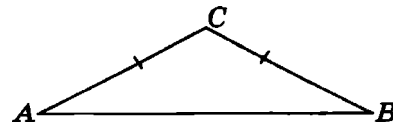
Ответ: _____.

- 5 Найдите корень уравнения $\log_2(16 + x) = \log_2 3$.

Ответ: _____.

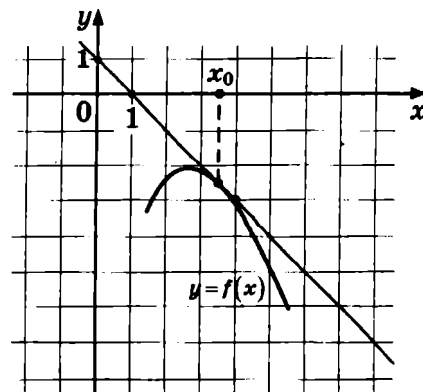
- 6 В треугольнике ABC угол C равен 146° , стороны AC и BC равны. Найдите угол A . Ответ дайте в градусах.

Ответ: _____.



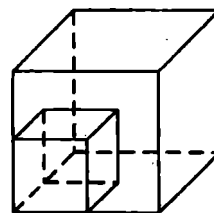
- 7 На рисунке изображены график функции $y = f(x)$ и касательная к нему в точке с абсциссой x_0 . Найдите значение производной функции $f(x)$ в точке x_0 .

Ответ: _____.



- 8 Во сколько раз увеличится площадь поверхности куба, если все его рёбра увеличить в 15 раз?

Ответ: _____.



Не забудьте перенести все ответы в бланк ответов № 1.

Часть 2

- 9 Найдите значение выражения $-29\sqrt{3}\operatorname{tg}(-60^\circ)$.

Ответ: _____.

- 10 Зависимость объёма спроса q (единиц в месяц) на продукцию предприятия-монополиста от цены p (тыс. руб. за ед.) задаётся формулой $q = 95 - 5p$. Выручка предприятия r (в тыс. руб. за месяц) вычисляется по формуле $r(p) = q \cdot p$. Определите наибольшую цену p , при которой месячная выручка $r(p)$ составит не менее 440 тыс. руб. Ответ приведите в тыс. руб. за ед.

Ответ: _____.

- 11 Восемь одинаковых рубашек дешевле куртки на 2%. На сколько процентов двенадцать таких же рубашек дороже куртки?

Ответ: _____.

- 12 Найдите точку минимума функции $y = (14 - x)e^{14-x}$.

Ответ: _____.



Не забудьте перенести все ответы в бланк ответов № 1 в соответствии с инструкцией по выполнению работы.
Проверьте, чтобы каждый ответ был записан в строке с номером соответствующего задания.

Для записи решений и ответов на задания 13–19 используйте БЛАНК ОТВЕТОВ № 2. Запишите сначала номер выполняемого задания (13, 14 и т. д.), а затем полное обоснованное решение и ответ. Ответы записывайте чётко и разборчиво.

13 а) Решите уравнение $2\left(\frac{(x-2)^2}{4} + \frac{25}{(x-2)^2}\right) = \frac{x-2}{2} - \frac{5}{x-2} + 16$.

б) Найдите его корни, принадлежащие отрезку $[3; 8]$.

14 В правильной четырёхугольной призме $ABCA_1B_1C_1D_1$ сторона AB основания равна 6, а боковое ребро AA_1 равно $\sqrt{6}$. На рёбрах BC и C_1D_1 отмечены точки K и L соответственно, причём $CK = 3$, а $C_1L = 2$. Плоскость γ параллельна прямой BD и содержит точки K и L .

а) Докажите, что прямая A_1C перпендикулярна плоскости γ .

б) Найдите объём пирамиды, вершина которой — точка A_1 , а основание — сечение данной призмы плоскостью γ .

15 Решите неравенство $\log_{\sqrt[3]{36}}\left(\log_{\frac{1}{2}}(x+1)\right) \geq 2$.

16 В трапеции $ABCD$ основания AD и BC . Диагональ AC разбивает её на два равнобедренных треугольника с основаниями AD и AB .

а) Докажите, что луч DB — биссектриса угла ADC .

б) Найдите AB , если известны длины диагоналей трапеции: $BD = 24$ и $AC = 12,5$.

17 31 декабря 2016 года Сергей взял в банке 2 648 000 рублей в кредит под 10% годовых. Схема выплаты кредита следующая — 31 декабря каждого следующего года банк начисляет проценты на оставшуюся сумму долга (то есть увеличивает долг на 10%), затем Сергей переводит в банк x рублей. Какой должна быть сумма x , чтобы Сергей выплатил долг тремя равными платежами (то есть за три года)?

18 Найдите все значения a , при каждом из которых система

$$\begin{cases} 2x - 3y + 2z = x^2 + 2y^2 \\ -2x + y + 3z = a \end{cases}$$

имеет единственное решение.

19 На доске были написаны несколько целых чисел. Несколько раз с доски стирали по два числа, сумма которых делится на 5.

а) Может ли сумма всех оставшихся на доске чисел равняться 20, если сначала по одному разу были написаны числа 2, 3, 4, 5, 6, 7, 8, 9, 10, 11, 12 и 13?

б) Может ли на доске остаться ровно два числа, разность между которыми равна 45, если сначала по одному разу были написаны все натуральные числа от 103 до 208 включительно?

в) Известно, что на доске осталось ровно два числа, а сначала по одному разу были написаны все натуральные числа от 103 до 208 включительно. Какое наибольшее значение может получиться, если поделить одно из оставшихся чисел на второе из них?



Проверьте, чтобы каждый ответ был записан рядом с номером соответствующего задания.

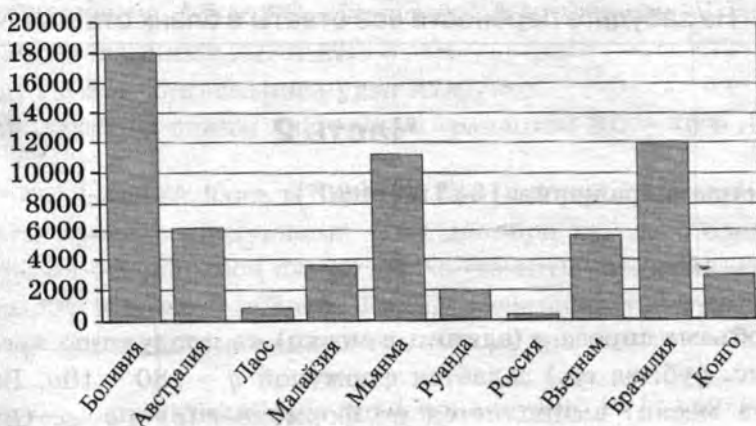
Ответом к заданиям 1–12 является целое число или конечная десятичная дробь. Запишите число в поле ответа в тексте работы, затем перенесите его в БЛАНК ОТВЕТОВ № 1 справа от номера соответствующего задания, начиная с первой клеточки. Каждую цифру, знак «минус» и запятую пишите в отдельной клеточке в соответствии с приведёнными в бланке образцами. Единицы измерений писать не нужно.

Часть 1

- 1 Показания счётчика электроэнергии 1 января составляли 14 836 кВт · ч, а 1 февраля — 15 036 кВт · ч. Сколько нужно заплатить за электроэнергию за январь, если 1 кВт · ч электроэнергии стоит 4 рубля 70 копеек? Ответ дайте в рублях.

Ответ: _____.

- 2 На диаграмме показано распределение выплавки олова в 10 странах мира (в тоннах) за 2016 год. Среди представленных стран первое место по выплавке олова занимала Боливия, десятое место — Россия. Какое место занимала Руанда?



Ответ: _____.

- 3 На клетчатой бумаге с размером клетки 1×1 изображена трапеция. Найдите длину средней линии этой трапеции.



Ответ: _____.

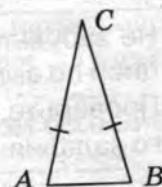
- 4 Семнадцать детей встают в хорювод в случайном порядке. Среди них Серёжа и его сестра Таня. Какова вероятность того, что Серёжа и Таня окажутся рядом?

Ответ: _____.

- 5 Найдите корень уравнения $\log_2 (12 + x) = \log_2 11$.

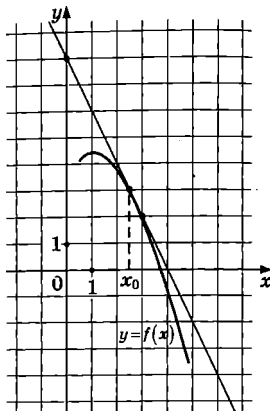
Ответ: _____.

- 6 В треугольнике ABC угол C равен 26° , стороны AC и BC равны. Найдите угол A . Ответ дайте в градусах.



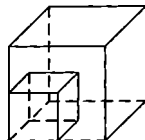
Ответ: _____.

- 7 На рисунке изображены график функции $y = f(x)$ и касательная к нему в точке с абсциссой x_0 . Найдите значение производной функции $f(x)$ в точке x_0 .



Ответ: _____.

- 8 Во сколько раз увеличится площадь поверхности куба, если все его рёбра увеличить в 17 раз?



Ответ: _____.

Не забудьте перенести все ответы в бланк ответов № 1.

Часть 2

- 9 Найдите значение выражения $13\sqrt{3}\operatorname{tg}(-930^\circ)$.

Ответ: _____.

- 10 Зависимость объёма спроса q (единиц в месяц) на продукцию предприятия-монополиста от цены p (тыс. руб. за ед.) задаётся формулой $q = 180 - 10p$. Выручка предприятия r (в тыс. руб. за месяц) вычисляется по формуле $r(p) = q \cdot p$. Определите наибольшую цену p , при которой месячная выручка $r(p)$ составит не менее 450 тыс. руб. Ответ приведите в тыс. руб. за ед.

Ответ: _____.

- 11 Одиннадцать одинаковых рубашек дешевле куртки на 1%. На сколько процентов четырнадцать таких же рубашек дороже куртки?

Ответ: _____.

- 12 Найдите точку минимума функции $y = (18 - x)e^{18 - x}$.

Ответ: _____.



Не забудьте перенести все ответы в бланк ответов № 1 в соответствии с инструкцией по выполнению работы. Проверьте, чтобы каждый ответ был записан в строке с номером соответствующего задания.

Для записи решений и ответов на задания 13–19 используйте БЛАНК ОТВЕТОВ № 2. Запишите сначала номер выполняемого задания (13, 14 и т. д.), а затем полное обоснованное решение и ответ. Ответы записывайте чётко и разборчиво.

13 а) Решите уравнение $\frac{9}{(x+1)^2} + \frac{(x+1)^2}{16} = 3 \cdot \left(\frac{3}{x+1} - \frac{x+1}{4} \right) - \frac{1}{2}$.

б) Найдите его корни, принадлежащие отрезку $[0; 2]$.

14 В правильной четырёхугольной призме $ABCD A_1 B_1 C_1 D_1$ сторона AB основания равна 8, а боковое ребро AA_1 равно 4. На рёбрах BC и $C_1 D_1$ отмечены точки K и L соответственно, причём $CK = 5$, а $C_1 L = 3$. Плоскость γ параллельна прямой BD и содержит точки K и L .

а) Докажите, что прямая $A_1 C$ перпендикулярна плоскости γ .

б) Найдите объём пирамиды, вершина которой — точка A_1 , а основание — сечение данной призмы плоскостью γ .

15 Решите неравенство $\log_{\sqrt[8]{16}} \left(\log_{\frac{1}{4}} (x+2) \right) \geq 2$.

16 В трапеции $ABCD$ основания AD и BC . Диагональ AC разбивает её на два равнобедренных треугольника с основаниями AD и AB .

а) Докажите, что луч DB — биссектриса угла ADC .

б) Найдите AB , если известны длины диагоналей трапеции: $BD = 16$ и $AC = 10$.

17 31 декабря 2016 года Алексей взял в банке 2 184 000 рублей в кредит под 20% годовых. Схема выплаты кредита следующая — 31 декабря каждого следующего года банк начисляет проценты на оставшуюся сумму долга (то есть увеличивает долг на 20%), затем Алексей переводит в банк x рублей. Какой должна быть сумма x , чтобы Алексей выплатил долг тремя равными платежами (то есть за три года)?

18 Найдите все значения a , при каждом из которых система

$$\begin{cases} x + y + z = 2x^2 + 3y^2 \\ -x + 2y + 3z = a \end{cases}$$

имеет единственное решение.

19 На доске были написаны несколько целых чисел. Несколько раз с доски стирали по два числа, сумма которых делится на 5.

а) Может ли сумма всех оставшихся на доске чисел равняться 24, если сначала по одному разу были написаны числа 3, 4, 5, 6, 7, 8, 9, 10, 11, 12, 13 и 14?

б) Может ли на доске остаться ровно два числа, разность между которыми равна 45, если сначала по одному разу были написаны все натуральные числа от 53 до 158 включительно?

в) Известно, что на доске осталось ровно два числа, а сначала по одному разу были написаны все натуральные числа от 53 до 158 включительно. Какое наибольшее значение может получиться, если поделить одно из оставшихся чисел на второе из них?



Проверьте, чтобы каждый ответ был записан рядом с номером соответствующего задания.

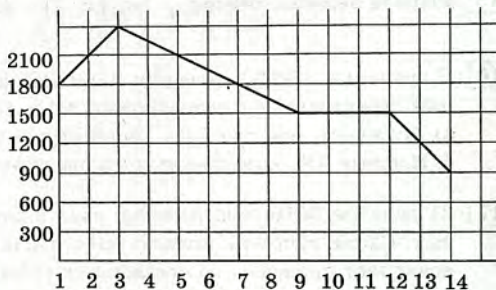
Ответом к заданиям 1–12 является целое число или конечная десятичная дробь. Запишите число в поле ответа в тексте работы, затем перенесите его в БЛАНК ОТВЕТОВ № 1 справа от номера соответствующего задания, начиная с первой клеточки. Каждую цифру, знак «минус» и запятую пишите в отдельной клеточке в соответствии с приведёнными в бланке образцами. Единицы измерений писать не нужно.

Часть 1

- 1 Железнодорожный билет для взрослого стоит 520 рублей. Стоимость билета для школьника составляет 50% от стоимости билета для взрослого. Группа состоит из 16 школьников и 3 взрослых. Сколько рублей стоят билеты на всю группу?

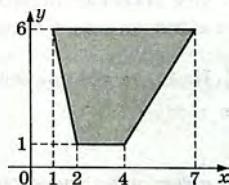
Ответ: _____.

- 2 На графике, изображённом на рисунке, представлено изменение биржевой стоимости акций газодобывающей компании в первые две недели ноября. 2 ноября инвестор приобрёл 10 акций этой компании. Шесть из них он продал 6 ноября, а 13 ноября — остальные 4. Сколько рублей потерял инвестор в результате этих операций?



Ответ: _____.

- 3 Найдите площадь трапеции, вершинами которой являются точки с координатами (1; 6), (7; 6), (4; 1), (2; 1).



Ответ: _____.

- 4 Андрей отправляет СМС другу. Связь не очень устойчивая, поэтому каждая попытка отправить СМС имеет вероятность успеха 0,8. Найдите вероятность того, что СМС будет отправлена с третьей попытки.

Ответ: _____.

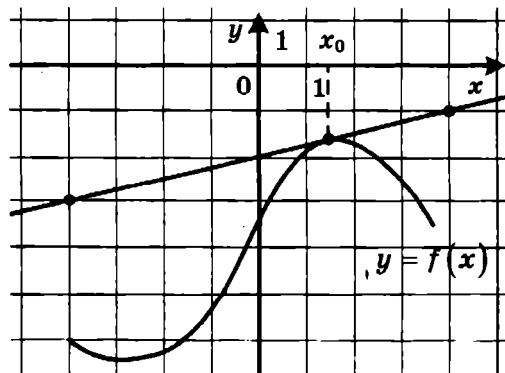
- 5 Найдите корень уравнения $x^2 - 15 = (x - 15)^2$.

Ответ: _____.

- 6 Концы отрезка AB лежат по разные стороны от прямой l . Расстояние от точки A до прямой l равно 7, а расстояние от точки B до прямой l равно 13. Найдите расстояние от середины отрезка AB до прямой l .

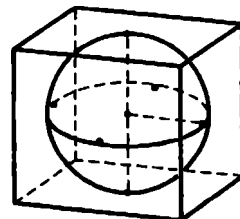
Ответ: _____.

- 7 На рисунке изображены график функции $y = f(x)$ и касательная к нему в точке с абсциссой x_0 . Найдите значение производной функции $f(x)$ в точке x_0 .



Ответ: _____.

- 8 Шар, объём которого равен 14π , вписан в куб. Найдите объём куба.



Ответ: _____.

Не забудьте перенести все ответы в бланк ответов № 1.

Часть 2

- 9 Вычислите значение выражения $3^{\log_3 7} + 49^{\log_7 \sqrt{13}}$.

Ответ: _____.

- 10 Коэффициент полезного действия (КПД) некоторого двигателя определяется формулой $\eta = \frac{T_1 - T_2}{T_1} \cdot 100\%$, где T_1 — температура нагревателя (в кельвинах), T_2 — температура холодильника (в кельвинах). При какой температуре нагревателя T_1 КПД двигателя будет 15%, если температура холодильника $T_2 = 340$ К? Ответ дайте в кельвинах.

Ответ: _____.

- 11 Из пункта А круговой трассы, длина которой равна 30 км, одновременно в одном направлении стартовали два автомобилиста. Скорость первого равна 92 км/ч, скорость второго — 77 км/ч. Через сколько минут первый автомобилист будет опережать второго ровно на один круг?

Ответ: _____.

- 12 Найдите наибольшее значение функции $y = 6 \sin x - 3\sqrt{3}x + 0,5\sqrt{3}\pi + 6$ на отрезке $\left[0; \frac{\pi}{2}\right]$.

Ответ: _____.



Не забудьте перенести все ответы в бланк ответов № 1 в соответствии с инструкцией по выполнению работы.
Проверьте, чтобы каждый ответ был записан в строке с номером соответствующего задания.

Для записи решений и ответов на задания 13–19 используйте БЛАНК ОТВЕТОВ № 2. Запишите сначала номер выполняемого задания (13, 14 и т. д.), а затем полное обоснованное решение и ответ. Ответы записывайте чётко и разборчиво.

- 13) а) Решите уравнение $6 \sin^2 x + 7 \cos x - 7 = 0$.
б) Найдите все корни этого уравнения, принадлежащие отрезку $[-3\pi; -\pi]$.
- 14) В прямоугольном параллелепипеде $ABCD A_1 B_1 C_1 D_1$ известны длины рёбер $AA_1 = 7$, $AB = 16$, $AD = 6$. Точка K — середина ребра $C_1 D_1$.
а) Докажите, что плоскость, проходящая через точку B перпендикулярно прямой AK , пересекает отрезок $A_1 K$.
б) Найдите тангенс угла между этой плоскостью и плоскостью ABC .
- 15) Решите неравенство $x^3 + 6x^2 + \frac{28x^2 + 2x - 10}{x - 5} \leq 2$.
- 16) На катетах AC и BC прямоугольного треугольника ABC вне треугольника построены квадраты $ACDE$ и $BFKC$. Точка M — середина гипотенузы AB , H — точка пересечения прямых CM и DK .
а) Докажите, что прямые CM и DK перпендикулярны.
б) Найдите MH , если известно, что катеты треугольника ABC равны 130 и 312.
- 17) 15 января планируется взять кредит в банке на 18 месяцев. Условия его возврата таковы:
— 1-го числа каждого месяца долг возрастает на 2% по сравнению с концом предыдущего месяца;
— со 2-го по 14-е число каждого месяца необходимо выплатить часть долга;
— 15-го числа каждого месяца долг должен быть на одну и ту же величину меньше долга на 15-е число предыдущего месяца.
Сколько процентов от суммы кредита составляет общая сумма денег, которую нужно выплатить банку за весь срок кредитования?
- 18) Найдите все значения a , при каждом из которых уравнение

$$\left| 10 \cdot 0,2^{1-x} - a \right| - \left| 5^x + 2a \right| = 0,04^{-x}$$

имеет ровно два неотрицательных решения.

- 19) Конечная возрастающая последовательность a_1, a_2, \dots, a_n состоит из $n \geq 3$ натуральных чисел, причём при всех натуральных $k \leq n-2$ выполнено равенство $3a_{k+2} = 5a_{k+1} - 2a_k$.
а) Приведите пример такой последовательности при $n = 4$.
б) Может ли в такой последовательности при некотором $n \geq 3$ выполняться равенство $a_n = 3a_2 - 2a_1$?
в) Какое наименьшее значение может принимать a_1 , если $a_n = 667$?



Проверьте, чтобы каждый ответ был записан рядом с номером соответствующего задания.

ВАРИАНТ 4

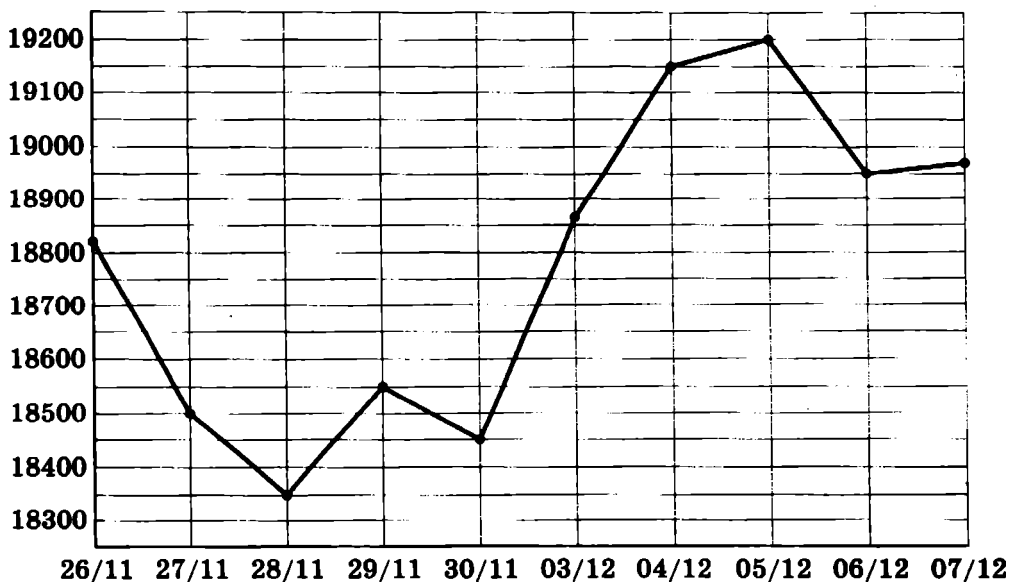
Ответом к заданиям 1–12 является целое число или конечная десятичная дробь. Запишите число в поле ответа в тексте работы, затем перенесите его в БЛАНК ОТВЕТОВ № 1 справа от номера соответствующего задания, начиная с первой клеточки. Каждую цифру, знак «минус» и запятую пишите в отдельной клеточке в соответствии с приведёнными в бланке образцами. Единицы измерений писать не нужно.

Часть 1

- 1 Показания счётчика электроэнергии 1 ноября составляли 12 625 кВт · ч, а 1 декабря — 12 802 кВт · ч. Сколько нужно заплатить за электроэнергию за ноябрь, если 1 кВт · ч электроэнергии стоит 4 рубля 50 копеек? Ответ дайте в рублях.

Ответ: _____.

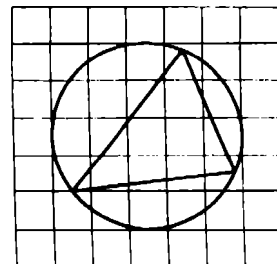
- 2 На рисунке жирными точками показана цена олова на момент закрытия биржевых торгов во все рабочие дни с 26 ноября по 7 декабря 2018 года. По горизонтали указаны числа месяца, по вертикали — цена олова в долларах США за тонну. Для наглядности жирные точки на рисунке соединены линиями.



Определите по рисунку наименьшую цену олова на момент закрытия торгов за данный период. Ответ дайте в долларах США за тонну.

Ответ: _____.

- 3 На клетчатой бумаге с размером клетки 1×1 изображён треугольник. Найдите радиус описанной около него окружности.



Ответ: _____.

- 4 В торговом центре два одинаковых автомата продают чай. Вероятность того, что к концу дня в автомате закончится чай, равна 0,4. Вероятность того, что чай закончится в обоих автоматах, равна 0,2. Найдите вероятность того, что к концу дня чай останется в обоих автоматах.

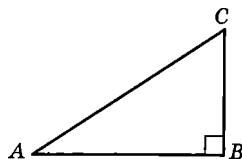
Ответ: _____.

- 5 Решите уравнение $3^{x-3} = 27$.

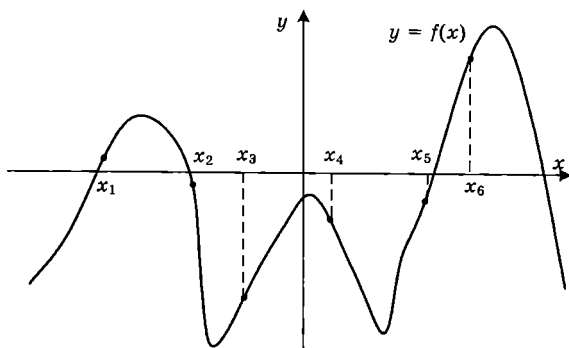
Ответ: _____.

- 6 Один острый угол прямоугольного треугольника на 30° больше другого. Найдите больший острый угол. Ответ дайте в градусах.

Ответ: _____.



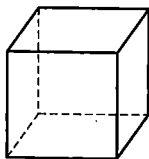
- 7 На рисунке изображён график функции $y = f(x)$. Найдите среди точек x_1, x_2, x_3, x_4, x_5 и x_6 те точки, в которых производная функции $f(x)$ отрицательна. В ответ запишите количество найденных точек.



Ответ: _____.

- 8 Во сколько раз увеличится объём куба, если все его рёбра увеличить в семь раз?

Ответ: _____.



Не забудьте перенести все ответы в бланк ответов № 1.

- 9 Найдите значение выражения $(\sqrt{12} - \sqrt{6})(\sqrt{12} + \sqrt{6})$.

Ответ: _____.

- 10 Установка для демонстрации адиабатического сжатия представляет собой сосуд с поршнем, резко сжимающим газ. При этом объём и давление связаны соотношением $p_1 V_1^{1,4} = p_2 V_2^{1,4}$, где p_1 и p_2 — давление газа (в атмосферах) в начальном и конечном состояниях, V_1 и V_2 — объём газа (в литрах) в начальном и конечном состояниях. Изначально объём газа равен 313,6 л, а давление газа равно одной атмосфере. До какого объёма нужно сжать газ, чтобы давление в сосуде стало 128 атмосфер? Ответ дайте в литрах.

Ответ: _____.

- 11 Брюки дороже рубашки на 30% и дешевле пиджака на 22%. На сколько процентов рубашка дешевле пиджака?

Ответ: _____.

- 12 Найдите точку минимума функции $y = (1 - 2x)\cos x + 2\sin x + 3$, принадлежащую промежутку $(0; \frac{\pi}{2})$.

Ответ: _____.



Не забудьте перенести все ответы в бланк ответов № 1 в соответствии с инструкцией по выполнению работы. Проверьте, чтобы каждый ответ был записан в строке с номером соответствующего задания.

Для записи решений и ответов на задания 13–19 используйте БЛАНК ОТВЕТОВ № 2. Запишите сначала номер выполняемого задания (13, 14 и т. д.), а затем полное обоснованное решение и ответ. Ответы записывайте чётко и разборчиво.

- 13 а) Решите уравнение $\frac{\sqrt{3}\operatorname{tg} x + 1}{2\sin x - 1} = 0$.

б) Найдите все корни этого уравнения, принадлежащие отрезку $[\frac{9\pi}{2}; 6\pi]$.

14. В правильной шестиугольной пирамиде $SABCDEF$ с вершиной S боковое ребро вдвое больше стороны основания.

а) Докажите, что плоскость, проходящая через середины рёбер SA и SD и вершину C , делит апофему грани ASB в отношении 2 : 1, считая от вершины S .

б) Найдите отношение, в котором плоскость, проходящая через середины рёбер SA и SD и вершину C , делит ребро SF , считая от вершины S .

15) Решите неравенство $4^{x-3} - 71 \cdot 2^{x-6} + 7 \leq 0$.

16) Отрезок, соединяющий середины M и N оснований BC и AD соответственно трапеции $ABCD$, разбивает её на две трапеции, в каждую из которых можно вписать окружность.
а) Докажите, что трапеция $ABCD$ равнобедренная.
б) Известно, что радиус этих окружностей равен 3, а меньшее основание BC исходной трапеции равно 8. Найдите радиус окружности, касающейся боковой стороны AB , основания AN трапеции $ABMN$ и вписанной в неё окружности.

17) 15 января планируется взять кредит в банке на 24 месяца. Условия его возврата таковы:
— 1-го числа каждого месяца долг возрастает на 1% по сравнению с концом предыдущего месяца;
— со 2-го по 14-е число каждого месяца необходимо выплатить часть долга;
— 15-го числа каждого месяца долг должен быть на одну и ту же величину меньше долга на 15-е число предыдущего месяца.
Известно, что за первые 12 месяцев нужно выплатить банку 177,75 тыс. рублей. Какую сумму планируется взять в кредит?

18) Найдите все положительные значения a , при каждом из которых множество решений неравенства

$$1 \leq \frac{a + x^2 + 2\log_5(a^2 - 4a + 5)}{30\sqrt{17x^4 + 5x^2} + a + 1 + \log_5^2(a^2 - 4a + 5)}$$

состоит из одной точки. Найдите это решение.

19) Про три различных натуральных числа известно, что они являются длинами сторон некоторого тупоугольного треугольника.

а) Могло ли отношение большего из этих чисел к меньшему из них быть равно $\frac{13}{7}$?

б) Могло ли отношение большего из этих чисел к меньшему из них быть равно $\frac{8}{7}$?

в) Какое наименьшее значение может принимать отношение большего из этих чисел к меньшему из них, если известно, что среднее по величине из этих чисел равно 25?



Проверьте, чтобы каждый ответ был записан рядом с номером соответствующего задания.

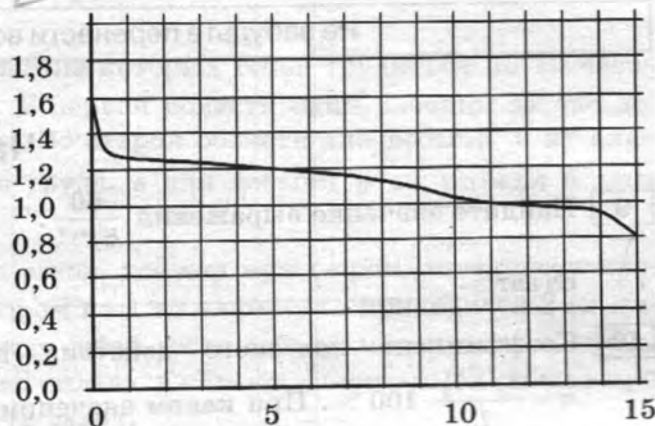
Ответом к заданиям 1–12 является целое число или конечная десятичная дробь. Запишите число в поле ответа в тексте работы, затем перенесите его в БЛАНК ОТВЕТОВ № 1 справа от номера соответствующего задания, начиная с первой клеточки. Каждую цифру, знак «минус» и запятую пишите в отдельной клеточке в соответствии с приведёнными в бланке образцами. Единицы измерений писать не нужно.

Часть 1

- 1 По тарифному плану «Просто как день» компания сотовой связи каждый вечер снимает со счёта абонента 18 рублей. Если на счёту осталось меньше 18 рублей, то на следующее утро номер блокируют до пополнения счёта. Сегодня утром у Лизы на счёту было 500 рублей. Сколько дней (включая сегодняшний) она сможет пользоваться телефоном, не пополняя счёт?

Ответ: _____.


- 2 При работе фонарика батарейка постепенно разряжается, и напряжение в электрической цепи фонарика падает. На рисунке показана зависимость напряжения в цепи от времени работы фонарика. На горизонтальной оси отмечается время работы фонарика в часах, на вертикальной оси — напряжение в вольтах. Определите по рисунку, какое напряжение будет в цепи через 15 часов работы фонарика. Ответ дайте в вольтах.



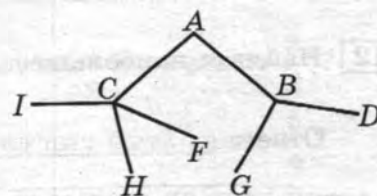
Ответ: _____.

- 3 На клетчатой бумаге с размером клетки 1×1 изображена трапеция. Найдите её площадь.

Ответ: _____.



- 4 Павел Иванович совершает прогулку из точки A по дорожкам парка. На каждой развилке он наудачу выбирает следующую дорожку, не возвращаясь обратно. Схема дорожек показана на рисунке. Найдите вероятность того, что Павел Иванович попадёт в точку G.

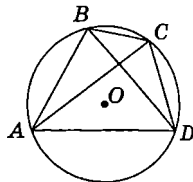


Ответ: _____.

- 5 Найдите корень уравнения $\log_{\frac{1}{5}}(5 - x) = -2$.

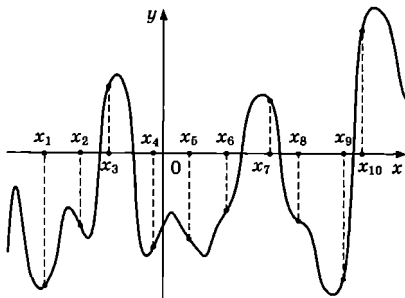
Ответ: _____.

- 6 Четырёхугольник $ABCD$ вписан в окружность. Угол ABC равен 132° , угол ABD равен 61° . Найдите угол CAD . Ответ дайте в градусах.



Ответ: _____.

- 7 На рисунке изображены график функции $y = f(x)$ и десять точек на оси абсцисс: $x_1, x_2, x_3, \dots, x_{10}$. В скольких из этих точек производная $f'(x)$ функции $f(x)$ положительна?



Ответ: _____.

- 8 Бетонный шар весит 0,5 т. Сколько тонн будет весить шар вдвое большего радиуса, сделанный из такого же бетона?

Ответ: _____.

Не забудьте перенести все ответы в бланк ответов № 1.

Часть 2

- 9 Найдите значение выражения $\frac{60}{6^{\log_6 5}}$.

Ответ: _____.

- 10 Коэффициент полезного действия некоторого двигателя определяется формулой $\eta = \frac{T_1 - T_2}{T_1} \cdot 100\%$. При каком значении температуры нагревателя T_1 (в кельвинах) КПД этого двигателя будет 80%, если температура холодильника $T_2 = 200$ К?

Ответ: _____.

- 11 Толстовка дороже футболки на 19% и дешевле, чем кеды, на 30%. На сколько процентов кеды дороже футболки?

Ответ: _____.

- 12 Найдите наибольшее значение функции $y = 13x - 13\lg x - 18$ на отрезке $\left[0; \frac{\pi}{4}\right]$.

Ответ: _____.



Не забудьте перенести все ответы в бланк ответов № 1 в соответствии с инструкцией по выполнению работы.
Проверьте, чтобы каждый ответ был записан в строке с номером соответствующего задания.

Для записи решений и ответов на задания 13–19 используйте БЛАНК ОТВЕТОВ № 2. Запишите сначала номер выполняемого задания (13, 14 и т. д.), а затем полное обоснованное решение и ответ. Ответы записывайте чётко и разборчиво.

- 13** а) Решите уравнение $5 \cdot 4^{x^2+4x} + 20 \cdot 10^{x^2+4x-1} - 7 \cdot 25^{x^2+4x} = 0$.
б) Найдите все корни этого уравнения, принадлежащие отрезку $[-3; 1]$.
- 14** В правильной треугольной призме $ABCA_1B_1C_1$ сторона основания $AB = 7\sqrt{3}$, а боковое ребро $AA_1 = 8$.
а) Докажите, что плоскость BCA_1 перпендикулярна плоскости, проходящей через ребро AA_1 и середину ребра B_1C_1 .
б) Найдите тангенс угла между плоскостями BCA_1 и BB_1C_1 .
- 15** Решите неравенство $x + \frac{20}{x+6} \geq 6$.
- 16** На сторонах AC и BC треугольника ABC вне треугольника построены квадраты $ACDE$ и $BFKC$. Точка M — середина стороны AB .
а) Докажите, что $CM = \frac{1}{2} DK$.
б) Найдите расстояния от точки M до центров квадратов, если $AC = 14$, $BC = 16$ и $\angle ACB = 150^\circ$.
- 17** В двух областях есть по 50 рабочих, каждый из которых готов трудиться по 10 часов в сутки на добыче алюминия или никеля. В первой области один рабочий за час добывает 0,2 кг алюминия или 0,1 кг никеля. Во второй области для добычи x кг алюминия в день требуется x^2 человеко-часов труда, а для добычи y кг никеля в день требуется y^2 человеко-часов труда.
Обе области поставляют добытый металл на завод, где для нужд промышленности производится сплав алюминия и никеля, в котором на 1 кг алюминия приходится 2 кг никеля. При этом области договариваются между собой вести добычу металлов так, чтобы завод мог произвести наибольшее количество сплава. Сколько килограммов сплава при таких условиях ежедневно сможет произвести завод?
- 18** Найдите все значения k , при каждом из которых уравнение $\frac{6k - (2 - 3k) \cos t}{\sin t - \cos t} = 2$ имеет хотя бы одно решение на отрезке $\left[0; \frac{\pi}{2}\right]$.
- 19** Три различных натуральных числа являются длинами сторон некоторого тупоугольного треугольника.
а) Может ли отношение большего из этих чисел к меньшему из них быть равно $\frac{3}{2}$?
б) Может ли отношение большего из этих чисел к меньшему из них быть равно $\frac{5}{4}$?
в) Какое наименьшее значение может принимать отношение большего из этих чисел к меньшему из них, если известно, что среднее по величине число равно 18?



Проверьте, чтобы каждый ответ был записан рядом с номером соответствующего задания.

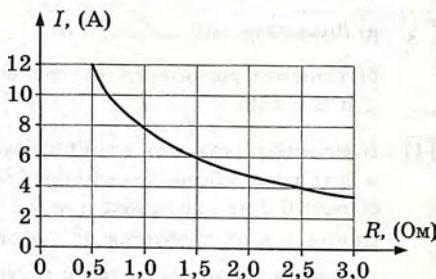
Ответом к заданиям 1–12 является целое число или конечная десятичная дробь. Запишите число в поле ответа в тексте работы, затем перенесите его в БЛАНК ОТВЕТОВ № 1 справа от номера соответствующего задания, начиная с первой клеточки. Каждую цифру, знак «минус» и запятую пишите в отдельной клеточке в соответствии с приведёнными в бланке образцами. Единицы измерений писать не нужно.

Часть 1

- 1 В доме, в котором живёт Женья, один подъезд. На каждом этаже по восемь квартир. Женья живёт в квартире 87. На каком этаже живёт Женья?

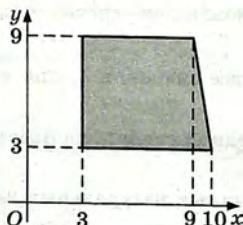
Ответ: _____.

- 2 Мощность отопителя в автомобиле регулируется дополнительным сопротивлением. При этом меняется сила тока в электрической цепи электродвигателя: чем меньше сопротивление, тем больше сила тока и тем быстрее вращается мотор отопителя. На графике показана зависимость силы тока от величины сопротивления. На горизонтальной оси отмечено сопротивление в омах, на вертикальной оси — сила тока в амперах. Определите по графику, на сколько ампер уменьшилась сила тока при увеличении сопротивления с 0,5 до 2,5 Ом.



Ответ: _____.

- 3 Найдите площадь прямоугольной трапеции, вершины которой имеют координаты (3; 3), (10; 3), (9; 9), (3; 9).



Ответ: _____.

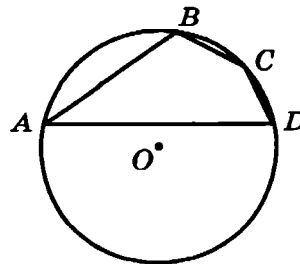
- 4 В сборнике билетов по истории всего 50 билетов, в 13 из них встречается вопрос о Великой Отечественной войне. Найдите вероятность того, что в случайно выбранном на экзамене билете школьнику достанется вопрос о Великой Отечественной войне.

Ответ: _____.

- 5 Найдите корень уравнения $\frac{1}{9x+2} = \frac{1}{8x-4}$.

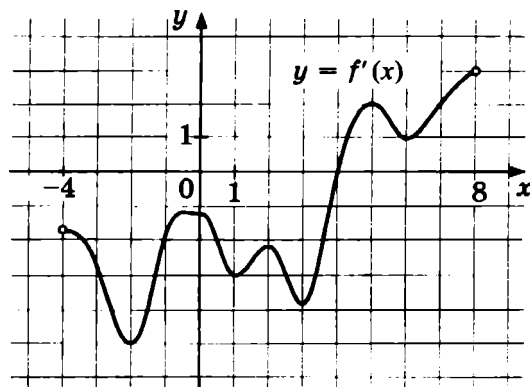
Ответ: _____.

- 6 Угол A четырёхугольника $ABCD$, вписанного в окружность, равен 25° . Найдите угол C четырёхугольника. Ответ дайте в градусах.



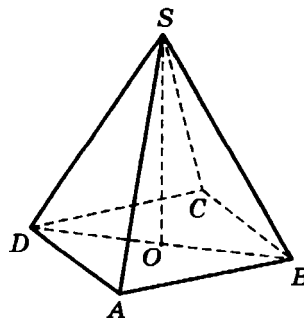
Ответ: _____.

- 7 На рисунке изображён график производной $y = f'(x)$ функции $f(x)$, определённой на интервале $(-4; 8)$. В какой точке отрезка $[-3; 1]$ функция $f(x)$ принимает наименьшее значение?



Ответ: _____.

- 8 В правильной четырёхугольной пирамиде $SABCD$ точка O — центр основания, S — вершина, $SA = 10$, $BD = 16$. Найдите длину отрезка SO .



Ответ: _____.

Не забудьте перенести все ответы в бланк ответов № 1.

Часть 2

- 9 Найдите значение выражения $-\frac{22}{\cos^2 34^\circ + \cos^2 124^\circ}$.

Ответ: _____.

- 10 Установка для демонстрации адиабатического сжатия представляет собой сосуд с поршнем, резко сжимающим газ. При этом объём и давление связаны соотношением $p_1 V_1^{1.4} = p_2 V_2^{1.4}$, где p_1 и p_2 — давление газа (в атмосферах) в начальном и конечном состояниях, V_1 и V_2 — объём газа (в литрах) в начальном и конечном состояниях. Изначально объём газа равен 256 л, а давление газа равно одной атмосфере. До какого объёма нужно сжать газ, чтобы давление в сосуде стало 128 атмосфер? Ответ дайте в литрах.

Ответ: _____.

- 11 Плиточник должен уложить 300 м^2 плитки. Если он будет укладывать на 5 м^2 в день больше, чем запланировал, то закончит работу на 5 дней раньше, чем наметил. Сколько квадратных метров плитки в день планирует укладывать плиточник?

Ответ: _____.

12 Найдите точку максимума функции $y = -\frac{x^2 + 49}{x}$.

Ответ: _____.



Не забудьте перенести все ответы в бланк ответов № 1 в соответствии с инструкцией по выполнению работы.
Проверьте, чтобы каждый ответ был записан в строке с номером соответствующего задания.

Для записи решений и ответов на задания 13–19 используйте БЛАНК ОТВЕТОВ № 2. Запишите сначала номер выполняемого задания (13, 14 и т. д.), а затем полное обоснованное решение и ответ. Ответы записывайте чётко и разборчиво.

13 а) Решите уравнение $\operatorname{tg}^2 x + 5 \operatorname{tg} x + 6 = 0$.

б) Найдите все корни этого уравнения, принадлежащие отрезку $\left[-2\pi; -\frac{\pi}{2}\right]$.

14 Ребро SA пирамиды $SABC$ перпендикулярно плоскости основания ABC .

а) Докажите, что высота пирамиды, проведённая из точки A , делится плоскостью, проходящей через середины рёбер AB , AC и SA , пополам.

б) Найдите расстояние от вершины A до этой плоскости, если $SA = \sqrt{5}$, $AB = AC = 5$, $BC = 2\sqrt{5}$.

15 Решите неравенство $\log_{x+1}^2(x+1)^4 + \log_2(x+1)^2 \leq 22$.

16 Точки B_1 и C_1 лежат на сторонах соответственно AC и AB треугольника ABC , причём $AB_1 : B_1C = AC_1 : C_1B$. Прямые BB_1 и CC_1 пересекаются в точке O .

а) Докажите, что прямая AO делит пополам сторону BC .

б) Найдите отношение площади четырёхугольника AB_1OC_1 к площади треугольника ABC , если известно, что $AB_1 : B_1C = AC_1 : C_1B = 1 : 4$.

17 Тимофей хочет взять в кредит 1,1 млн рублей. Погашение кредита происходит раз в год равными суммами (кроме, может быть, последней) после начисления процентов. Ставка процента 10% годовых. На какое минимальное количество лет Тимофей может взять кредит, чтобы ежегодные выплаты были не более 270 тысяч рублей?

18 Найдите все значения a , при каждом из которых уравнение

$$64x^6 + 4x^2 = (3x + a)^3 + 3x + a$$

не имеет корней.

19 Конечная последовательность a_1, a_2, \dots, a_n состоит из $n \geq 3$ натуральных чисел, причём при всех натуральных $k \leq n-2$ выполнено равенство $a_{k+2} = 2a_{k+1} - a_k - 1$.

а) Приведите пример такой последовательности при $n = 5$, в которой $a_3 = 4$.

б) Может ли в такой последовательности некоторое натуральное число встретиться три раза?

в) При каком наибольшем n такая последовательность может состоять только из трёхзначных чисел?



Проверьте, чтобы каждый ответ был записан рядом с номером соответствующего задания.

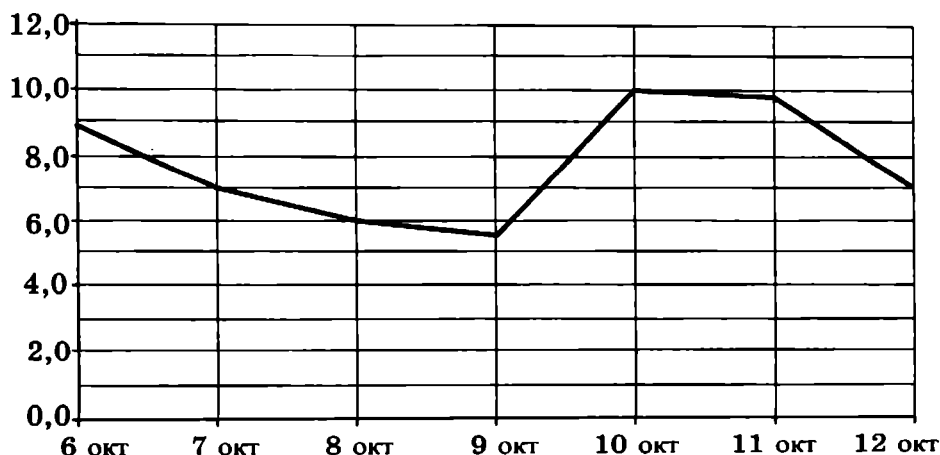
Ответом к заданиям 1–12 является целое число или конечная десятичная дробь. Запишите число в поле ответа в тексте работы, затем перенесите его в БЛАНК ОТВЕТОВ № 1 справа от номера соответствующего задания, начиная с первой клеточки. Каждую цифру, знак «минус» и запятую пишите в отдельной клеточке в соответствии с приведёнными в бланке образцами. Единицы измерений писать не нужно.

Часть 1

- 1** Поезд Москва—Ижевск отправляется в 17:41, а прибывает в 10:41 на следующий день (время московское). Сколько часов поезд находится в пути?

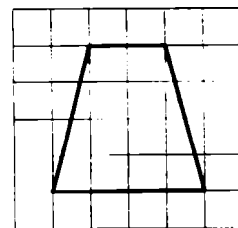
Ответ: _____.

- 2** На рисунке изображён график среднесуточной температуры в г. Саратове в период с 6 по 12 октября 1969 г. На оси абсцисс откладываются числа, на оси ординат — температура в градусах Цельсия. Определите, какая была средняя температура 8 октября. Ответ дайте в градусах Цельсия.



Ответ: _____.

- 3** На клетчатой бумаге с размером клетки 1×1 изображена трапеция. Найдите длину средней линии этой трапеции.



Ответ: _____.

- 4** В каждой пятой банке кофе согласно условиям акции есть приз. Призы распределены по банкам случайно. Галя покупает банку кофе в надежде выиграть приз. Найдите вероятность того, что Галя не найдёт приз в своей банке.

Ответ: _____.

5 Найдите корень уравнения $\sqrt{\frac{5}{7x-49}} = \frac{1}{7}$.

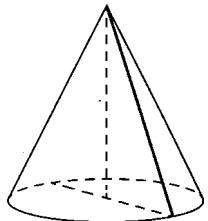
Ответ: _____.

- 6 В прямоугольном треугольнике высота, проведённая к гипотенузе, делит прямой угол на два угла, один из которых равен 56° . Найдите меньший угол данного треугольника. Ответ дайте в градусах.

Ответ: _____.

- 7 Материальная точка движется прямолинейно по закону $x(t) = t^2 + 3t + 23$, где x — расстояние от точки отсчёта в метрах, t — время в секундах, измеренное с начала движения. Найдите её скорость (в метрах в секунду) в момент времени $t = 9$ с.

- 8 Высота конуса равна 30, а диаметр основания равен 32. Найдите образующую конуса.



Ответ: _____.

Не забудьте перенести все ответы в бланк ответов № 1.

Часть 2

- 9 Найдите значение выражения $\frac{4 \sin 17^\circ \cos 17^\circ}{\cos 56^\circ}$.

Ответ: _____.

- 10 Для одного из предприятий-монополистов зависимость объёма спроса на продукцию q (единиц в месяц) от её цены p (тыс. руб.) задаётся формулой: $q = 100 - 10p$. Определите наименьшую цену p (в тыс. руб.), при которой выручка предприятия за месяц $r = q \cdot p$ составит 210 тыс. руб.

Ответ: _____.

- 11 Заказ на 140 деталей первый рабочий выполняет на 4 часа быстрее, чем второй. Сколько деталей в час делает второй рабочий, если известно, что первый за час делает на 4 детали больше?

Ответ: _____.

- 12 Найдите наименьшее значение функции $y = e^{2x} - 6e^x + 7$ на отрезке $[0; 2]$.

Ответ: _____.



Не забудьте перенести все ответы в бланк ответов № 1 в соответствии с инструкцией по выполнению работы.

Проверьте, чтобы каждый ответ был записан в строке с номером соответствующего задания.

Для записи решений и ответов на задания 13–19 используйте БЛАНК ОТВЕТОВ № 2. Запишите сначала номер выполняемого задания (13, 14 и т. д.), а затем полное обоснованное решение и ответ. Ответы записывайте чётко и разборчиво.

13 а) Решите уравнение $\frac{3 \operatorname{ctg}^2 x + 4 \operatorname{ctg} x}{5 \cos^2 x - 4 \cos x} = 0$.

б) Найдите все корни этого уравнения, принадлежащие отрезку $\left[\frac{5\pi}{2}; 5\pi\right]$.

14 В пирамиде $SABC$ известны длины рёбер $AB = AC = SB = SC = 10$, $BC = SA = 12$. Точка K — середина ребра BC .

а) Докажите, что плоскость SAK перпендикулярна плоскости ABC .

б) Найдите расстояние между прямыми SA и BC .

15 Решите неравенство $\log_{|x|}^2(x^2) + \log_2(x^2) \leq 8$.

16 На отрезке BD взята точка C . Биссектриса BL равнобедренного треугольника ABC с основанием BC является боковой стороной равнобедренного треугольника BLD с основанием BD .

а) Докажите, что треугольник DCL равнобедренный.

б) Известно, что $\cos \angle ABC = \frac{1}{6}$. В каком отношении прямая DL делит сторону AB ?

17 15 января планируется взять кредит в банке на 24 месяца. Условия его возврата таковы:
— 1-го числа каждого месяца долг возрастает на 1% по сравнению с концом предыдущего месяца;

— со 2-го по 14-е число каждого месяца необходимо выплатить часть долга;

— 15-го числа каждого месяца долг должен быть на одну и ту же величину меньше долга на 15-е число предыдущего месяца.

Известно, что в течение второго года кредитования нужно вернуть банку 958,5 тыс. рублей. Какую сумму нужно выплатить банку за первые 12 месяцев?

18 Найдите все значения a , при каждом из которых уравнение

$$27x^6 + (a - 2x)^3 + 9x^2 + 3a = 6x$$

не имеет корней.

19 Пусть q — наименьшее общее кратное, а d — наибольший общий делитель натуральных чисел x и y , удовлетворяющих равенству $7x = 16y - 73$.

а) Может ли $\frac{q}{d}$ быть равным 204?

б) Может ли $\frac{q}{d}$ быть равным 2?

в) Найдите наименьшее значение $\frac{q}{d}$.



Проверьте, чтобы каждый ответ был записан рядом с номером соответствующего задания.

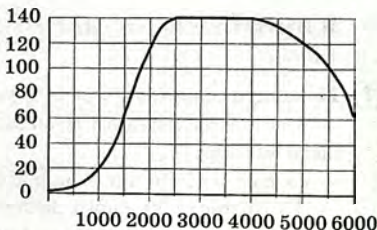
Ответом к заданиям 1–12 является целое число или конечная десятичная дробь. Запишите число в поле ответа в тексте работы, затем перенесите его в БЛАНК ОТВЕТОВ № 1 справа от номера соответствующего задания, начиная с первой клеточки. Каждую цифру, знак «минус» и запятую пишите в отдельной клеточке в соответствии с приведёнными в бланке образцами. Единицы измерений писать не нужно.

Часть 1

- 1 Установка двух счётчиков воды (холодной и горячей) стоит 3700 рублей. До установки счётчиков за воду платили 900 рублей ежемесячно. После установки счётчиков ежемесячная оплата воды стала составлять 400 рублей. Через какое наименьшее количество месяцев экономия по оплате воды превысит затраты на установку счётчиков, если тарифы на воду не изменятся?

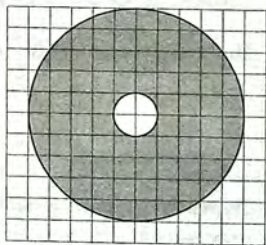
Ответ: _____.

- 2 На графике изображена зависимость крутящего момента двигателя от числа его оборотов в минуту. На оси абсцисс откладывается число оборотов в минуту, на оси ординат — крутящий момент в Н·м. На сколько Н·м увеличится крутящий момент при увеличении числа оборотов с 1500 об/мин до 2500 об/мин?



Ответ: _____.

- 3 На клетчатой бумаге изображены два круга. Площадь внутреннего круга равна 12. Найдите площадь заштрихованной фигуры.



Ответ: _____.

- 4 В группе туристов 10 человек. С помощью жребия они выбирают двух человек, которые должны идти в село в магазин за продуктами. Какова вероятность того, что турист А., входящий в состав группы, пойдёт в магазин?

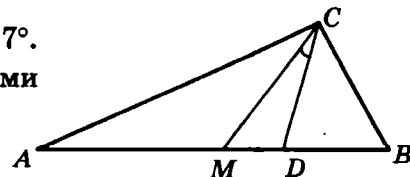
Ответ: _____.

- 5 Найдите корень уравнения $\log_3(-5-x) = 1$.

Ответ: _____.

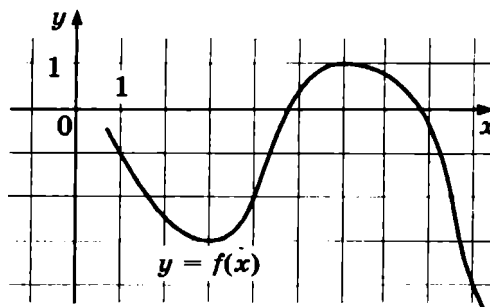
- 6 Острые углы прямоугольного треугольника равны 63° и 27° . Найдите угол между биссектрисой и медианой, проведёнными из вершины прямого угла. Ответ дайте в градусах.

Ответ: _____.



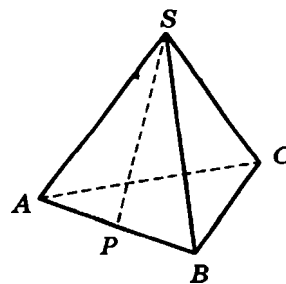
- 7 На рисунке изображён график функции $y = f(x)$. Найдите наименьшее значение функции $f(x)$ на отрезке $[1; 9]$.

Ответ: _____.



- 8 В правильной треугольной пирамиде $SABC$ точка P — середина ребра AB , S — вершина. Известно, что $SP = 4$, а площадь боковой поверхности равна 24. Найдите длину отрезка BC .

Ответ: _____.



Не забудьте перенести все ответы в бланк ответов № 1.

Часть 2

- 9 Найдите значение выражения $-50 \operatorname{tg} 27^\circ \cdot \operatorname{tg} 117^\circ$.

Ответ: _____.

- 10 К источнику с ЭДС $\mathcal{E} = 155$ В и внутренним сопротивлением $r = 0,5$ Ом хотят подключить нагрузку с сопротивлением R Ом. Напряжение на этой нагрузке, выражаемое в вольтах, даётся формулой $U = \frac{\mathcal{E}R}{R+r}$. При каком сопротивлении нагрузки напряжение на ней будет 150 В? Ответ дайте в омах.

Ответ: _____.

- 11 Путешественник переплыл море на яхте со средней скоростью 16 км/ч. Обратно он летел на спортивном самолете со скоростью 496 км/ч. Найдите среднюю скорость путешественника на протяжении всего пути. Ответ дайте в км/ч.

Ответ: _____.

- 12 Найдите наименьшее значение функции $y = \frac{4}{3}x\sqrt{x} - 6x + 15$ на отрезке $[7; 33]$.

Ответ: _____.



Не забудьте перенести все ответы в бланк ответов № 1 в соответствии с инструкцией по выполнению работы. Проверьте, чтобы каждый ответ был записан в строке с номером соответствующего задания.

Для записи решений и ответов на задания 13–19 используйте БЛАНК ОТВЕТОВ № 2. Запишите сначала номер выполняемого задания (13, 14 и т. д.), а затем полное обоснованное решение и ответ. Ответы записывайте чётко и разборчиво.

13 а) Решите уравнение $\frac{\sin 2x}{\cos\left(x + \frac{3\pi}{2}\right)} = 1$.

б) Найдите все корни этого уравнения, принадлежащие отрезку $\left[-4\pi; -\frac{5\pi}{2}\right]$.

14 Дан куб $ABCD A_1 B_1 C_1 D_1$.

а) Докажите, что прямая $B_1 D$ перпендикулярна плоскости $A_1 B C_1$.

б) Найдите угол между плоскостями $AB_1 C_1$ и $A_1 B_1 C$.

15 Решите неравенство $\log_{2-x}(x+2) \cdot \log_{x+3}(3-x) \leq 0$.

16 Отрезок, соединяющий середины M и N оснований BC и AD соответственно трапеции $ABCD$, разбивает её на две трапеции, в каждую из которых можно вписать окружность.

а) Докажите, что трапеция $ABCD$ равнобедренная.

б) Известно, что радиус этих окружностей равен 3, а меньшее основание BC исходной трапеции равно 10. Найдите радиус окружности, касающейся боковой стороны AB , основания AN трапеции $ABMN$ и вписанной в неё окружности.

17 15 января планируется взять кредит в банке на 15 месяцев. Условия его возврата таковы:

— 1-го числа каждого месяца долг возрастает на 1% по сравнению с концом предыдущего месяца;

— со 2-го по 14-е число каждого месяца необходимо выплатить часть долга;

— 15-го числа каждого месяца долг должен быть на одну и ту же величину меньше долга на 15-е число предыдущего месяца.

Известно, что восьмая выплата составила 108 тыс. рублей. Какую сумму нужно вернуть банку в течение всего срока кредитования?

18 Найдите все положительные значения a , при каждом из которых система уравнений

$$\begin{cases} (x - 2a + 3)^2 + (y - a)^2 = 2,25; \\ (x + 3)^2 + (y - a)^2 = a^2 + 2a + 1 \end{cases}$$

имеет единственное решение.

19 Красный карандаш стоит 18 рублей, синий — 14 рублей. Нужно купить карандаши, имея всего 499 рублей и соблюдая дополнительное условие: число синих карандашей не должно отличаться от числа красных карандашей больше чем на шесть.

а) Можно ли купить 30 карандашей?

б) Можно ли купить 33 карандаша?

в) Какое наибольшее число карандашей можно купить?



Проверьте, чтобы каждый ответ был записан рядом с номером соответствующего задания.

ВАРИАНТ 9

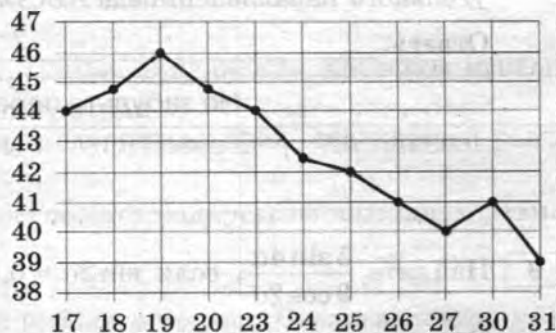
Ответом к заданиям 1–12 является целое число или конечная десятичная дробь. Запишите число в поле ответа в тексте работы, затем перенесите его в БЛАНК ОТВЕТОВ № 1 справа от номера соответствующего задания, начиная с первой клеточки. Каждую цифру, знак «минус» и запятую пишите в отдельной клеточке в соответствии с приведёнными в бланке образцами. Единицы измерений писать не нужно.

Часть 1

- 1 Летом килограмм черешни стоит 180 рублей. Мама купила 1 кг 800 г черешни. Сколько рублей сдачи она должна получить с 500 рублей?

Ответ: _____.

- 2 На рисунке жирными точками показана цена нефти на момент закрытия биржевых торгов во все рабочие дни с 17 по 31 августа 2004 года. По горизонтали указываются числа месяца, по вертикали — цена барреля нефти в долларах США. Для наглядности жирные точки на рисунке соединены линией. Определите по рисунку, сколько дней из данного периода цена нефти на момент закрытия торгов была меньше 43 долларов США за баррель.



Ответ: _____.

- 3 Найдите площадь квадрата, вершины которого имеют координаты (2; 5), (–2; 9), (–6; 5), (–2; 1).

Ответ: _____.

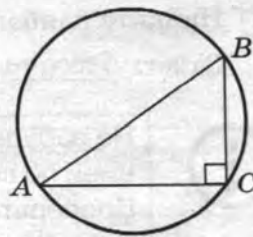
- 4 Двое играют в кости — они по разу бросают игральный кубик. Выигрывает тот, у кого больше очков. Если выпадает поровну, то наступает ничья. Первый бросил кубик, и у него выпало 4 очка. Найдите вероятность того, что он выиграет.

Ответ: _____.

- 5 Найдите корень уравнения $(x + 11)^2 = 44x$.

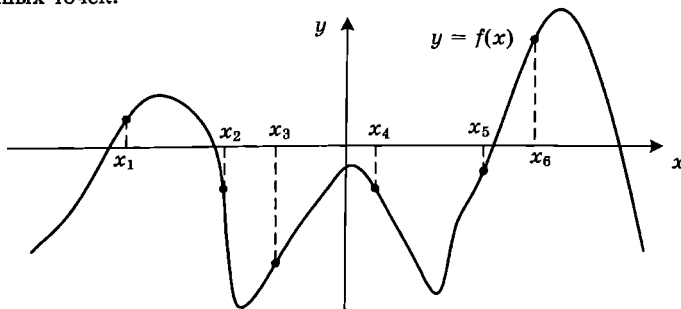
Ответ: _____.

- 6 Радиус окружности, описанной около прямоугольного треугольника, равен 4. Найдите гипотенузу этого треугольника.



Ответ: _____.

- 7 На рисунке изображён график функции $y = f(x)$. Найдите среди точек x_1, x_2, x_3, x_4, x_5 и x_6 те точки, в которых производная функции $f(x)$ отрицательна. В ответ запишите количество найденных точек.



Ответ: _____.

- 8 Найдите объём многогранника, вершинами которого являются точки A, B, D, A_1 прямо-угольного параллелепипеда $ABCD A_1 B_1 C_1 D_1$, у которого $AB = 5, AD = 6, AA_1 = 2$.

Ответ: _____.

Не забудьте перенести все ответы в бланк ответов № 1.

Часть 2

- 9 Найдите $\frac{5 \sin 4\alpha}{3 \cos 2\alpha}$, если $\sin 2\alpha = 0,6$.

Ответ: _____.

- 10 Мяч бросили под углом α к плоской горизонтальной поверхности земли. Время полёта мяча (в секундах) определяется по формуле $t = \frac{2v_0 \sin \alpha}{g}$. При каком значении угла α (в градусах) время полёта составит 3,2 секунды, если мяч бросают с начальной скоростью $v_0 = 16$ м/с? Считайте, что ускорение свободного падения $g = 10$ м/с².

Ответ: _____.

- 11 Города А, В и С соединены прямолинейным шоссе, причём город В расположен между городами А и С. Из города А в сторону города С выехал легковой автомобиль, и одновременно с ним из города В в сторону города С выехал грузовик. Через сколько часов после выезда легковой автомобиль догонит грузовик, если скорость легкового автомобиля на 28 км/ч больше скорости грузовика, а расстояние между городами А и В равно 112 км?

Ответ: _____.

- 12 Найдите наибольшее значение функции $y = (21 - x)e^{x-20}$ на отрезке $[19; 21]$.

Ответ: _____.



Не забудьте перенести все ответы в бланк ответов № 1 в соответствии с инструкцией по выполнению работы.

Проверьте, чтобы каждый ответ был записан в строке с номером соответствующего задания.

Для записи решений и ответов на задания 13–19 используйте БЛАНК ОТВЕТОВ № 2. Запишите сначала номер выполняемого задания (13, 14 и т. д.), а затем полное обоснованное решение и ответ. Ответы записывайте чётко и разборчиво.

13 а) Решите уравнение $5 \cos^2 x - 12 \cos x + 4 = 0$.

б) Найдите все корни этого уравнения, принадлежащие отрезку $\left[-\frac{5\pi}{2}; -\pi\right]$.

14 В прямоугольном параллелепипеде $ABCD A_1 B_1 C_1 D_1$ известны длины ребёр $AA_1 = 15$, $AB = 12$, $AD = 8$. Точка K — середина ребра $C_1 D_1$, а точка L делит ребро BB_1 в отношении $4 : 1$, считая от вершины B_1 .

а) Найдите отношение, в котором плоскость LKA_1 делит ребро CC_1 , считая от вершины C_1 .

б) Найдите косинус угла между плоскостями LKA_1 и $A_1 B_1 C_1$.

15 Решите неравенство $\sqrt{x+4,2} + \frac{1}{\sqrt{x+4,2}} \geq \frac{5}{2}$.

16 Две окружности касаются внутренним образом. Третья окружность касается первых двух и их линии центров.

а) Докажите, что периметр треугольника с вершинами в центрах трёх окружностей равен диаметру наибольшей из этих окружностей.

б) Найдите радиус третьей окружности, если известно, что радиусы первых двух равны 4 и 1.

17 31 декабря 2014 года Евгений взял в банке 1 млн рублей в кредит. Схема выплаты кредита следующая — 31 декабря каждого следующего года банк начисляет проценты на оставшуюся сумму долга (то есть увеличивает долг на $a\%$), затем Евгений переводит очередной транш. Евгений выплатил кредит за два транша, переведя в первый раз 540 тыс. рублей, во второй 649,6 тыс. рублей. Найдите a .

18 Найдите все значения a , при каждом из которых уравнение

$$|\log_5(x^2) - a| - |\log_5 x + 2a| = (\log_5 x)^2$$

имеет ровно четыре решения.

19 В результате опроса выяснилось, что примерно 58% опрошенных предпочитают искусственную ёлку натуральной (число 58 получено с помощью округления до целого числа). Из этого же опроса последовало, что примерно 42% респондентов никогда не отмечали Новый год не дома.

а) Могло ли в опросе участвовать ровно 40 человек?

б) Могло ли в опросе участвовать ровно 48 человек?

в) Какое наименьшее количество человек могло участвовать в этом опросе?



Проверьте, чтобы каждый ответ был записан рядом с номером соответствующего задания.

Ответом к заданиям 1–12 является целое число или конечная десятичная дробь. Запишите число в поле ответа в тексте работы, затем перенесите его в БЛАНК ОТВЕТОВ № 1 справа от номера соответствующего задания, начиная с первой клеточки. Каждую цифру, знак «минус» и запятую пишите в отдельной клеточке в соответствии с приведёнными в бланке образцами. Единицы измерений писать не нужно.

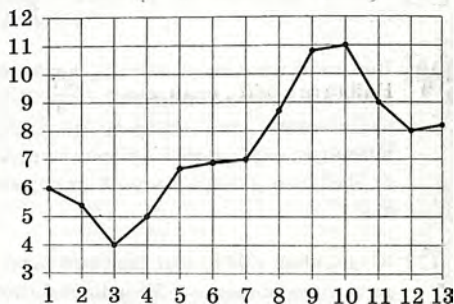
Часть 1

- 1 Одна таблетка лекарства весит 20 мг и содержит 11% активного вещества. Ребёнку в возрасте до 6 месяцев врач прописывает 1,32 мг активного вещества на каждый килограмм веса в сутки. Сколько таблеток этого лекарства следует дать ребёнку весом 5 кг в течение суток?

Ответ: _____.


- 2 На рисунке жирными точками показана средняя температура воздуха в Махачкале во все дни с 1 по 13 апреля 2014 года. По горизонтали указываются числа месяца, по вертикали — средняя температура в градусах Цельсия. Для наглядности точки на рисунке соединены линией. Определите, какого числа средняя температура в Махачкале была наименьшей за данный период.

Ответ: _____.



- 3 На клетчатой бумаге с размером клетки 1×1 изображена трапеция. Найдите её площадь.

Ответ: _____.



- 4 Стрелок в тире стреляет по мишени до тех пор, пока не попадёт в неё. Вероятность попадания при каждом отдельном выстреле равна $p = 0,8$. Найдите вероятность того, что стрелку потребуется больше трёх попыток.

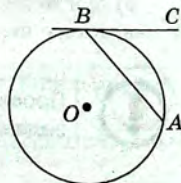
Ответ: _____.

- 5 Найдите корень уравнения $2^{\log_{16}(9x+4)} = 5$.

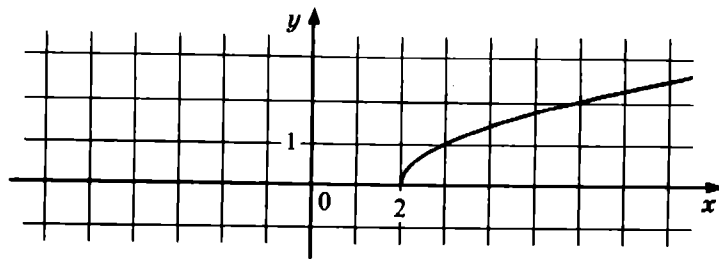
Ответ: _____.

- 6 Хорда AB стягивает дугу окружности в 40° . Найдите угол ABC между этой хордой и касательной к окружности, проведённой через точку B . Ответ дайте в градусах.

Ответ: _____.

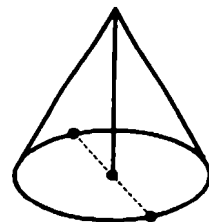


- 7 На рисунке изображён график функции $y = f(x)$. Прямая, проходящая через точку $(-6; -1)$, касается этого графика в точке с абсциссой 6. Найдите $f(6)$.



Ответ: _____.

- 8 Высота конуса равна 30, а длина образующей — 34. Найдите диаметр основания конуса.



Ответ: _____.

Не забудьте перенести все ответы в бланк ответов № 1.

Часть 2

- 9 Найдите $\cos \alpha$, если $\sin \alpha = \frac{\sqrt{7}}{4}$ и $\alpha \in \left(0; \frac{\pi}{2}\right)$.

Ответ: _____.

- 10 Для определения эффективной температуры звёзд используют закон Стефана—Больцмана, согласно которому мощность излучения P (в ваттах) нагретого тела прямо пропорциональна площади его поверхности и четвёртой степени температуры: $P = \sigma ST^4$, где $\sigma = 5,7 \cdot 10^{-8}$ — постоянная, площадь поверхности S измеряется в квадратных метрах, а температура T — в кельвинах. Известно, что некоторая звезда имеет площадь поверхности $S = \frac{1}{18} \cdot 10^{21} \text{ м}^2$, а излучаемая ею мощность P равна $4,104 \cdot 10^{27} \text{ Вт}$. Определите температуру этой звезды. Ответ дайте в кельвинах.

Ответ: _____.

- 11 Первая труба наполняет бак объёмом 600 литров, а вторая труба — бак объёмом 900 литров. Известно, что одна из труб пропускает в минуту на 3 л воды больше, чем другая. Трубы начали наполнять баки одновременно. Сколько литров воды в минуту пропускает вторая труба, если баки были наполнены за одно и то же время?

Ответ: _____.

- 12 Найдите наименьшее значение функции $y = 5 \cos x - 6x + 4$ на отрезке $\left[-\frac{3\pi}{2}; 0\right]$.

Ответ: _____.



Не забудьте перенести все ответы в бланк ответов № 1 в соответствии с инструкцией по выполнению работы.
Проверьте, чтобы каждый ответ был записан в строке с номером соответствующего задания.

Для записи решений и ответов на задания 13–19 используйте БЛАНК ОТВЕТОВ № 2. Запишите сначала номер выполняемого задания (13, 14 и т. д.), а затем полное обоснованное решение и ответ. Ответы записывайте чётко и разборчиво.

- 13** а) Решите уравнение $6 \sin^2 x + 7 \cos x - 7 = 0$.
б) Найдите все корни этого уравнения, принадлежащие отрезку $[-3\pi; -\pi]$.
- 14** В правильной треугольной призме $ABCA_1B_1C_1$ сторона основания $AB = 8\sqrt{3}$, а боковое ребро $AA_1 = 5$.
а) Найдите длину отрезка A_1K , где K — середина ребра BC .
б) Найдите тангенс угла между плоскостями B_1CA_1 и BB_1C_1 .
- 15** Решите неравенство $9^{x-2} - 37 \cdot 3^{x-3} + 30 \leq 0$.
- 16** В параллелограмм вписана окружность.
а) Докажите, что этот параллелограмм — ромб.
б) Окружность, касающаяся стороны ромба, делит её на отрезки, равные 3 и 2. Найдите площадь четырёхугольника с вершинами в точках касания окружности со сторонами ромба.
- 17** Предприниматель купил здание и собирается открыть в нём отель. В отеле могут быть стандартные номера площадью 21 квадратный метр и номера «люкс» площадью 49 квадратных метров. Общая площадь, которую можно отвести под номера, составляет 1099 квадратных метров. Предприниматель может поделить эту площадь между номерами различных типов, как хочет. Обычный номер будет приносить отелю 2000 рублей в сутки, а номер «люкс» — 4500 рублей в сутки. Какую наибольшую сумму денег сможет заработать в сутки на своём отеле предприниматель?
- 18** Найдите все значения a , при каждом из которых уравнение
- $$\left| \log_{0,5}(x^2) - a \right| - \left| \log_{0,5} x + 2a \right| = \left(\log_{0,5} x \right)^2$$
- имеет хотя бы одно решение, меньшее 2.
- 19** Известно, что a , b , c и d — попарно различные двузначные числа.
а) Может ли выполняться равенство $\frac{a+c}{b+d} = \frac{7}{19}$?
б) Может ли дробь $\frac{a+c}{b+d}$ быть в 11 раз меньше, чем сумма $\frac{a}{b} + \frac{c}{d}$?
в) Какое наименьшее значение может принимать дробь $\frac{a+c}{b+d}$, если $a > 3b$ и $c > 6d$?



Проверьте, чтобы каждый ответ был записан рядом с номером соответствующего задания.

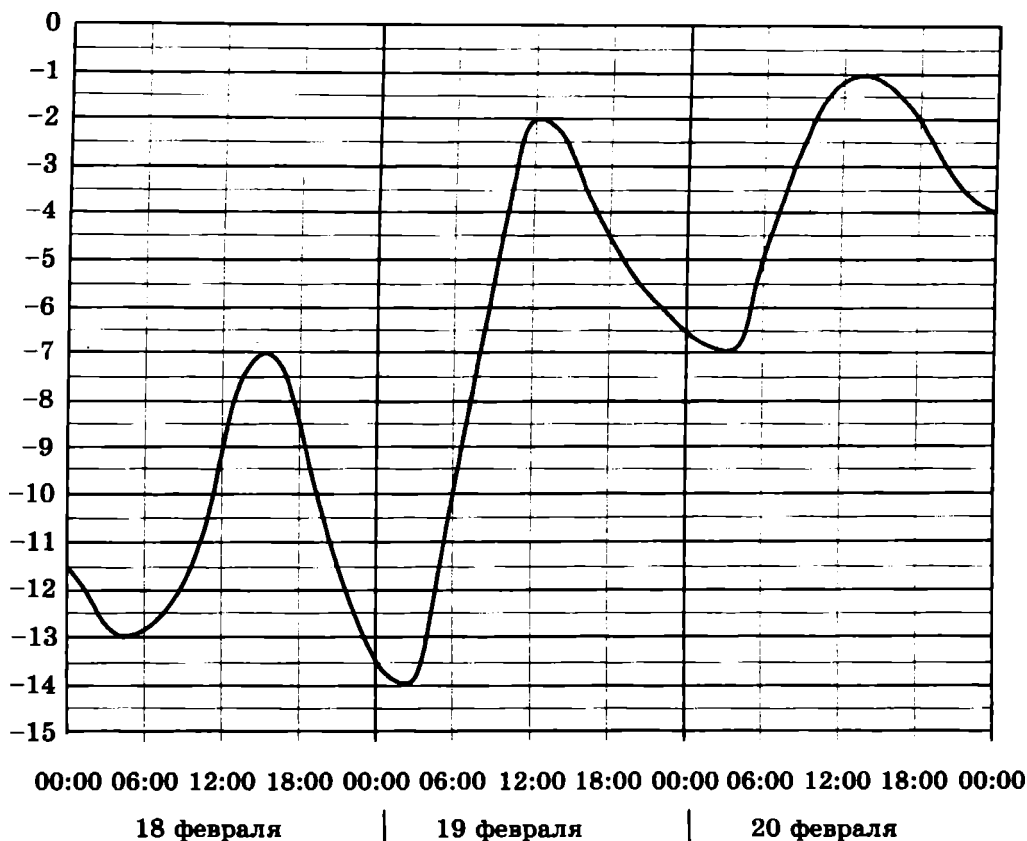
Ответом к заданиям 1–12 является целое число или конечная десятичная дробь. Запишите число в поле ответа в тексте работы, затем перенесите его в БЛАНК ОТВЕТОВ № 1 справа от номера соответствующего задания, начиная с первой клеточки. Каждую цифру, знак «минус» и запятую пишите в отдельной клеточке в соответствии с приведёнными в бланке образцами. Единицы измерений писать не нужно.

Часть 1

- 1** Розничная цена учебника 345 рублей, она на 15% выше оптовой цены. Какое наибольшее число таких учебников можно купить по оптовой цене на 5000 рублей?

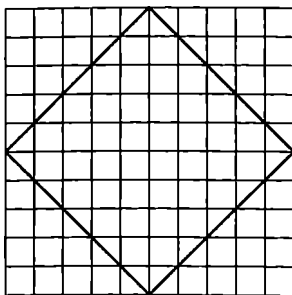
Ответ: _____.

- 2** На рисунке показано изменение температуры воздуха на протяжении трёх суток. По горизонтали указывается дата и время, по вертикали — значение температуры в градусах Цельсия. Определите по рисунку наименьшую температуру воздуха 18 февраля. Ответ дайте в градусах Цельсия.



Ответ: _____.

- 3 На клетчатой бумаге с размером клетки 1×1 изображён квадрат. Найдите радиус описанной около него окружности.



Ответ: _____.

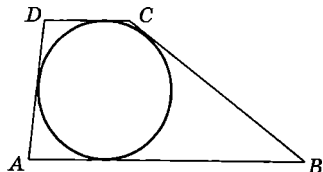
- 4 На фабрике керамической посуды 20% произведённых тарелок имеют дефект. При контроле качества продукции выявляется 75% дефектных тарелок. Остальные тарелки поступают в продажу. Найдите вероятность того, что случайно выбранная при покупке тарелка не имеет дефектов. Ответ округлите до сотых.

Ответ: _____.

- 5 Найдите корень уравнения $\log_3(15 - 5x) = 3 \log_3 5$.

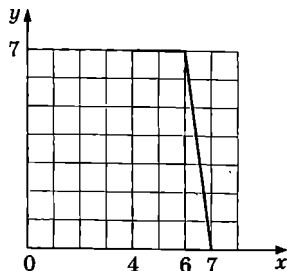
Ответ: _____.

- 6 Боковые стороны трапеции, описанной около окружности, равны 12 и 2. Найдите среднюю линию трапеции.



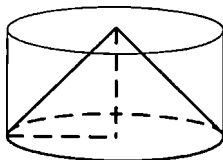
Ответ: _____.

- 7 На рисунке изображён график функции $y = f(x)$ (два луча с общей начальной точкой). Пользуясь рисунком, вычислите $F(7) - F(4)$, где $F(x)$ — одна из первообразных функции $f(x)$.



Ответ: _____.

- 8 Цилиндр и конус имеют общие основание и высоту. Высота цилиндра равна радиусу основания. Площадь боковой поверхности конуса равна $41\sqrt{2}$. Найдите площадь боковой поверхности цилиндра.



Ответ: _____.

Не забудьте перенести все ответы в бланк ответов № 1.

Часть 2

- 9 Найдите значение выражения $(\sqrt{72} - \sqrt{2}) \cdot \sqrt{2}$.

Ответ: _____.

- 10 Водолазный колокол, содержащий $\nu = 2$ моль воздуха при давлении $p_1 = 1$ атмосфера, медленно опускают на дно водоёма. При этом происходит сжатие воздуха до конечного давления p_2 . Работа, совершаемая водой при сжатии воздуха, определяется выражением $A = \alpha \nu T \log_2 \frac{p_2}{p_1}$, где $\alpha = 18,3 \frac{\text{Дж}}{\text{моль} \cdot \text{К}}$ — постоянная, $T = 300 \text{ К}$ — температура воздуха. Найдите, какое давление p_2 (в атмосферах) будет иметь воздух в колоколе, если при сжатии воздуха была совершена работа в 21 960 Дж.

Ответ: _____.

- 11 Две бригады, состоящие из рабочих одинаковой квалификации, одновременно начали выполнять два одинаковых заказа. В первой бригаде было 13 рабочих, а во второй — 21 рабочий. Через 4 дня после начала работы в первую бригаду перешли 5 рабочих из второй бригады. В итоге оба заказа были выполнены одновременно. Найдите, сколько дней потребовалось на выполнение заказов.

Ответ: _____.

- 12 Найдите наибольшее значение функции $y = (x + 5)^2 (x - 1) + 7$ на отрезке $[-17; -2]$.

Ответ: _____.



Не забудьте перенести все ответы в бланк ответов № 1 в соответствии с инструкцией по выполнению работы.

Проверьте, чтобы каждый ответ был записан в строке с номером соответствующего задания.

Для записи решений и ответов на задания 13–19 используйте БЛАНК ОТВЕТОВ № 2. Запишите сначала номер выполняемого задания (13, 14 и т. д.), а затем полное обоснованное решение и ответ. Ответы записывайте чётко и разборчиво.

13. а) Решите уравнение $\operatorname{tg}(2\pi + x) \cos\left(\frac{\pi}{2} + 2x\right) = \cos \pi$.

б) Укажите корни этого уравнения, принадлежащие отрезку $\left[3\pi; \frac{9\pi}{2}\right]$.

- 14 Противоположные боковые грани правильной четырёхугольной пирамиды $MABCD$ с основанием $ABCD$ попарно перпендикулярны. Через середины K и L рёбер AB и AD соответственно и точку M проведена плоскость α .

а) Докажите, что сечение пирамиды $MABCD$ плоскостью α является равносторонним треугольником.

б) Найдите расстояние от точки D до плоскости α , если $AB = 9$.

15 Решите неравенство $0,25^{\frac{x+3}{x-2}} \cdot 30^x \cdot x^{-2} \leq \frac{16^{\frac{x+3}{x-2}} \cdot 15^x}{8x^2}$.

16 Вершины K и L квадрата $KLMN$ с центром O лежат на стороне AB треугольника ABC , а вершины M и N — на сторонах BC и AC соответственно. Высота CH треугольника ABC проходит через точку O и пересекает отрезок MN в точке D , причём $CD = DO = OH$.

а) Докажите, что треугольник ABC равнобедренный и прямоугольный.

б) Пусть прямая AD пересекает сторону BC в точке Q . Найдите AQ , если сторона квадрата $KL = 1$.

17 Клиент банка планирует взять 15 августа кредит на 21 месяц. Условия возврата таковы:
— 1-го числа каждого месяца долг возрастает на $r\%$ по сравнению с концом предыдущего месяца;
— со 2-го по 14-е число каждого месяца необходимо выплатить часть долга;
— 15-го числа каждого месяца долг должен быть на одну и ту же величину меньше долга на 15-е число предыдущего месяца.

Известно, что общая сумма денег, которую нужно выплатить банку за весь срок кредитования, на 33% больше, чем сумма, взятая в кредит. Найдите r .

18 Найдите все значения a , при каждом из которых система уравнений

$$\begin{cases} (ay + ax + 3)(y + x - a) = 0, \\ |xy| = a \end{cases}$$

имеет ровно четыре решения.

19 Даны пять различных натуральных чисел. Известно, что их произведение равно 6750.

а) Могут ли все пять чисел образовывать геометрическую прогрессию?

б) Могут ли четыре числа из этих пяти образовывать геометрическую прогрессию?

в) Могут ли три числа из этих пяти образовывать геометрическую прогрессию?



Проверьте, чтобы каждый ответ был записан рядом с номером соответствующего задания.

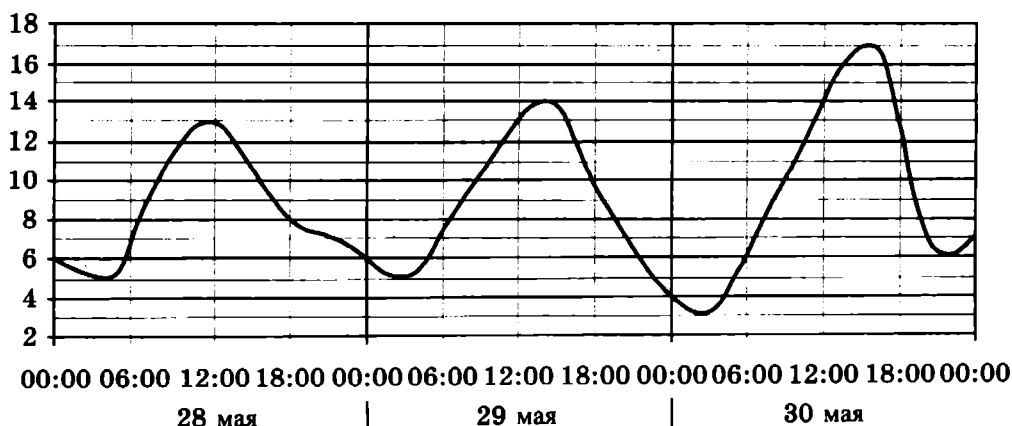
Ответом к заданиям 1–12 является целое число или конечная десятичная дробь. Запишите число в поле ответа в тексте работы, затем перенесите его в БЛАНК ОТВЕТОВ № 1 справа от номера соответствующего задания, начиная с первой клеточки. Каждую цифру, знак «минус» и запятую пишите в отдельной клеточке в соответствии с приведёнными в бланке образцами. Единицы измерений писать не нужно.

Часть 1

- 1** Розничная цена учебника 375 рублей, она на 25% выше оптовой цены. Какое наибольшее число таких учебников можно купить по оптовой цене на 5800 рублей?

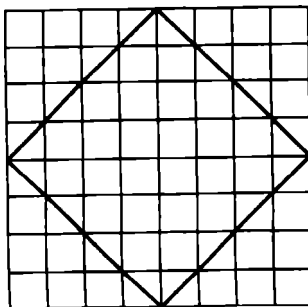
Ответ: _____.

- 2** На рисунке показано изменение температуры воздуха на протяжении трёх суток. По горизонтали указывается дата и время, по вертикали — значение температуры в градусах Цельсия. Определите по рисунку наименьшую температуру воздуха 29 мая. Ответ дайте в градусах Цельсия.



Ответ: _____.

- 3** На клетчатой бумаге с размером клетки 1×1 изображён квадрат. Найдите радиус описанной около него окружности.



Ответ: _____.

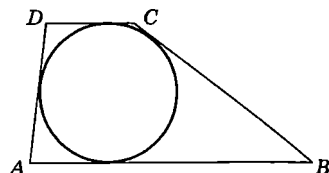
- 4 На фабрике керамической посуды 10% произведённых тарелок имеют дефект. При контроле качества продукции выявляется 70% дефектных тарелок. Остальные тарелки поступают в продажу. Найдите вероятность того, что случайно выбранная при покупке тарелка не имеет дефектов. Ответ округлите до сотых.

Ответ: _____.

- 5 Найдите корень уравнения $\log_3(14 - x) = 2\log_3 5$.

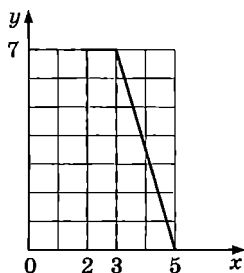
Ответ: _____.

- 6 Боковые стороны трапеции, описанной около окружности, равны 13 и 1. Найдите среднюю линию трапеции.



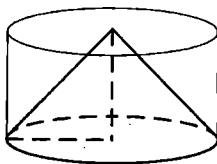
Ответ: _____.

- 7 На рисунке изображён график функции $y = f(x)$ (два луча с общей начальной точкой). Пользуясь рисунком, вычислите $F(5) - F(2)$, где $F(x)$ — одна из первообразных функции $f(x)$.



Ответ: _____.

- 8 Цилиндр и конус имеют общие основание и высоту. Высота цилиндра равна радиусу основания. Площадь боковой поверхности конуса равна $80\sqrt{2}$. Найдите площадь боковой поверхности цилиндра.



Ответ: _____.

Не забудьте перенести все ответы в бланк ответов № 1.

Часть 2

- 9 Найдите значение выражения $(\sqrt{96} - \sqrt{6}) \cdot \sqrt{6}$.

Ответ: _____.

- 10 Водолазный колокол, содержащий $\nu = 5$ моль воздуха при давлении $p_1 = 1,8$ атмосферы, медленно опускают на дно водоёма. При этом происходит сжатие воздуха до конечного давления p_2 . Работа, совершаемая водой при сжатии воздуха, определяется выражением $A = \alpha \nu T \log_2 \frac{p_2}{p_1}$, где $\alpha = 6,3 \frac{\text{Дж}}{\text{моль} \cdot \text{К}}$ — постоянная, $T = 300 \text{ К}$ — температура воздуха. Найдите, какое давление p_2 (в атмосферах) будет иметь воздух в колоколе, если при сжатии воздуха была совершена работа в 28 350 Дж.

Ответ: _____.

- 11 Две бригады, состоящие из рабочих одинаковой квалификации, одновременно начали выполнять два одинаковых заказа. В первой бригаде было 3 рабочих, а во второй — 9 рабочих. Через 4 дня после начала работы в первую бригаду перешли 7 рабочих из второй бригады. В итоге оба заказа были выполнены одновременно. Найдите, сколько дней потребовалось на выполнение заказов.

Ответ: _____.

- 12 Найдите наибольшее значение функции $y = (x + 6)^2(x - 10) + 8$ на отрезке $[-14; -3]$.

Ответ: _____.



Не забудьте перенести все ответы в бланк ответов № 1 в соответствии с инструкцией по выполнению работы.

Проверьте, чтобы каждый ответ был записан в строке с номером соответствующего задания.

Для записи решений и ответов на задания 13–19 используйте БЛАНК ОТВЕТОВ № 2. Запишите сначала номер выполняемого задания (13, 14 и т. д.), а затем полное обоснованное решение и ответ. Ответы записывайте чётко и разборчиво.

- 13 а) Решите уравнение $\operatorname{tg}(\pi - x) \cos\left(\frac{3\pi}{2} - 2x\right) = \sin \frac{5\pi}{6}$.

б) Укажите корни этого уравнения, принадлежащие отрезку $\left[-2\pi; -\frac{\pi}{2}\right]$.

- 14 Противоположные боковые грани правильной четырёхугольной пирамиды $MABCD$ с основанием $ABCD$ попарно перпендикулярны. Через середины K и L рёбер AB и AD соответственно и точку M проведена плоскость α .

а) Докажите, что сечение пирамиды $MABCD$ плоскостью α является равносторонним треугольником.

б) Найдите объём пирамиды $MCKL$, если $AB = 4$.

15 Решите неравенство $0,25^{\frac{3x-2}{x+2}} \cdot 14^x \cdot x^{-2} \leq \frac{2^{\frac{3x-2}{x+2}} \cdot 112^x}{4x^2}$.

16 Вершины K и L квадрата $KLMN$ с центром O лежат на стороне AB треугольника ABC , а вершины M и N — на сторонах BC и AC соответственно. Высота CH треугольника ABC проходит через точку O и пересекает отрезок MN в точке D , причём $CD = DO = OH$.

а) Докажите, что треугольник ABC равнобедренный и прямоугольный.

б) Пусть прямая AD пересекает сторону BC в точке Q . Найдите AQ , если сторона квадрата $KL = 10$.

17 Клиент банка планирует взять 15 августа кредит на 19 месяцев. Условия возврата таковы:

— 1-го числа каждого месяца долг возрастает на $r\%$ по сравнению с концом предыдущего месяца;

— со 2-го по 14-е число каждого месяца необходимо выплатить часть долга;

— 15-го числа каждого месяца долг должен быть на одну и ту же величину меньше долга на 15-е число предыдущего месяца.

Известно, что общая сумма денег, которую нужно выплатить банку за весь срок кредитования, на 25% больше, чем сумма, взятая в кредит. Найдите r .

18 Найдите все значения a , при каждом из которых система уравнений

$$\begin{cases} (ay + ax - 2)(y + x + 3a) = 0, \\ |xy| = a \end{cases}$$

имеет ровно восемь решений.

19 Даны пять различных натуральных чисел. Известно, что их произведение равно 2160.

а) Могут ли все пять чисел образовывать геометрическую прогрессию?

б) Могут ли четыре числа из этих пяти образовывать геометрическую прогрессию?

в) Могут ли три числа из этих пяти образовывать геометрическую прогрессию?



Проверьте, чтобы каждый ответ был записан рядом с номером соответствующего задания.

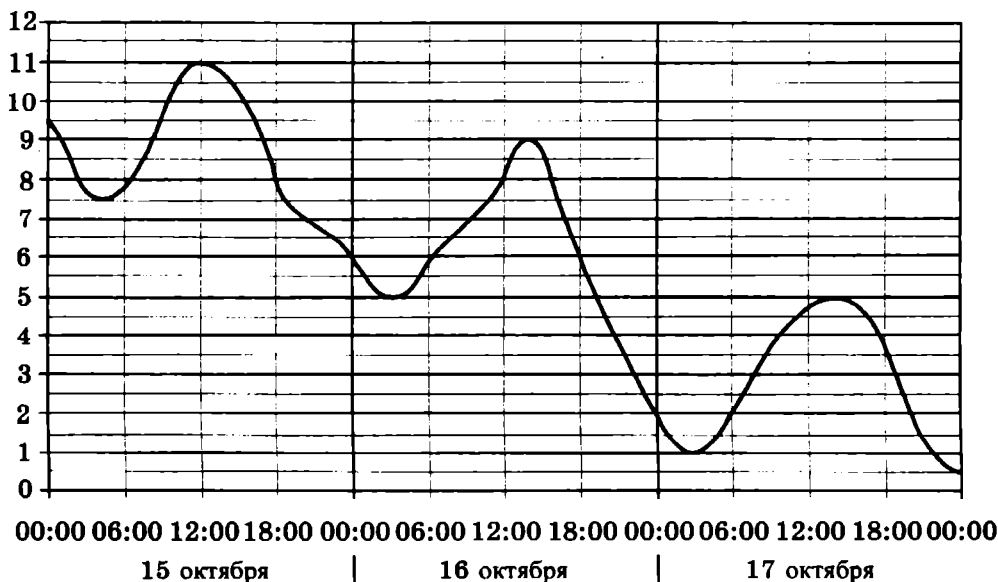
Ответом к заданиям 1–12 является целое число или конечная десятичная дробь. Запишите число в поле ответа в тексте работы, затем перенесите его в БЛАНК ОТВЕТОВ № 1 справа от номера соответствующего задания, начиная с первой клеточки. Каждую цифру, знак «минус» и запятую пишите в отдельной клеточке в соответствии с приведёнными в бланке образцами. Единицы измерений писать не нужно.

Часть 1

- 1 Розничная цена учебника 408 рублей, она на 20% выше оптовой цены. Какое наибольшее число таких учебников можно купить по оптовой цене на 7500 рублей?

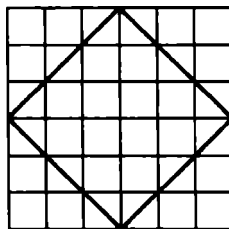
Ответ: _____.

- 2 На рисунке показано изменение температуры воздуха на протяжении трёх суток. По горизонтали указывается дата и время, по вертикали — значение температуры в градусах Цельсия. Определите по рисунку наименьшую температуру воздуха 17 октября. Ответ дайте в градусах Цельсия.



Ответ: _____.

- 3 На клетчатой бумаге с размером клетки 1×1 изображён квадрат. Найдите радиус описанной около него окружности.



Ответ: _____.

- 4 На фабрике керамической посуды 30% произведённых тарелок имеют дефект. При контроле качества продукции выявляется 65% дефектных тарелок. Остальные тарелки поступают в продажу. Найдите вероятность того, что случайно выбранная при покупке тарелка не имеет дефектов. Ответ округлите до сотых.

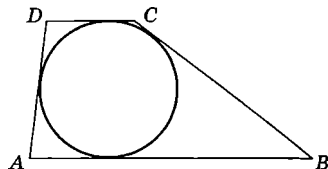
Ответ: _____.

- 5 Найдите корень уравнения $\log_3(12 - x) = 3 \log_3 4$.

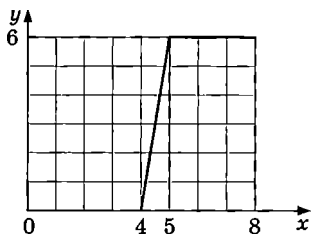
Ответ: _____.

- 6 Боковые стороны трапеции, описанной около окружности, равны 25 и 3. Найдите среднюю линию трапеции.

Ответ: _____.

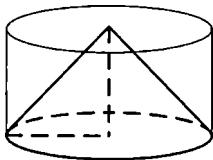


- 7 На рисунке изображён график функции $y = f(x)$ (два луча с общей начальной точкой). Пользуясь рисунком, вычислите $F(8) - F(4)$, где $F(x)$ — одна из первообразных функции $f(x)$.



Ответ: _____.

- 8 Цилиндр и конус имеют общие основание и высоту. Высота цилиндра равна радиусу основания. Площадь боковой поверхности конуса равна $21\sqrt{2}$. Найдите площадь боковой поверхности цилиндра.



Ответ: _____.

Не забудьте перенести все ответы в бланк ответов № 1.

Часть 2

- 9 Найдите значение выражения $(\sqrt{72} - \sqrt{98}) \cdot \sqrt{8}$.

Ответ: _____.

- 10 Водолазный колокол, содержащий $\nu = 3$ моль воздуха при давлении $p_1 = 1,8$ атмосферы, медленно опускают на дно водоёма. При этом происходит сжатие воздуха до конечного давления p_2 . Работа, совершаемая водой при сжатии воздуха, определяется выражением $A = \alpha \nu T \log_2 \frac{p_2}{p_1}$, где $\alpha = 7,9 \frac{\text{Дж}}{\text{моль} \cdot \text{К}}$ — постоянная, $T = 300 \text{ К}$ — температура воздуха. Найдите, какое давление p_2 (в атмосферах) будет иметь воздух в колоколе, если при сжатии воздуха была совершена работа в 14 220 Дж.

Ответ: _____.

- 11 Две бригады, состоящие из рабочих одинаковой квалификации, одновременно начали выполнять два одинаковых заказа. В первой бригаде было 7 рабочих, а во второй — 10 рабочих. Через 7 дней после начала работы в первую бригаду перешли 2 рабочих из второй бригады. В итоге оба заказа были выполнены одновременно. Найдите, сколько дней потребовалось на выполнение заказов.

Ответ: _____.

- 12 Найдите наибольшее значение функции $y = (x - 8)^2 (x - 9) + 1$ на отрезке $[-4; 8,5]$.

Ответ: _____.



Не забудьте перенести все ответы в бланк ответов № 1 в соответствии с инструкцией по выполнению работы.

Проверьте, чтобы каждый ответ был записан в строке с номером соответствующего задания.

Для записи решений и ответов на задания 13–19 используйте БЛАНК ОТВЕТОВ № 2. Запишите сначала номер выполняемого задания (13, 14 и т. д.), а затем полное обоснованное решение и ответ. Ответы записывайте чётко и разборчиво.

- 13 а) Решите уравнение $\operatorname{tg}(\pi + x) \cos\left(\frac{\pi}{2} - 2x\right) = \operatorname{tg} \frac{5\pi}{4}$.

б) Укажите корни этого уравнения, принадлежащие отрезку $\left[-\frac{3\pi}{2}; 0\right]$.

- 14 Противоположные боковые грани правильной четырёхугольной пирамиды $MABCD$ с основанием $ABCD$ попарно перпендикулярны. Через середины K и L рёбер AB и AD соответственно и точку M проведена плоскость α .

а) Докажите, что сечение пирамиды $MABCD$ плоскостью α является равносторонним треугольником.

б) Найдите объём пирамиды $MBKL$, если $AB = 6$.

15 Решите неравенство $0,2^{\frac{2x+3}{x-5}} \cdot 15^{2x} \cdot 25x^{-2} \geq \frac{25^{\frac{2x+3}{x-5}} \cdot 9^x}{5x^2}$.

16 Вершины K и L квадрата $KLMN$ с центром O лежат на стороне AB треугольника ABC , а вершины M и N — на сторонах BC и AC соответственно. Высота CH треугольника ABC проходит через точку O и пересекает отрезок MN в точке D , причём $CD = DO = OH$.

а) Докажите, что треугольник ABC равнобедренный и прямоугольный.

б) Пусть прямая AD пересекает сторону BC в точке Q . Найдите AQ , если сторона квадрата $KL = 5$.

17 Клиент банка планирует взять 15 августа кредит на 19 месяцев. Условия возврата таковы:

— 1-го числа каждого месяца долг возрастает на $r\%$ по сравнению с концом предыдущего месяца;

— со 2-го по 14-е число каждого месяца необходимо выплатить часть долга;

— 15-го числа каждого месяца долг должен быть на одну и ту же величину меньше долга на 15-е число предыдущего месяца.

Известно, что общая сумма денег, которую нужно выплатить банку за весь срок кредитования, на 15% больше, чем сумма, взятая в кредит. Найдите r .

18 Найдите все значения a , при каждом из которых система уравнений

$$\begin{cases} (ay + ax + 3)(y + x - a) = 0, \\ |xy| = a \end{cases}$$

имеет ровно шесть решений.

19 Даны пять различных натуральных чисел. Известно, что их произведение равно 6000.

а) Могут ли все пять чисел образовывать геометрическую прогрессию?

б) Могут ли четыре числа из этих пяти образовывать геометрическую прогрессию?

в) Могут ли три числа из этих пяти образовывать геометрическую прогрессию?



Проверьте, чтобы каждый ответ был записан рядом с номером соответствующего задания.

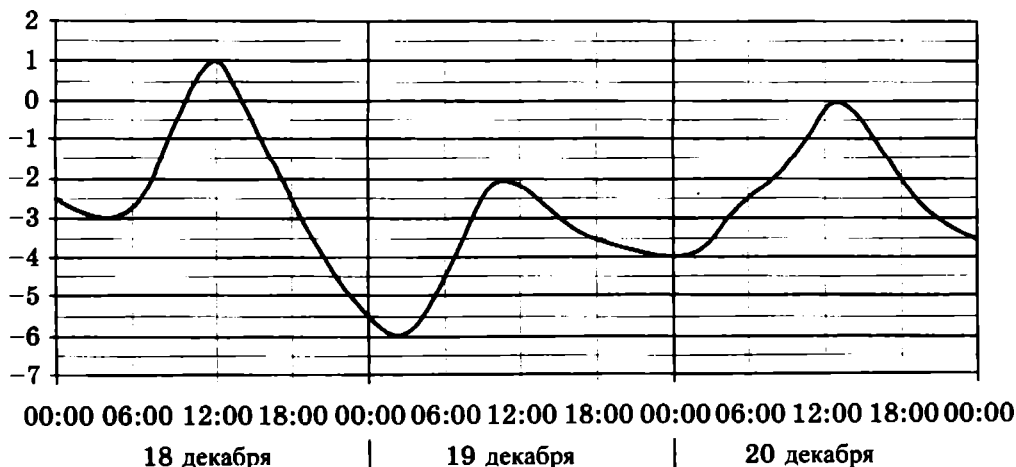
Ответом к заданиям 1–12 является целое число или конечная десятичная дробь. Запишите число в поле ответа в тексте работы, затем перенесите его в БЛАНК ОТВЕТОВ № 1 справа от номера соответствующего задания, начиная с первой клеточки. Каждую цифру, знак «минус» и запятую пишите в отдельной клеточке в соответствии с приведёнными в бланке образцами. Единицы измерений писать не нужно.

Часть 1

- 1** Розничная цена учебника 312 рублей, она на 30% выше оптовой цены. Какое наибольшее число таких учебников можно купить по оптовой цене на 4000 рублей?

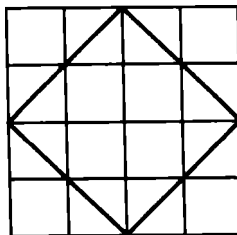
Ответ: _____.

- 2** На рисунке показано изменение температуры воздуха на протяжении трёх суток. По горизонтали указывается дата и время, по вертикали — значение температуры в градусах Цельсия. Определите по рисунку наименьшую температуру воздуха 20 декабря. Ответ дайте в градусах Цельсия.



Ответ: _____.

- 3** На клетчатой бумаге с размером клетки 1×1 изображён квадрат. Найдите радиус описанной около него окружности.



Ответ: _____.

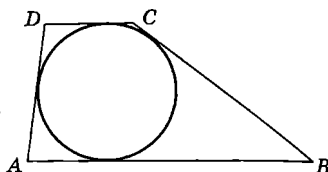
- 4 На фабрике керамической посуды 20% произведённых тарелок имеют дефект. При контроле качества продукции выявляется 60% дефектных тарелок. Остальные тарелки поступают в продажу. Найдите вероятность того, что случайно выбранная при покупке тарелка не имеет дефектов. Ответ округлите до сотых.

Ответ: _____.

- 5 Найдите корень уравнения $\log_3(5 - 2x) = 2\log_3 5$.

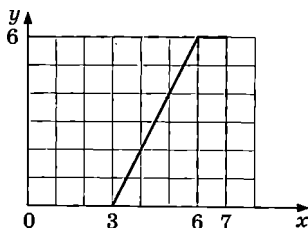
Ответ: _____.

- 6 Боковые стороны трапеции, описанной около окружности, равны 5 и 1. Найдите среднюю линию трапеции.



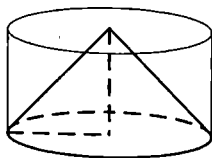
Ответ: _____.

- 7 На рисунке изображён график функции $y = f(x)$ (два луча с общей начальной точкой). Пользуясь рисунком, вычислите $F(7) - F(3)$, где $F(x)$ — одна из первообразных функции $f(x)$.



Ответ: _____.

- 8 Цилиндр и конус имеют общие основание и высоту. Высота цилиндра равна радиусу основания. Площадь боковой поверхности конуса равна $13\sqrt{2}$. Найдите площадь боковой поверхности цилиндра.



Ответ: _____.

Не забудьте перенести все ответы в бланк ответов № 1.

Часть 2

- 9 Найдите значение выражения $(\sqrt{50} - \sqrt{18}) \cdot \sqrt{2}$.

Ответ: _____.

- 10 Водолазный колокол, содержащий $\nu = 3$ моль воздуха при давлении $p_1 = 1,7$ атмосферы, медленно опускают на дно водоёма. При этом происходит сжатие воздуха до конечного давления p_2 . Работа, совершаемая водой при сжатии воздуха, определяется выражением $A = \alpha \nu T \log_2 \frac{p_2}{p_1}$, где $\alpha = 9,3 \frac{\text{Дж}}{\text{моль} \cdot \text{К}}$ — постоянная, $T = 300 \text{ К}$ — температура воздуха. Найдите, какое давление p_2 (в атмосферах) будет иметь воздух в колоколе, если при сжатии воздуха была совершена работа в 25 110 Дж.

Ответ: _____.

- 11 Две бригады, состоящие из рабочих одинаковой квалификации, одновременно начали выполнять два одинаковых заказа. В первой бригаде было 19 рабочих, а во второй — 27 рабочих. Через 9 дней после начала работы в первую бригаду перешли 7 рабочих из второй бригады. В итоге оба заказа были выполнены одновременно. Найдите, сколько дней потребовалось на выполнение заказов.

Ответ: _____.

- 12 Найдите наибольшее значение функции $y = (x + 9)^2 (x - 5) - 5$ на отрезке $[-19; -5]$.

Ответ: _____.



Не забудьте перенести все ответы в бланк ответов № 1 в соответствии с инструкцией по выполнению работы.

Проверьте, чтобы каждый ответ был записан в строке с номером соответствующего задания.

Для записи решений и ответов на задания 13–19 используйте БЛАНК ОТВЕТОВ № 2. Запишите сначала номер выполняемого задания (13, 14 и т. д.), а затем полное обоснованное решение и ответ. Ответы записывайте чётко и разборчиво.

- 13 а) Решите уравнение $\operatorname{tg}(2\pi - x) \cos\left(\frac{3\pi}{2} + 2x\right) = \sin\left(-\frac{\pi}{2}\right)$.

б) Укажите корни этого уравнения, принадлежащие отрезку $\left[2\pi; \frac{7\pi}{2}\right]$.

- 14 Противоположные боковые грани правильной четырёхугольной пирамиды $MABCD$ с основанием $ABCD$ попарно перпендикулярны. Через середины K и L рёбер AB и AD соответственно и точку M проведена плоскость α .

а) Докажите, что сечение пирамиды $MABCD$ плоскостью α является равносторонним треугольником.

б) Найдите расстояние от точки A до плоскости α , если $AB = 2\sqrt{3}$.

15 Решите неравенство $\left(\frac{1}{9}\right)^{\frac{2x+2}{x+4}} \cdot 18^{2x} \cdot 3x^{-2} \leq \frac{27^{-\frac{x+1}{x+4}} \cdot 12^x}{9x^2}$.

16 Вершины K и L квадрата $KLMN$ с центром O лежат на стороне AB треугольника ABC , а вершины M и N — на сторонах BC и AC соответственно. Высота CH треугольника ABC проходит через точку O и пересекает отрезок MN в точке D , причём $CD = DO = OH$.

а) Докажите, что треугольник ABC равнобедренный и прямоугольный.

б) Пусть прямая AD пересекает сторону BC в точке Q . Найдите AQ , если сторона квадрата $KL = 4$.

17 Клиент банка планирует взять 15 августа кредит на 17 месяцев. Условия возврата таковы:

— 1-го числа каждого месяца долг возрастает на $r\%$ по сравнению с концом предыдущего месяца;

— со 2-го по 14-е число каждого месяца необходимо выплатить часть долга;

— 15-го числа каждого месяца долг должен быть на одну и ту же величину меньше долга на 15-е число предыдущего месяца.

Известно, что общая сумма денег, которую нужно выплатить банку за весь срок кредитования, на 18% больше, чем сумма, взятая в кредит. Найдите r .

18 Найдите все значения a , при каждом из которых система уравнений

$$\begin{cases} (ay + ax - 2)(y + x + 3a) = 0, \\ |xy| = a \end{cases}$$

имеет ровно шесть решений.

19 На доске в одну строку слева направо написаны несколько не обязательно различных натуральных чисел. Известно, что каждое следующее число (кроме первого) или на 1 больше предыдущего, или в 2 раза меньше предыдущего.

а) Может ли оказаться так, что первое число равно 12, а седьмое равно 2?

б) Может ли оказаться так, что первое число равно 1200, а двадцать пятое равно 63?

в) Какое наименьшее количество чисел могло быть написано на доске, если первое число равно 1200, а последнее число равно 5?



Проверьте, чтобы каждый ответ был записан рядом с номером соответствующего задания.

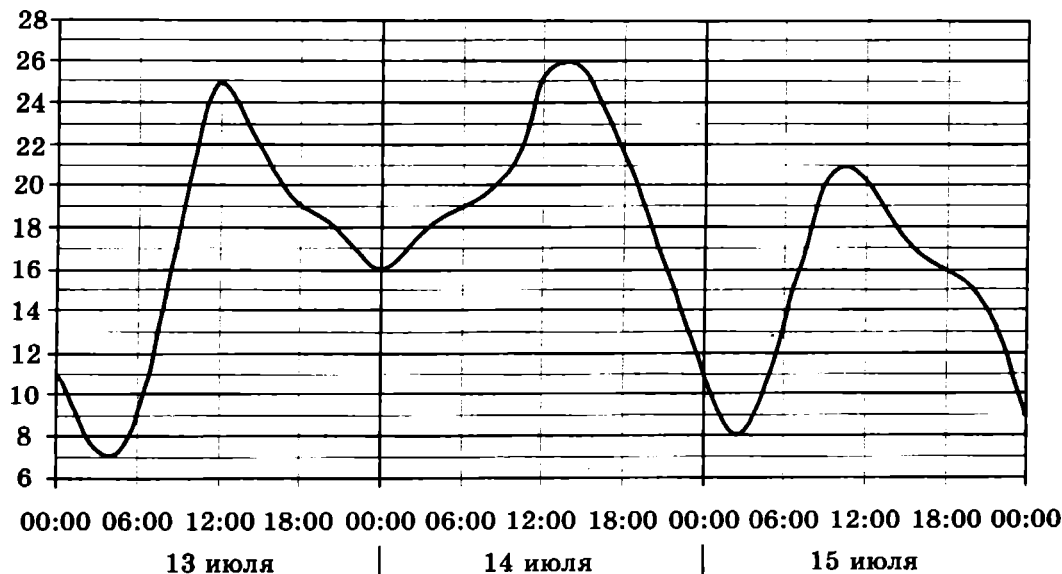
Ответом к заданиям 1–12 является целое число или конечная десятичная дробь. Запишите число в поле ответа в тексте работы, затем перенесите его в БЛАНК ОТВЕТОВ № 1 справа от номера соответствующего задания, начиная с первой клеточки. Каждую цифру, знак «минус» и запятую пишите в отдельной клеточке в соответствии с приведёнными в бланке образцами. Единицы измерений писать не нужно.

Часть 1

- 1 Розничная цена учебника 460 рублей, она на 15% выше оптовой цены. Какое наибольшее число таких учебников можно купить по оптовой цене на 8200 рублей?

Ответ: _____.

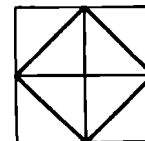
- 2 На рисунке показано изменение температуры воздуха на протяжении трёх суток. По горизонтали указывается дата и время, по вертикали — значение температуры в градусах Цельсия. Определите по рисунку наименьшую температуру воздуха 14 июля. Ответ дайте в градусах Цельсия.



Ответ: _____.

- 3 На клетчатой бумаге с размером клетки 1×1 изображён квадрат. Найдите радиус описанной около него окружности.

Ответ: _____.



- 4 На фабрике керамической посуды 10% произведённых тарелок имеют дефект. При контроле качества продукции выявляется 55% дефектных тарелок. Остальные тарелки поступают в продажу. Найдите вероятность того, что случайно выбранная при покупке тарелка не имеет дефектов. Ответ округлите до сотых.

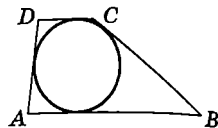
Ответ: _____.

- 5 Найдите корень уравнения $\log_2 (10 - 5x) = 3 \log_2 5$.

Ответ: _____.

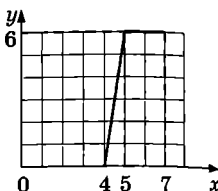
- 6 Боковые стороны трапеции, описанной около окружности, равны 25 и 5. Найдите среднюю линию трапеции.

Ответ: _____.



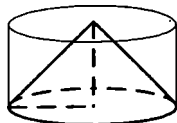
- 7 На рисунке изображён график функции $y = f(x)$ (два луча с общей начальной точкой). Пользуясь рисунком, вычислите $F(7) - F(4)$, где $F(x)$ — одна из первообразных функции $f(x)$.

Ответ: _____.



- 8 Цилиндр и конус имеют общие основание и высоту. Высота цилиндра равна радиусу основания. Площадь боковой поверхности конуса равна $14\sqrt{2}$. Найдите площадь боковой поверхности цилиндра.

Ответ: _____.



Не забудьте перенести все ответы в бланк ответов № 1.

Часть 2

- 9 Найдите значение выражения $(\sqrt{12} - \sqrt{48}) \cdot \sqrt{3}$.

Ответ: _____.

- 10 Водолазный колокол, содержащий $v = 5$ моль воздуха при давлении $p_1 = 1,6$ атмосферы, медленно опускают на дно водоёма. При этом происходит сжатие воздуха до конечного давления p_2 . Работа, совершаемая водой при сжатии воздуха, определяется выражением $A = \alpha v T \log_2 \frac{p_2}{p_1}$, где $\alpha = 7,4 \frac{\text{Дж}}{\text{моль} \cdot \text{К}}$ — постоянная, $T = 300 \text{ К}$ — температура воздуха. Найдите, какое давление p_2 (в атмосферах) будет иметь воздух в колоколе, если при сжатии воздуха была совершена работа в 33 300 Дж.

Ответ: _____.

- 11 Две бригады, состоящие из рабочих одинаковой квалификации, одновременно начали выполнять два одинаковых заказа. В первой бригаде было 13 рабочих, а во второй — 14 рабочих. Через 7 дней после начала работы в первую бригаду перешли 4 рабочих из второй бригады. В итоге оба заказа были выполнены одновременно. Найдите, сколько дней потребовалось на выполнение заказов.

Ответ: _____.

- 12 Найдите наибольшее значение функции $y = x^2(x - 8) + 10$ на отрезке $[-9; 5]$.

Ответ: _____.



Не забудьте перенести все ответы в бланк ответов № 1 в соответствии с инструкцией по выполнению работы.

Проверьте, чтобы каждый ответ был записан в строке с номером соответствующего задания.

Для записи решений и ответов на задания 13–19 используйте БЛАНК ОТВЕТОВ № 2. Запишите сначала номер выполняемого задания (13, 14 и т. д.), а затем полное обоснованное решение и ответ. Ответы записывайте чётко и разборчиво.

13 а) Решите уравнение $\operatorname{tg}(\pi + x) \cos\left(2x - \frac{\pi}{2}\right) = \cos\left(-\frac{\pi}{3}\right)$.

б) Укажите корни этого уравнения, принадлежащие отрезку $\left[7\pi; \frac{17\pi}{2}\right]$.

14 Противоположные боковые грани правильной четырёхугольной пирамиды $MABCD$ с основанием $ABCD$ попарно перпендикулярны. Через середины K и L рёбер AB и AD соответственно и точку M проведена плоскость α .

а) Докажите, что сечение пирамиды $MABCD$ плоскостью α является равносторонним треугольником.

б) Найдите угол между плоскостью α и ребром MB .

15 Решите неравенство $0,5 \cdot \frac{x-2}{2x+4} \cdot 10^x \cdot x^{-2} \geq \frac{32 \cdot \frac{x-2}{2x+4} \cdot 40^x}{16x^2}$.

16 Вершины K и L квадрата $KLMN$ с центром O лежат на стороне AB треугольника ABC , а вершины M и N — на сторонах BC и AC соответственно. Высота CH треугольника ABC проходит через точку O и пересекает отрезок MN в точке D , причём $CD = DO = OH$.

а) Докажите, что треугольник ABC равнобедренный и прямоугольный.

б) Пусть прямая AD пересекает сторону BC в точке Q . Найдите AQ , если сторона квадрата $KL = 2$.

17 Клиент банка планирует взять 15 августа кредит на 17 месяцев. Условия возврата таковы: — 1-го числа каждого месяца долг возрастает на $r\%$ по сравнению с концом предыдущего месяца;

— со 2-го по 14-е число каждого месяца необходимо выплатить часть долга;

— 15-го числа каждого месяца долг должен быть на одну и ту же величину меньше долга на 15-е число предыдущего месяца.

Известно, что общая сумма денег, которую нужно выплатить банку за весь срок кредитования, на 9% больше, чем сумма, взятая в кредит. Найдите r .

18 Найдите все значения a , при каждом из которых система уравнений

$$\begin{cases} (ay + ax + 3)(y + x - a) = 0, \\ |xy| = a \end{cases}$$

имеет от одного до пяти решений.

19 На доске в одну строку слева направо написаны несколько не обязательно различных натуральных чисел. Известно, что каждое следующее число (кроме первого) или на 1 больше предыдущего, или в 2 раза меньше предыдущего.

а) Может ли оказаться так, что первое число равно 8, а шестое равно 5?

б) Может ли оказаться так, что первое число равно 1000, а двадцатое равно 62?

в) Какое наименьшее количество чисел могло быть написано на доске, если первое число равно 1000, а последнее число равно 9?



Проверьте, чтобы каждый ответ был записан рядом с номером соответствующего задания.

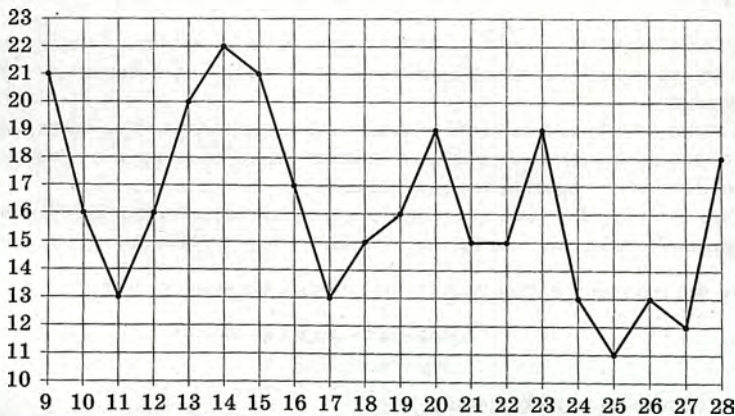
Ответом к заданиям 1–12 является целое число или конечная десятичная дробь. Запишите число в поле ответа в тексте работы, затем перенесите его в БЛАНК ОТВЕТОВ № 1 справа от номера соответствующего задания, начиная с первой клеточки. Каждую цифру, знак «минус» и запятую пишите в отдельной клеточке в соответствии с приведёнными в бланке образцами. Единицы измерений писать не нужно.

Часть 1

- 1 Студент получил свой первый гонорар в размере 1300 рублей за выполненный перевод. Он решил на все полученные деньги купить букет роз для своей учительницы английского языка. Какое наибольшее количество роз сможет купить студент, если удержанный у него налог на доходы составляет 13% гонорара, розы стоят 100 рублей за штуку и букет должен состоять из нечётного числа цветов?

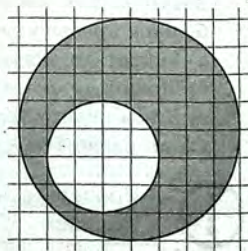
Ответ: _____.

- 2 На рисунке жирными точками показана средняя температура воздуха в Калининграде во все дни с 9 по 28 апреля 2018 года. По горизонтали указываются числа месяца, по вертикали — средняя температура в градусах Цельсия. Для наглядности точки на рисунке соединены линией. Определите, сколько дней за данный период средняя температура в Калининграде была меньше 16 градусов Цельсия.



Ответ: _____.

- 3 На клетчатой бумаге изображены два круга. Площадь внутреннего круга равна 2. Найдите площадь заштрихованной фигуры.



Ответ: _____.

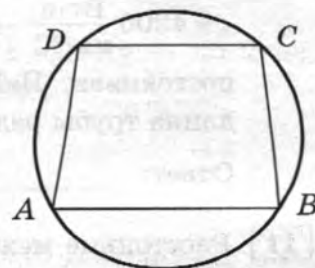
- 4 Автоматическая линия изготавливает батарейки. Вероятность того, что готовая батарейка неисправна, равна 0,03. Перед упаковкой каждая батарейка проходит систему контроля качества. Вероятность того, что неисправная батарейка будет забракована, равна 0,97. Вероятность того, что система по ошибке забракует исправную батарейку, равна 0,02. Найдите вероятность того, что случайно выбранная батарейка будет забракована системой контроля.

Ответ: _____.

- 5 Найдите наибольший отрицательный корень уравнения $\sin \frac{\pi x}{3} = -\frac{\sqrt{3}}{2}$.

Ответ: _____.


- 6 Основания равнобедренной трапеции равны 32 и 24. Центр окружности, описанной около трапеции, лежит внутри трапеции, а радиус окружности равен 20. Найдите высоту трапеции.



Ответ: _____.

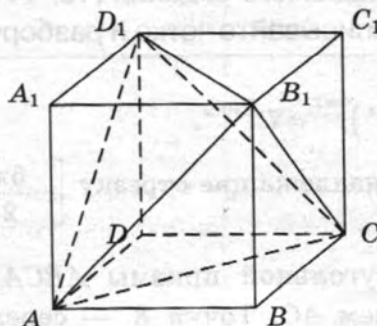
- 7 На рисунке изображён график функции $y = f(x)$.

Функция $F(x) = -\frac{4}{9}x^3 - \frac{34}{3}x^2 - \frac{280}{3}x - \frac{18}{5}$ — одна из первообразных функции $f(x)$. Найдите площадь закрашенной фигуры.



Ответ: _____.

- 8 Объём параллелепипеда $ABCD A_1 B_1 C_1 D_1$ равен 3. Найдите объём треугольной пирамиды $AD_1 CB_1$.



Ответ: _____.

Не забудьте перенести все ответы в бланк ответов № 1.

9 Найдите значение выражения $\frac{\left(2^{\frac{8}{5}} \cdot 5^{\frac{2}{3}}\right)^{15}}{10^9}$.

Ответ: _____.

- 10 Для обогрева помещения, температура в котором поддерживается на уровне $T_{\text{п}} = 25^\circ\text{C}$, через радиатор отопления пропускают горячую воду. Расход проходящей через трубу радиатора воды $m = 0,5$ кг/с. Проходя по трубе расстояние x , вода охлаждается от начальной температуры $T_{\text{в}} = 85^\circ\text{C}$ до температуры T , причём $x = \alpha \frac{cm}{\gamma} \log_2 \frac{T_{\text{в}} - T_{\text{п}}}{T - T_{\text{п}}}$, где $c = 4200 \frac{\text{Вт} \cdot \text{с}}{\text{кг} \cdot ^\circ\text{C}}$ — теплоёмкость воды, $\gamma = 21 \frac{\text{Вт}}{\text{м} \cdot ^\circ\text{C}}$ — коэффициент теплообмена, а $\alpha = 1,4$ — постоянная. Найдите, до какой температуры (в градусах Цельсия) охладится вода, если длина трубы радиатора равна 140 м.

Ответ: _____.

- 11 Расстояние между городами А и В равно 500 км. Из города А в город В выехал автомобиль, а через 2 часа следом за ним со скоростью 75 км/ч выехал мотоциклист, догнал автомобиль в городе С и повернул обратно. Когда он вернулся в А, автомобиль прибыл в В. Найдите скорость автомобиля. Ответ дайте в километрах в час.

Ответ: _____.

- 12 В какой точке функция $y = \sqrt{x^2 + 10x + 55}$ принимает наименьшее значение?

Ответ: _____.



Не забудьте перенести все ответы в бланк ответов № 1 в соответствии с инструкцией по выполнению работы.

Проверьте, чтобы каждый ответ был записан в строке с номером соответствующего задания.

Для записи решений и ответов на задания 13–19 используйте БЛАНК ОТВЕТОВ № 2. Запишите сначала номер выполняемого задания (13, 14 и т. д.), а затем полное обоснованное решение и ответ. Ответы записывайте чётко и разборчиво.

13 а) Решите уравнение $\left(49^{\sin x}\right)^{\cos x} = 7\sqrt{5} \sin x$.

б) Найдите его корни, принадлежащие отрезку $\left[-\frac{5\pi}{2}; -\frac{3\pi}{2}\right]$.

- 14 В основании прямой треугольной призмы $ABCA_1B_1C_1$ лежит равнобедренный треугольник ABC с основанием AC . Точка K — середина ребра A_1B_1 , а точка M делит ребро AC в отношении $AM : MC = 1 : 3$.

а) Докажите, что KM перпендикулярно AC .

б) Найдите угол между прямой KM и плоскостью ABB_1 , если $AB = 8$, $AC = 12$ и $AA_1 = 5$.

15 Решите неравенство $\sqrt{x+4} - \sqrt{x-1} > \sqrt{x-2}$.

16 Дан треугольник ABC . Серединный перпендикуляр к стороне AB пересекается с биссектрисой угла BAC в точке K , лежащей на стороне BC .

а) Докажите, что $AC^2 = BC \cdot CK$.

б) Найдите радиус окружности, вписанной в треугольник AKC , если $\sin B = 0,6$ и сторона $AC = 24$.

17 У фермера есть два поля, каждое площадью 20 гектаров. На каждом поле можно выращивать картофель и свёклу, поля можно делить между этими культурами в любой пропорции. Урожайность картофеля на первом поле составляет 450 ц/га, а на втором — 300 ц/га. Урожайность свёклы на первом поле составляет 250 ц/га, а на втором — 400 ц/га.

Фермер может продавать картофель по цене 2000 руб. за центнер, а свёклу — по цене 2500 руб. за центнер. Какой наибольший доход может получить фермер?

18 Найдите все значения a , при каждом из которых уравнение

$$\log_{a-3,5}(4x^2+9) = \log_{a-3,5}(4(a-3)x+8)$$

имеет ровно два различных корня.

19 Конечная последовательность a_1, a_2, \dots, a_n состоит из $n \geq 3$ не обязательно различных натуральных чисел, причём при всех натуральных $k \leq n-2$ выполнено равенство $a_{k+2} = 2a_{k+1} - a_k + 1$.

а) Приведите пример такой последовательности при $n = 5$, в которой $a_5 = 5$.

б) Может ли в такой последовательности некоторое число встретиться три раза?

в) При каком наибольшем n такая последовательность может состоять только из двузначных чисел?



Проверьте, чтобы каждый ответ был записан рядом с номером соответствующего задания.

Ответом к заданиям 1–12 является целое число или конечная десятичная дробь. Запишите число в поле ответа в тексте работы, затем перенесите его в БЛАНК ОТВЕТОВ № 1 справа от номера соответствующего задания, начиная с первой клеточки. Каждую цифру, знак «минус» и запятую пишите в отдельной клеточке в соответствии с приведёнными в бланке образцами. Единицы измерений писать не нужно.

Часть 1

- 1 Студент получил свой первый гонорар в размере 700 рублей за выполненный перевод. Он решил на все полученные деньги купить букет гвоздик для своей учительницы английского языка. Какое наибольшее количество гвоздик сможет купить студент, если удержанный у него налог на доходы составляет 13% гонорара, гвоздики стоят 40 рублей за штуку и букет должен состоять из нечётного числа цветов?

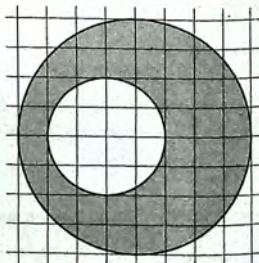
Ответ: _____.

- 2 На рисунке жирными точками показана среднемесячная температура воздуха в Сочи за каждый месяц 1920 года. По горизонтали указываются месяцы, по вертикали — температура в градусах Цельсия. Для наглядности жирные точки соединены линией. Определите по рисунку разность между наибольшей и наименьшей среднемесячными температурами за указанный период. Ответ дайте в градусах Цельсия.



Ответ: _____.

- 3 На клетчатой бумаге изображены два круга. Площадь внутреннего круга равна 5. Найдите площадь заштрихованной фигуры.



Ответ: _____.

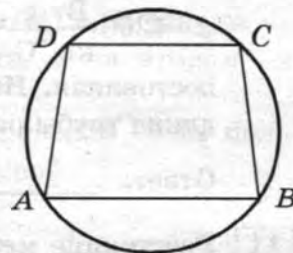
- 4 Автоматическая линия изготавливает батарейки. Вероятность того, что готовая батарейка неисправна, равна 0,02. Перед упаковкой каждая батарейка проходит систему контроля качества. Вероятность того, что неисправная батарейка будет забракована, равна 0,97. Вероятность того, что система по ошибке забракует исправную батарейку, равна 0,02. Найдите вероятность того, что случайно выбранная батарейка будет забракована системой контроля.

Ответ: _____.

- 5 Найдите наибольший отрицательный корень уравнения $\sin \frac{\pi x}{4} = \frac{\sqrt{2}}{2}$.

Ответ: _____.


- 6 Основания равнобедренной трапеции равны 48 и 20. Центр окружности, описанной около трапеции, лежит внутри трапеции, а радиус окружности равен 26. Найдите высоту трапеции.



Ответ: _____.

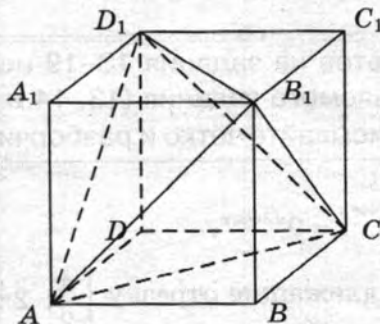
- 7 На рисунке изображён график функции $y = f(x)$.

Функция $F(x) = -\frac{1}{4}x^3 - 6x^2 - \frac{189}{4}x - 1$ — одна из первообразных функции $f(x)$. Найдите площадь закрашенной фигуры.



Ответ: _____.

- 8 Объём параллелепипеда $ABCD A_1 B_1 C_1 D_1$ равен 6. Найдите объём треугольной пирамиды $AD_1 CB_1$.



Ответ: _____.

Не забудьте перенести все ответы в бланк ответов № 1.

9 Найдите значение выражения $\frac{\left(5^{\frac{4}{7}} \cdot 9^{\frac{2}{3}}\right)^{21}}{45^{12}}$.

Ответ: _____.

- 10 Для обогрева помещения, температура в котором поддерживается на уровне $T_{\Pi} = 25^{\circ}\text{C}$, через радиатор отопления пропускают горячую воду. Расход проходящей через трубу радиатора воды $m = 0,3 \text{ кг/с}$. Проходя по трубе расстояние x , вода охлаждается от начальной температуры $T_{\text{в}} = 57^{\circ}\text{C}$ до температуры T , причём $x = \alpha \frac{cm}{\gamma} \log_2 \frac{T_{\text{в}} - T_{\Pi}}{T - T_{\Pi}}$, где $c = 4200 \frac{\text{Вт} \cdot \text{с}}{\text{кг} \cdot ^{\circ}\text{C}}$ — теплоёмкость воды, $\gamma = 63 \frac{\text{Вт}}{\text{м} \cdot ^{\circ}\text{C}}$ — коэффициент теплообмена, а $\alpha = 1,4$ — постоянная. Найдите, до какой температуры (в градусах Цельсия) охладится вода, если длина трубы радиатора равна 56 м.

Ответ: _____.

- 11 Расстояние между городами А и В равно 400 км. Из города А в город В выехал автомобиль, а через час следом за ним со скоростью 120 км/ч выехал мотоциклист, догнал автомобиль в городе С и повернул обратно. Когда он вернулся в А, автомобиль прибыл в В. Найдите скорость автомобиля. Ответ дайте в километрах в час.

Ответ: _____.

- 12 В какой точке функция $y = \sqrt{x^2 - 6x + 13}$ принимает наименьшее значение?

Ответ: _____.



Не забудьте перенести все ответы в бланк ответов № 1 в соответствии с инструкцией по выполнению работы.

Проверьте, чтобы каждый ответ был записан в строке с номером соответствующего задания.

Для записи решений и ответов на задания 13–19 используйте БЛАНК ОТВЕТОВ № 2. Запишите сначала номер выполняемого задания (13, 14 и т. д.), а затем полное обоснованное решение и ответ. Ответы записывайте чётко и разборчиво.

- 13 а) Решите уравнение $(81^{\sin x})^{\cos x} = 9^{\sqrt{2} \cos x}$.

б) Найдите его корни, принадлежащие отрезку $\left[\frac{\pi}{2}; 2\pi\right]$.

- 14 В основании прямой треугольной призмы $ABCA_1B_1C_1$ лежит равнобедренный треугольник ABC с основанием AC . Точка K — середина ребра A_1B_1 , а точка M делит ребро AC в отношении $AM : MC = 1 : 3$.

а) Докажите, что KM перпендикулярно AC .

б) Найдите угол между прямой KM и плоскостью ABB_1 , если $AB = 5$, $AC = 8$ и $AA_1 = 4$.

15 Решите неравенство $\sqrt{x+2} - \sqrt{2x-1} > \sqrt{x-2}$.

16 Дан треугольник ABC . Серединный перпендикуляр к стороне AB пересекается с биссектрисой угла BAC в точке K , лежащей на стороне BC .

а) Докажите, что $AC^2 = BC \cdot CK$.

б) Найдите радиус окружности, вписанной в треугольник AKC , если $\sin B = \frac{\sqrt{11}}{6}$ и сторона $AC = 45$.

17 У фермера есть два поля, каждое площадью 15 гектаров. На каждом поле можно выращивать картофель и свёклу, поля можно делить между этими культурами в любой пропорции. Урожайность картофеля на первом поле составляет 200 ц/га, а на втором — 450 ц/га. Урожайность свёклы на первом поле составляет 300 ц/га, а на втором — 200 ц/га.

Фермер может продавать картофель по цене 1200 руб. за центнер, а свёклу — по цене 1400 руб. за центнер. Какой наибольший доход может получить фермер?

18 Найдите все значения a , при каждом из которых уравнение

$$\log_{a+2,5}(x^2 + 4) = \log_{a+2,5}((a+4)x + 3)$$

имеет ровно два различных корня.

19 Конечная последовательность a_1, a_2, \dots, a_n состоит из $n \geq 3$ не обязательно различных натуральных чисел, причём при всех натуральных $k \leq n-2$ выполнено равенство $a_{k+2} = 2a_{k+1} - a_k + 1$.

а) Приведите пример такой последовательности при $n = 5$, в которой $a_5 = 3$.

б) Может ли в такой последовательности оказаться так, что $a_3 = a_{11}$?

в) При каком наибольшем n такая последовательность может состоять только из чисел, не превосходящих 50?



Проверьте, чтобы каждый ответ был записан рядом с номером соответствующего задания.

Ответом к заданиям 1–12 является целое число или конечная десятичная дробь. Запишите число в поле ответа в тексте работы, затем перенесите его в БЛАНК ОТВЕТОВ № 1 справа от номера соответствующего задания, начиная с первой клеточки. Каждую цифру, знак «минус» и запятую пишите в отдельной клеточке в соответствии с приведёнными в бланке образцами. Единицы измерений писать не нужно.

Часть 1

- 1 Студент получил свой первый гонорар в размере 1100 рублей за выполненный перевод. Он решил на все полученные деньги купить букет лилий для своей учительницы английского языка. Какое наибольшее количество лилий сможет купить студент, если удержанный у него налог на доходы составляет 13% гонорара, лилии стоят 120 рублей за штуку и букет должен состоять из нечётного числа цветов?

Ответ: _____.

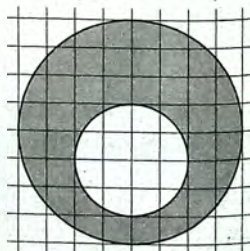
- 2 На рисунке жирными точками показана цена никеля на момент закрытия биржевых торгов во все рабочие дни с 4 по 15 марта 2019 года. По горизонтали указываются числа месяца, по вертикали — цена никеля в долларах США за тонну. Для наглядности жирные точки на рисунке соединены линиями.



Определите по рисунку разность между наибольшей и наименьшей ценой никеля на момент закрытия торгов за данный период. Ответ дайте в долларах США за тонну.

Ответ: _____.

- 3 На клетчатой бумаге изображены два круга. Площадь внутреннего круга равна 4. Найдите площадь заштрихованной фигуры.



Ответ: _____.

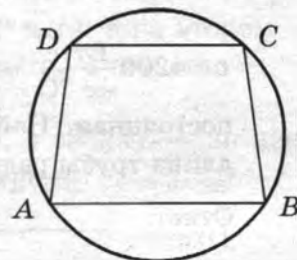
- 4 Автоматическая линия изготавливает батарейки. Вероятность того, что готовая батарейка неисправна, равна 0,04. Перед упаковкой каждая батарейка проходит систему контроля качества. Вероятность того, что неисправная батарейка будет забракована, равна 0,95. Вероятность того, что система по ошибке забракует исправную батарейку, равна 0,01. Найдите вероятность того, что случайно выбранная батарейка будет забракована системой контроля.

Ответ: _____.

- 5 Найдите наименьший положительный корень уравнения $\sin \frac{\pi x}{3} = -\frac{\sqrt{3}}{2}$.

Ответ: _____.

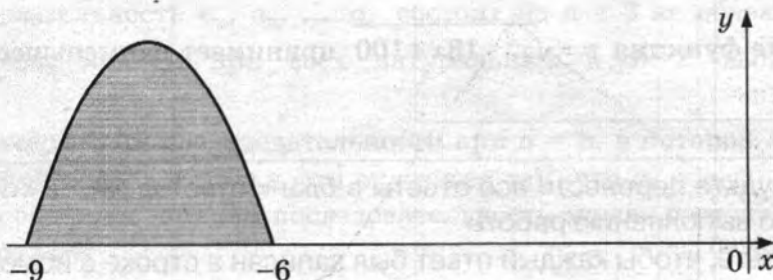
- 6 Основания равнобедренной трапеции равны 72 и 30. Центр окружности, описанной около трапеции, лежит внутри трапеции, а радиус окружности равен 39. Найдите высоту трапеции.



Ответ: _____.

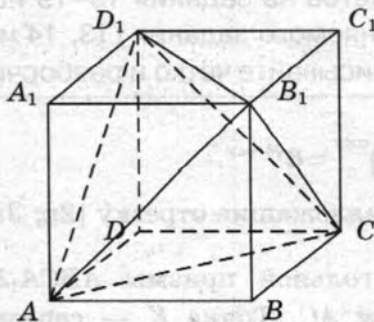
- 7 На рисунке изображён график функции $y = f(x)$.

Функция $F(x) = -\frac{10}{27}x^3 - \frac{25}{3}x^2 - 60x - \frac{5}{11}$ — одна из первообразных функции $f(x)$. Найдите площадь закрашенной фигуры.



Ответ: _____.

- 8 Объём параллелепипеда $ABCD A_1 B_1 C_1 D_1$ равен 21. Найдите объём треугольной пирамиды $AD_1 CB_1$.



Ответ: _____.

Не забудьте перенести все ответы в бланк ответов № 1.

Часть 2

9 Найдите значение выражения $\frac{\left(4^{\frac{4}{7}} \cdot 7^{\frac{2}{3}}\right)^{21}}{28^{12}}.$

Ответ: _____.

- 10 Для обогрева помещения, температура в котором поддерживается на уровне $T_{\text{п}} = 25^\circ\text{C}$, через радиатор отопления пропускают горячую воду. Расход проходящей через трубу радиатора воды $m = 0,3$ кг/с. Проходя по трубе расстояние x , вода охлаждается от начальной температуры $T_{\text{в}} = 49^\circ\text{C}$ до температуры T , причём $x = \alpha \frac{cm}{\gamma} \log_2 \frac{T_{\text{в}} - T_{\text{п}}}{T - T_{\text{п}}}$, где $c = 4200 \frac{\text{Вт} \cdot \text{с}}{\text{кг} \cdot ^\circ\text{C}}$ — теплоёмкость воды, $\gamma = 21 \frac{\text{Вт}}{\text{м} \cdot ^\circ\text{C}}$ — коэффициент теплообмена, а $\alpha = 1,1$ — постоянная. Найдите, до какой температуры (в градусах Цельсия) охладится вода, если длина трубы радиатора равна 66 м.

Ответ: _____.

- 11 Расстояние между городами А и В равно 400 км. Из города А в город В выехал автомобиль, а через 3 часа следом за ним со скоростью 110 км/ч выехал мотоциклист, догнал автомобиль в городе С и повернул обратно. Когда он вернулся в А, автомобиль прибыл в В. Найдите скорость автомобиля. Ответ дайте в километрах в час.

Ответ: _____.

- 12 В какой точке функция $y = \sqrt{x^2 - 18x + 100}$ принимает наименьшее значение?

Ответ: _____.



Не забудьте перенести все ответы в бланк ответов № 1 в соответствии с инструкцией по выполнению работы.
Проверьте, чтобы каждый ответ был записан в строке с номером соответствующего задания.

Для записи решений и ответов на задания 13–19 используйте БЛАНК ОТВЕТОВ № 2. Запишите сначала номер выполняемого задания (13, 14 и т. д.), а затем полное обоснованное решение и ответ. Ответы записывайте чётко и разборчиво.

- 13 а) Решите уравнение $(36^{\sin x})^{\cos x} = 6^{\sqrt{3} \cos x}.$

б) Найдите его корни, принадлежащие отрезку $[2\pi; 3\pi]$.

- 14 В основании прямой треугольной призмы $ABCA_1B_1C_1$ лежит равнобедренный треугольник ABC с основанием AC . Точка K — середина ребра A_1B_1 , а точка M делит ребро AC в отношении $AM : MC = 1 : 3$.

а) Докажите, что KM перпендикулярно AC .

б) Найдите угол между прямой KM и плоскостью ABB_1 , если $AB = 10$, $AC = 12$ и $AA_1 = 7$.

15 Решите неравенство $\sqrt{x+2} - \sqrt{3x-1} > \sqrt{x-1}$.

16 Дан треугольник ABC . Серединный перпендикуляр к стороне AB пересекается с биссектрисой угла BAC в точке K , лежащей на стороне BC .

а) Докажите, что $AC^2 = BC \cdot CK$.

б) Найдите радиус окружности, вписанной в треугольник AKC , если $\sin B = \frac{\sqrt{5}}{3}$ и сторона $AC = 18$.

17 У фермера есть два поля, каждое площадью 15 гектаров. На каждом поле можно выращивать картофель и свёклу, поля можно делить между этими культурами в любой пропорции. Урожайность картофеля на первом поле составляет 150 ц/га, а на втором — 250 ц/га. Урожайность свёклы на первом поле составляет 300 ц/га, а на втором — 180 ц/га.

Фермер может продавать картофель по цене 2000 руб. за центнер, а свёклу — по цене 1800 руб. за центнер. Какой наибольший доход может получить фермер?

18 Найдите все значения a , при каждом из которых уравнение

$$\log_{2.5-a}(x^2 + 2) = \log_{2.5-a}((a-4)x + 1)$$

имеет ровно два различных корня.

19 Конечная последовательность a_1, a_2, \dots, a_n состоит из $n \geq 3$ не обязательно различных натуральных чисел, причём при всех натуральных $k \leq n-2$ выполнено равенство $a_{k+2} = 2a_{k+1} - a_k + 1$.

а) Приведите пример такой последовательности при $n = 5$, в которой $a_5 = 2$.

б) Может ли в такой последовательности оказаться так, что $a_6 = a_{18}$?

в) При каком наибольшем n такая последовательность может состоять только из чисел, не превосходящих 100?



Проверьте, чтобы каждый ответ был записан рядом с номером соответствующего задания.

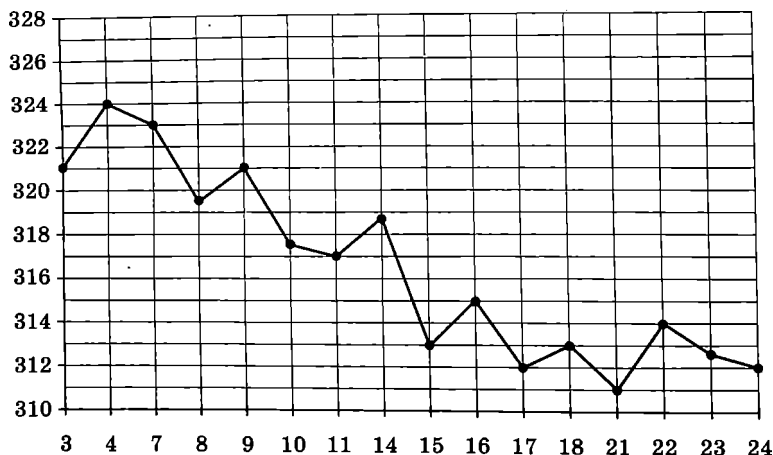
Ответом к заданиям 1–12 является целое число или конечная десятичная дробь. Запишите число в поле ответа в тексте работы, затем перенесите его в БЛАНК ОТВЕТОВ № 1 справа от номера соответствующего задания, начиная с первой клеточки. Каждую цифру, знак «минус» и запятую пишите в отдельной клеточке в соответствии с приведёнными в бланке образцами. Единицы измерений писать не нужно.

Часть 1

- 1** Студент получил свой первый гонорар в размере 900 рублей за выполненный перевод. Он решил на все полученные деньги купить букет тюльпанов для своей учительницы английского языка. Какое наибольшее количество тюльпанов сможет купить студент, если удержанный у него налог на доходы составляет 13% гонорара, тюльпаны стоят 60 рублей за штуку и букет должен состоять из нечётного числа цветов?

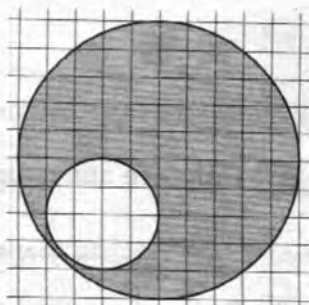
Ответ: _____.

- 2** На рисунке жирными точками показана цена золота на момент закрытия биржевых торгов во все рабочие дни с 3 по 24 октября 2002 года. По горизонтали указываются числа месяца, по вертикали — цена унции золота в долларах США. Для наглядности жирные точки на рисунке соединены линией. Определите по рисунку разность между наибольшей и наименьшей ценой золота на момент закрытия торгов в указанный период (в долларах США за унцию).



Ответ: _____.

- 3 На клетчатой бумаге изображены два круга. Площадь внутреннего круга равна 16. Найдите площадь заштрихованной фигуры.



Ответ: _____.

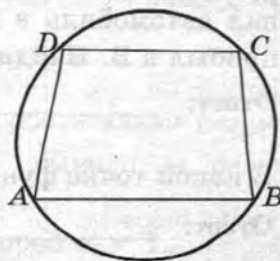
- 4 Автоматическая линия изготавливает батарейки. Вероятность того, что готовая батарейка неисправна, равна 0,02. Перед упаковкой каждая батарейка проходит систему контроля качества. Вероятность того, что неисправная батарейка будет забракована, равна 0,98. Вероятность того, что система по ошибке забракует исправную батарейку, равна 0,01. Найдите вероятность того, что случайно выбранная батарейка будет забракована системой контроля.

Ответ: _____.

- 5 Найдите наименьший положительный корень уравнения $\sin \frac{\pi x}{4} = \frac{\sqrt{2}}{2}$.

Ответ: _____.

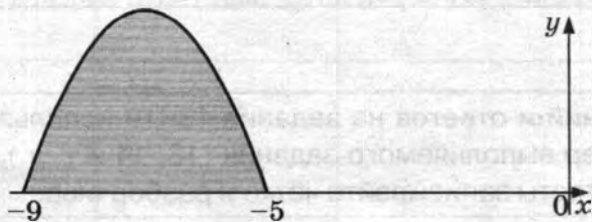
- 6 Основания равнобедренной трапеции равны 96 и 28. Центр окружности, описанной около трапеции, лежит внутри трапеции, а радиус окружности равен 50. Найдите высоту трапеции.



Ответ: _____.

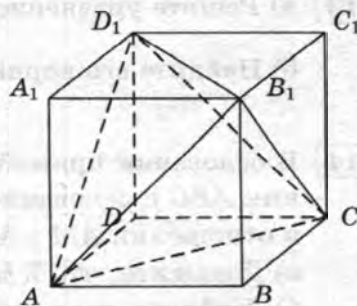
- 7 На рисунке изображён график функции $y = f(x)$.

Функция $F(x) = -\frac{1}{4}x^3 - \frac{21}{4}x^2 - \frac{135}{4}x - \frac{13}{2}$ — одна из первообразных функции $f(x)$. Найдите площадь закрашенной фигуры.



Ответ: _____.

- 8 Объём параллелепипеда $ABCD A_1 B_1 C_1 D_1$ равен 12. Найдите объём треугольной пирамиды $AD_1 CB_1$.



Ответ: _____.

Не забудьте перенести все ответы в бланк ответов № 1.

9 Найдите значение выражения $\frac{\left(7^{\frac{3}{5}} \cdot 9^{\frac{2}{3}}\right)^{15}}{63^9}$.

Ответ: _____.

- 10** Для обогрева помещения, температура в котором поддерживается на уровне $T_{\Pi} = 15^\circ\text{C}$, через радиатор отопления пропускают горячую воду. Расход проходящей через трубу радиатора воды $m = 1,4$ кг/с. Проходя по трубе расстояние x , вода охлаждается от начальной температуры $T_{\text{В}} = 75^\circ\text{C}$ до температуры T , причём $x = \alpha \frac{cm}{\gamma} \log_2 \frac{T_{\text{В}} - T_{\Pi}}{T - T_{\Pi}}$, где $c = 4200 \frac{\text{Вт} \cdot \text{с}}{\text{кг} \cdot ^\circ\text{C}}$ — теплоёмкость воды, $\gamma = 63 \frac{\text{Вт}}{\text{м} \cdot ^\circ\text{C}}$ — коэффициент теплообмена, а $\alpha = 1,8$ — постоянная. Найдите, до какой температуры (в градусах Цельсия) охладится вода, если длина трубы радиатора равна 168 м.

Ответ: _____.

- 11** Расстояние между городами А и В равно 600 км. Из города А в город В выехал автомобиль, а через 2 часа следом за ним со скоростью 90 км/ч выехал мотоциклист, догнал автомобиль в городе С и повернул обратно. Когда он вернулся в А, автомобиль прибыл в В. Найдите скорость автомобиля. Ответ дайте в километрах в час.

Ответ: _____.

- 12** В какой точке функция $y = \sqrt{x^2 - 22x + 122}$ принимает наименьшее значение?

Ответ: _____.



Не забудьте перенести все ответы в бланк ответов № 1 в соответствии с инструкцией по выполнению работы. Проверьте, чтобы каждый ответ был записан в строке с номером соответствующего задания.

Для записи решений и ответов на задания 13–19 используйте БЛАНК ОТВЕТОВ № 2. Запишите сначала номер выполняемого задания (13, 14 и т. д.), а затем полное обоснованное решение и ответ. Ответы записывайте чётко и разборчиво.

- 13** а) Решите уравнение $(64^{\sin x})^{\cos x} = 8^{\sin x}$.

б) Найдите его корни, принадлежащие отрезку $\left[-\frac{5\pi}{2}; -\frac{3\pi}{2}\right]$.

- 14** В основании прямой треугольной призмы $ABCA_1B_1C_1$ лежит равнобедренный треугольник ABC с основанием AC . Точка K — середина ребра A_1B_1 , а точка M делит ребро AC в отношении $AM : MC = 1 : 3$.

а) Докажите, что KM перпендикулярно AC .

б) Найдите угол между прямой KM и плоскостью ABB_1 , если $AB = 10$, $AC = 16$ и $AA_1 = 5$.

15 Решите неравенство $\sqrt{x+3} - \sqrt{3x-2} > \sqrt{x-2}$.

16 Дан треугольник ABC . Серединный перпендикуляр к стороне AB пересекается с биссектрисой угла BAC в точке K , лежащей на стороне BC .

а) Докажите, что $AC^2 = BC \cdot CK$.

б) Найдите радиус окружности, вписанной в треугольник AKC , если $\sin B = \frac{\sqrt{7}}{4}$ и сторона $AC = 36$.

17 У фермера есть два поля, каждое площадью 10 гектаров. На каждом поле можно выращивать картофель и свёклу, поля можно делить между этими культурами в любой пропорции. Урожайность картофеля на первом поле составляет 200 ц/га, а на втором — 300 ц/га. Урожайность свёклы на первом поле составляет 250 ц/га, а на втором — 200 ц/га.

Фермер может продавать картофель по цене 1500 руб. за центнер, а свёклу — по цене 1800 руб. за центнер. Какой наибольший доход может получить фермер?

18 Найдите все значения a , при каждом из которых уравнение

$$\log_{a-7,5}(x^2+3) = \log_{a-7,5}((a-6)x+2)$$

имеет ровно два различных корня.

19 Конечная последовательность a_1, a_2, \dots, a_n состоит из $n \geq 3$ не обязательно различных натуральных чисел, причём при всех натуральных $k \leq n-2$ выполнено равенство $a_{k+2} = 2a_{k+1} - a_k + 1$.

а) Приведите пример такой последовательности при $n = 5$, в которой $a_5 = 1$.

б) Может ли в такой последовательности оказаться так, что $a_6 = a_{16}$?

в) При каком наибольшем n такая последовательность может состоять только из чисел, не превосходящих 75?



Проверьте, чтобы каждый ответ был записан рядом с номером соответствующего задания.

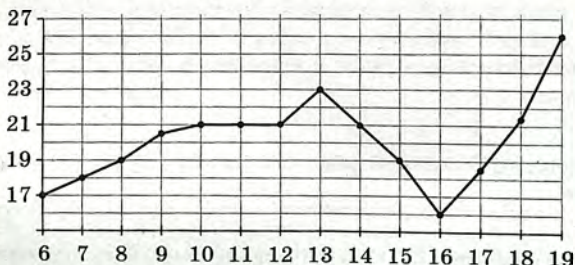
Ответом к заданиям 1–12 является целое число или конечная десятичная дробь. Запишите число в поле ответа в тексте работы, затем перенесите его в БЛАНК ОТВЕТОВ № 1 справа от номера соответствующего задания, начиная с первой клеточки. Каждую цифру, знак «минус» и запятую пишите в отдельной клеточке в соответствии с приведёнными в бланке образцами. Единицы измерений писать не нужно.

Часть 1

- 1 Студент получил свой первый гонорар в размере 1300 рублей за выполненный перевод. Он решил на все полученные деньги купить букет гвоздик для своей учительницы английского языка. Какое наибольшее количество гвоздик сможет купить студент, если удержанный у него налог на доходы составляет 13% гонорара, гвоздики стоят 40 рублей за штуку и букет должен состоять из нечётного числа цветов?

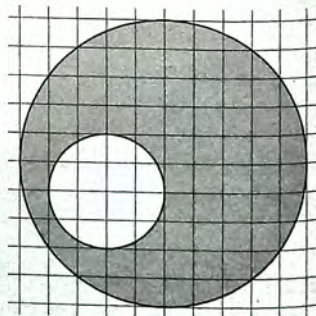
Ответ: _____.

- 2 На рисунке жирными точками показана среднесуточная температура воздуха в Бресте каждый день с 6 по 19 июля 1981 года. По горизонтали указываются числа месяца, по вертикали — температура в градусах Цельсия. Для наглядности жирные точки соединены линией. Определите по рисунку разность между наибольшей и наименьшей среднесуточными температурами за указанный период. Ответ дайте в градусах Цельсия.



Ответ: _____.

- 3 На клетчатой бумаге изображены два круга. Площадь внутреннего круга равна 12. Найдите площадь заштрихованной фигуры.



Ответ: _____.

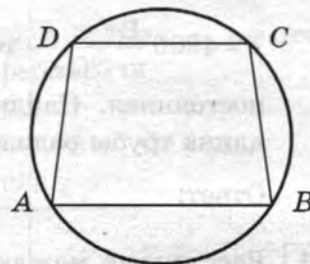
- 4 Автоматическая линия изготавливает батарейки. Вероятность того, что готовая батарейка неисправна, равна 0,05. Перед упаковкой каждая батарейка проходит систему контроля качества. Вероятность того, что неисправная батарейка будет забракована, равна 0,99. Вероятность того, что система по ошибке забракует исправную батарейку, равна 0,03. Найдите вероятность того, что случайно выбранная батарейка будет забракована системой контроля.

Ответ: _____.

- 5 Найдите наименьший положительный корень уравнения $\sin \frac{\pi x}{4} = -\frac{\sqrt{2}}{2}$.

Ответ: _____.


- 6 Основания равнобедренной трапеции равны 120 и 50. Центр окружности, описанной около трапеции, лежит внутри трапеции, а радиус окружности равен 65. Найдите высоту трапеции.



Ответ: _____.

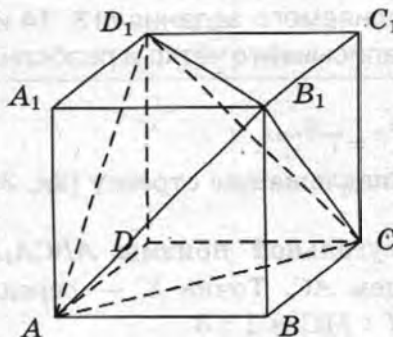
- 7 На рисунке изображён график функции $y = f(x)$.

Функция $F(x) = -x^3 - 21x^2 - 144x - \frac{11}{4}$ — одна из первообразных функции $f(x)$. Найдите площадь закрашенной фигуры.



Ответ: _____.

- 8 Объём параллелепипеда $ABCD A_1 B_1 C_1 D_1$ равен 27. Найдите объём треугольной пирамиды $AD_1 CB_1$.



Ответ: _____.

Не забудьте перенести все ответы в бланк ответов № 1.

9 Найдите значение выражения $\frac{\left(4^{\frac{4}{7}} \cdot 11^{\frac{2}{3}}\right)^{21}}{44^{12}}$.

Ответ: _____.

- 10 Для обогрева помещения, температура в котором поддерживается на уровне $T_{\Pi} = 20^{\circ}\text{C}$, через радиатор отопления пропускают горячую воду. Расход проходящей через трубу радиатора воды $m = 0,2$ кг/с. Проходя по трубе расстояние x , вода охлаждается от начальной температуры $T_{\text{в}} = 68^{\circ}\text{C}$ до температуры T , причём $x = \alpha \frac{cm}{\gamma} \log_2 \frac{T_{\text{в}} - T_{\Pi}}{T - T_{\Pi}}$, где $c = 4200 \frac{\text{Вт} \cdot \text{с}}{\text{кг} \cdot ^{\circ}\text{C}}$ — теплоёмкость воды, $\gamma = 21 \frac{\text{Вт}}{\text{м} \cdot ^{\circ}\text{C}}$ — коэффициент теплообмена, а $\alpha = 1,7$ — постоянная. Найдите, до какой температуры (в градусах Цельсия) охладится вода, если длина трубы радиатора равна 136 м.

Ответ: _____.

- 11 Расстояние между городами А и В равно 240 км. Из города А в город В выехал автомобиль, а через 2 часа следом за ним со скоростью 80 км/ч выехал мотоциклист, догнал автомобиль в городе С и повернул обратно. Когда он вернулся в А, автомобиль прибыл в В. Найдите скорость автомобиля. Ответ дайте в километрах в час.

Ответ: _____.

- 12 В какой точке функция $y = \sqrt{x^2 + 30x + 248}$ принимает наименьшее значение?

Ответ: _____.



Не забудьте перенести все ответы в бланк ответов № 1 в соответствии с инструкцией по выполнению работы.

Проверьте, чтобы каждый ответ был записан в строке с номером соответствующего задания.

Для записи решений и ответов на задания 13–19 используйте БЛАНК ОТВЕТОВ № 2. Запишите сначала номер выполняемого задания (13, 14 и т. д.), а затем полное обоснованное решение и ответ. Ответы записывайте чётко и разборчиво.

- 13 а) Решите уравнение $49^{\cos^2 x} = 7^{\sqrt{2} \cos x}$.

б) Найдите его корни, принадлежащие отрезку $[2\pi; 3\pi]$.

- 14 В основании прямой треугольной призмы $ABCA_1B_1C_1$ лежит равнобедренный треугольник ABC с основанием AC . Точка K — середина ребра A_1B_1 , а точка M делит ребро AC в отношении $AM : MC = 1 : 3$.

а) Докажите, что KM перпендикулярно AC .

б) Найдите угол между прямой KM и плоскостью ABB_1 , если $AB = 14$, $AC = 16$ и $AA_1 = 6$.

15 Решите неравенство $\sqrt{x+5} - \sqrt{2x-3} > \sqrt{x-3}$.

16 Дан треугольник ABC . Серединный перпендикуляр к стороне AB пересекается с биссектрисой угла BAC в точке K , лежащей на стороне BC .

а) Докажите, что $AC^2 = BC \cdot CK$.

б) Найдите радиус окружности, вписанной в треугольник AKC , если $\sin B = 0,8$ и сторона $AC = 30$.

17 У фермера есть два поля, каждое площадью 20 гектаров. На каждом поле можно выращивать картофель и свёклу, поля можно делить между этими культурами в любой пропорции. Урожайность картофеля на первом поле составляет 230 ц/га, а на втором — 150 ц/га. Урожайность свёклы на первом поле составляет 250 ц/га, а на втором — 300 ц/га.

Фермер может продавать картофель по цене 1800 руб. за центнер, а свёклу — по цене 1600 руб. за центнер. Какой наибольший доход может получить фермер?

18 Найдите все значения a , при каждом из которых уравнение

$$\log_{6,5-a}(x^2 + 3) = \log_{6,5-a}((a-8)x + 2)$$

имеет ровно два различных корня.

19 Конечная последовательность a_1, a_2, \dots, a_n состоит из $n \geq 3$ не обязательно различных натуральных чисел, причём при всех натуральных $k \leq n-2$ выполнено равенство $a_{k+2} = 2a_{k+1} - a_k + 1$.

а) Приведите пример такой последовательности при $n = 5$, в которой $a_5 = 1$.

б) Может ли в такой последовательности оказаться так, что $a_9 = a_{27}$?

в) При каком наибольшем n такая последовательность может состоять только из чисел, не превосходящих 150?



Проверьте, чтобы каждый ответ был записан рядом с номером соответствующего задания.


Ответом к заданиям 1–12 является целое число или конечная десятичная дробь. Запишите число в поле ответа в тексте работы, затем перенесите его в БЛАНК ОТВЕТОВ № 1 справа от номера соответствующего задания, начиная с первой клеточки. Каждую цифру, знак «минус» и запятую пишите в отдельной клеточке в соответствии с приведёнными в бланке образцами. Единицы измерений писать не нужно.

Часть 1

- 1 Диагональ экрана телевизора равна 21 дюйму. Выразите эту величину в сантиметрах. Считайте, что 1 дюйм равен 2,54 см. Результат округлите до целого числа сантиметров.

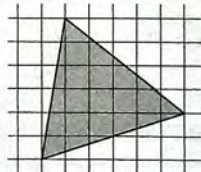
Ответ: _____.

- 2 На диаграмме показана среднемесячная температура воздуха в Екатеринбурге (Свердловске) за каждый месяц 1973 года. По горизонтали указываются месяцы, по вертикали — температура в градусах Цельсия. Определите по диаграмме наименьшую среднемесячную температуру в период с мая по декабрь 1973 года включительно. Ответ дайте в градусах Цельсия.



Ответ: _____.

- 3 На клетчатой бумаге с размером клетки 1×1 изображён треугольник. Найдите его площадь.



Ответ: _____.

- 4 В случайном эксперименте бросают две игральные кости. Найдите вероятность того, что разность выпавших очков равна 1 или 2.

Ответ: _____.

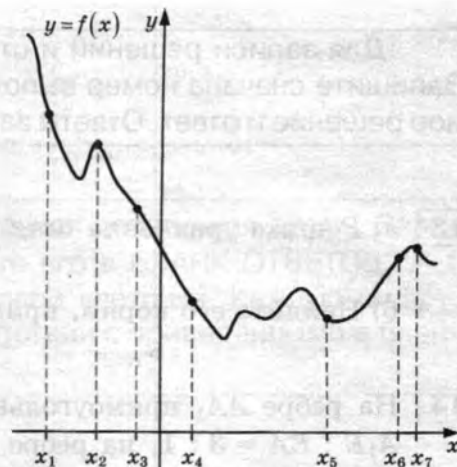
- 5 Найдите корень уравнения $\left(\frac{1}{2}\right)^{6-2x} = 4^{2x}$.

Ответ: _____.

- 6 В треугольнике ABC угол C равен 90° , $AB = 9$, $\operatorname{tg} A = \frac{5}{\sqrt{20}}$. Найдите AC .

Ответ: _____.

- 7 На рисунке изображены график функции $y = f(x)$ и семь точек на оси абсцисс: $x_1, x_2, x_3, x_4, x_5, x_6, x_7$. В скольких из этих точек производная функции $f(x)$ отрицательна?



Ответ: _____.

- 8 В сосуде, имеющем форму конуса, уровень жидкости достигает $\frac{1}{2}$ высоты. Объем жидкости равен 54 мл. Сколько миллилитров жидкости нужно долить, чтобы полностью наполнить сосуд?



Ответ: _____.

Не забудьте перенести все ответы в бланк ответов № 1.

Часть 2

- 9 Найдите значение выражения $(252^2 - 23^2) : 275$.

Ответ: _____.

- 10 Наблюдатель, находящийся на высоте h м над поверхностью земли, видит линию горизонта на расстоянии l км, которое можно найти по формуле $l = \sqrt{\frac{Rh}{500}}$, где $R = 6400$ км — радиус Земли.

Человек, стоящий на пляже, видит горизонт на расстоянии 4,8 километра. К пляжу ведёт лестница, каждая ступенька которой имеет высоту 10 см. На сколько ступенек ему нужно подняться, чтобы он увидел горизонт на расстоянии 6,4 километра?

Ответ: _____.

- 11 Если смешать 45-процентный раствор кислоты и 97-процентный раствор этой же кислоты и добавить 10 кг чистой воды, получится 62-процентный раствор кислоты. Если бы вместо 10 кг воды добавили 10 кг 50-процентного раствора той же кислоты, то получили бы 72-процентный раствор кислоты. Сколько килограммов 45-процентного раствора использовали для получения смеси?

Ответ: _____.

- 12 Найдите точку максимума функции $y = -\frac{x}{x^2 + 144}$.

Ответ: _____.



Не забудьте перенести все ответы в бланк ответов № 1 в соответствии с инструкцией по выполнению работы.

Проверьте, чтобы каждый ответ был записан в строке с номером соответствующего задания.

Для записи решений и ответов на задания 13–19 используйте БЛАНК ОТВЕТОВ № 2. Запишите сначала номер выполняемого задания (13, 14 и т. д.), а затем полное обоснованное решение и ответ. Ответы записывайте чётко и разборчиво.

13 а) Решите уравнение $\cos x + \sqrt{\frac{2-\sqrt{2}}{2}} \cdot (\sin x + 1) = 0$.

б) Найдите его корни, принадлежащие отрезку $\left[-\frac{11\pi}{2}; -4\pi\right]$.

14 На ребре AA_1 прямоугольного параллелепипеда $ABCD A_1 B_1 C_1 D_1$ взята точка E так, что $A_1 E : EA = 3 : 1$, на ребре BB_1 — точка F так, что $B_1 F : FB = 1 : 3$, а на ребре $B_1 C_1$ — точка T так, что $B_1 T : TC_1 = 1 : 2$. Известно, что $AB = 4$, $AD = 3$, $AA_1 = 4$.

а) Докажите, что плоскость EFT проходит через вершину D_1 .

б) Найдите угол между плоскостью EFT и плоскостью $BB_1 C_1$.

15 Решите неравенство $\sqrt[5]{32^{4x-3}} < \sqrt[4]{16^{\frac{2x+1}{x}}}$.

16 Прямая, проходящая через середину M гипотенузы AB прямоугольного треугольника ABC , перпендикулярна CM и пересекает катет AC в точке K . При этом $AK : KC = 1 : 2$.

а) Докажите, что $\angle BAC = 30^\circ$.

б) Пусть прямые MK и BC пересекаются в точке P , а прямые AP и BK — в точке Q . Найдите KQ , если $BC = 3\sqrt{2}$.

17 15 января планируется взять кредит в банке на 5 месяцев. Условия его возврата таковы:
— 1-го числа каждого месяца долг возрастает на 5% по сравнению с концом предыдущего месяца;

— со 2-го по 14-е число каждого месяца необходимо выплатить часть долга;

— 15-го числа каждого месяца долг должен быть на одну и ту же сумму меньше долга на 15-е число предыдущего месяца.

Сколько процентов от суммы кредита составляет общая сумма денег, которую нужно выплатить банку за весь срок кредитования?

18 Найдите все значения a , при каждом из которых уравнение

$$(x^2 + x + 2a^2 + 1)^2 = 8a^2(x^2 + x + 1)$$

имеет ровно один корень.

19 Конечная возрастающая последовательность a_1, a_2, \dots, a_n состоит из $n \geq 3$ различных натуральных чисел, причём при всех натуральных $k \leq n-2$ выполнено равенство $5a_{k+2} = 6a_{k+1} - a_k$.

а) Приведите пример такой последовательности при $n = 5$.

б) Может ли в такой последовательности при некотором $n \geq 3$ выполняться равенство $4a_n = 5a_2 - a_1$?

в) Какое наименьшее значение может принимать a_1 , если $a_n = 286$?



Проверьте, чтобы каждый ответ был записан рядом с номером соответствующего задания.

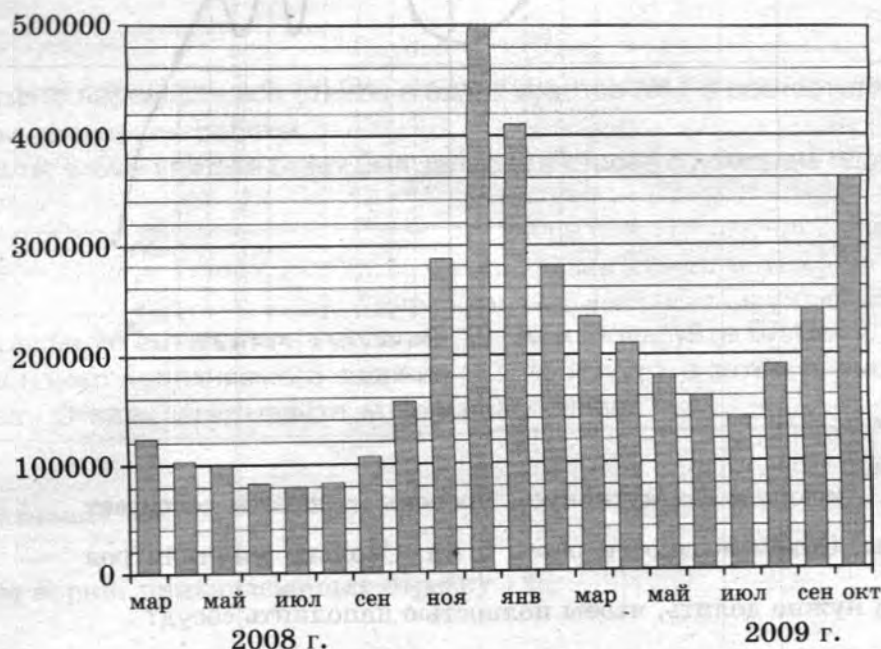
Ответом к заданиям 1–12 является целое число или конечная десятичная дробь. Запишите число в поле ответа в тексте работы, затем перенесите его в БЛАНК ОТВЕТОВ № 1 справа от номера соответствующего задания, начиная с первой клеточки. Каждую цифру, знак «минус» и запятую пишите в отдельной клеточке в соответствии с приведёнными в бланке образцами. Единицы измерений писать не нужно.

Часть 1

- 1** Диагональ экрана телевизора равна 35 дюймам. Выразите эту величину в сантиметрах. Считайте, что 1 дюйм равен 2,54 см. Результат округлите до целого числа сантиметров.

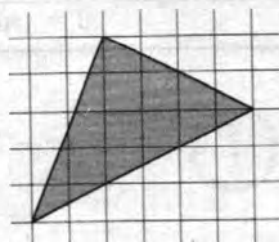
Ответ: _____.

- 2** На диаграмме показано количество запросов со словом СНЕГ, сделанных на поисковом сайте Yandex.ru во все месяцы с марта 2008 по октябрь 2009 года. По горизонтали указываются месяцы, по вертикали — количество запросов за данный месяц. Определите по диаграмме наименьшее месячное количество запросов со словом СНЕГ с января по октябрь 2009 года.



Ответ: _____.

- 3** На клетчатой бумаге с размером клетки 1×1 изображён треугольник. Найдите его площадь.



Ответ: _____.

- 4 В случайном эксперименте бросают три игральные кости. Найдите вероятность того, что сумма выпавших очков равна 9. Результат округлите до тысячных.

Ответ: _____.

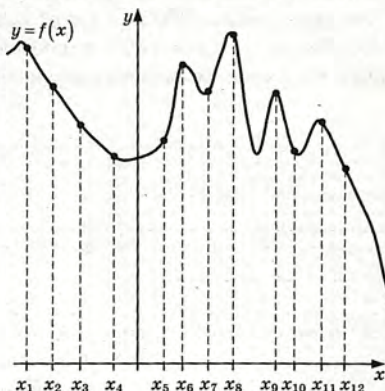
- 5 Найдите корень уравнения $\left(\frac{1}{2}\right)^{18-3x} = 64^x$.

Ответ: _____.

- 6 В треугольнике ABC угол C равен 90° , $AB = 8$, $\operatorname{tg} A = \frac{3}{\sqrt{3}}$. Найдите AC .

Ответ: _____.

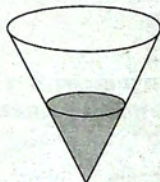
- 7 На рисунке изображены график функции $y = f(x)$ и двенадцать точек на оси абсцисс: $x_1, x_2, x_3, x_4, x_5, x_6, x_7, x_8, x_9, x_{10}, x_{11}, x_{12}$. В скольких из этих точек производная функции $f(x)$ отрицательна?



Ответ: _____.

- 8 В сосуде, имеющем форму конуса, уровень жидкости достигает $\frac{1}{4}$ высоты. Объем жидкости равен 5 мл. Сколько миллилитров жидкости нужно долить, чтобы полностью наполнить сосуд?

Ответ: _____.



Не забудьте перенести все ответы в бланк ответов № 1.

Часть 2

- 9 Найдите значение выражения $(168^2 - 11^2) : 179$.

Ответ: _____.

- 10 Наблюдатель, находящийся на высоте h м над поверхностью земли, видит линию горизонта на расстоянии l км, которое можно найти по формуле $l = \sqrt{\frac{Rh}{500}}$, где $R = 6400$ км — радиус Земли.

Человек, стоящий на пляже, видит горизонт на расстоянии 4,8 километра. К пляжу ведёт лестница, каждая ступенька которой имеет высоту 20 см. На сколько ступенек ему нужно подняться, чтобы он увидел горизонт на расстоянии 8 километров?

Ответ: _____.

- 11 Если смешать 54-процентный раствор кислоты и 61-процентный раствор этой же кислоты и добавить 10 кг чистой воды, получится 46-процентный раствор кислоты. Если бы вместо 10 кг воды добавили 10 кг 50-процентного раствора той же кислоты, то получили бы 56-процентный раствор кислоты. Сколько килограммов 54-процентного раствора использовали для получения смеси?

Ответ: _____.

- 12 Найдите точку максимума функции $y = -\frac{x}{x^2 + 196}$.

Ответ: _____.



Не забудьте перенести все ответы в бланк ответов № 1 в соответствии с инструкцией по выполнению работы.

Проверьте, чтобы каждый ответ был записан в строке с номером соответствующего задания.

Для записи решений и ответов на задания 13–19 используйте БЛАНК ОТВЕТОВ № 2. Запишите сначала номер выполняемого задания (13, 14 и т. д.), а затем полное обоснованное решение и ответ. Ответы записывайте чётко и разборчиво.

- 13 а) Решите уравнение $\cos x = \sqrt{\frac{1 + \sin x}{2}}$.

б) Найдите его корни, принадлежащие отрезку $\left[3\pi; \frac{9\pi}{2}\right]$.

- 14 На ребре AA_1 прямоугольного параллелепипеда $ABCD A_1 B_1 C_1 D_1$ взята точка E так, что $A_1 E : EA = 3 : 2$, на ребре BB_1 — точка F так, что $B_1 F : FB = 2 : 3$, а на ребре $B_1 C_1$ — точка T так, что $B_1 T : TC_1 = 2 : 1$. Известно, что $AB = 4$, $AD = 3$, $AA_1 = 5$.

а) Докажите, что плоскость EFT проходит через вершину D_1 .

б) Найдите угол между плоскостью EFT и плоскостью $BB_1 C_1$.

- 15 Решите неравенство $\sqrt[3]{8^{5x+3}} < \sqrt{\left(\frac{1}{16}\right)^{\frac{2x+1}{x}}}$.

- 16** Прямая, проходящая через середину M гипотенузы AB прямоугольного треугольника ABC , перпендикулярна CM и пересекает катет AC в точке K . При этом $AK : KC = 1 : 2$.
- а) Докажите, что $\angle BAC = 30^\circ$.
- б) Пусть прямые MK и BC пересекаются в точке P , а прямые AP и BK — в точке Q . Найдите KQ , если $BC = 4\sqrt{6}$.

- 17** 15 января планируется взять кредит в банке на 7 месяцев. Условия его возврата таковы:
- 1-го числа каждого месяца долг возрастает на 4% по сравнению с концом предыдущего месяца;
 - со 2-го по 14-е число каждого месяца необходимо выплатить часть долга;
 - 15-го числа каждого месяца долг должен быть на одну и ту же сумму меньше долга на 15-е число предыдущего месяца.
- Сколько процентов от суммы кредита составляет общая сумма денег, которую нужно выплатить банку за весь срок кредитования?

- 18** Найдите все значения a , при каждом из которых уравнение

$$(2x^2 + x + 3a^2 + 5)^2 = 12a^2(2x^2 + x + 5)$$

имеет ровно один корень.

- 19** Конечная возрастающая последовательность a_1, a_2, \dots, a_n состоит из $n \geq 3$ различных натуральных чисел, причём при всех натуральных $k \leq n - 2$ выполнено равенство $2a_{k+2} = 3a_{k+1} - a_k$.
- а) Приведите пример такой последовательности при $n = 6$.
- б) Может ли в такой последовательности при некотором $n \geq 3$ выполняться равенство $a_n = 2a_2 - a_1$?
- в) Какое наименьшее значение может принимать a_1 , если $a_n = 286$?



Проверьте, чтобы каждый ответ был записан рядом с номером соответствующего задания.

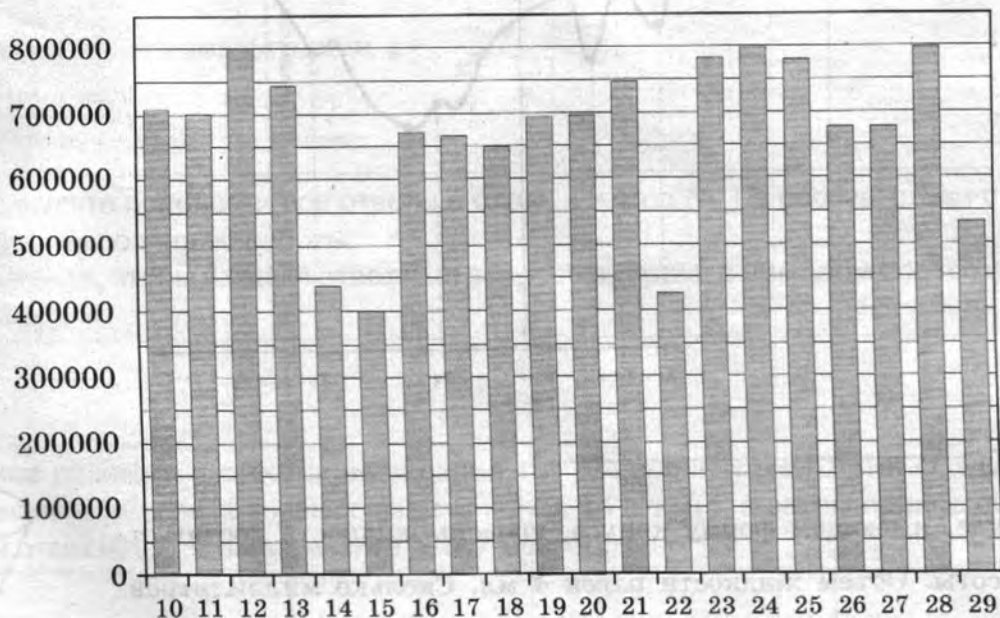
Ответом к заданиям 1–12 является целое число или конечная десятичная дробь. Запишите число в поле ответа в тексте работы, затем перенесите его в БЛАНК ОТВЕТОВ № 1 справа от номера соответствующего задания, начиная с первой клеточки. Каждую цифру, знак «минус» и запятую пишите в отдельной клеточке в соответствии с приведёнными в бланке образцами. Единицы измерений писать не нужно.

Часть 1

- 1 Диагональ экрана телевизора равна 37 дюймам. Выразите эту величину в сантиметрах. Считайте, что 1 дюйм равен 2,54 см. Результат округлите до целого числа сантиметров.

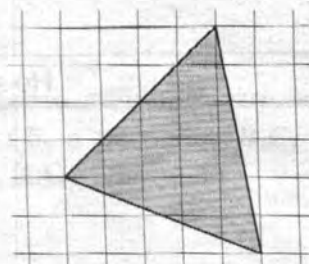
Ответ: _____.

- 2 На диаграмме показано количество посетителей сайта РИА Новости во все дни с 10 по 29 ноября 2009 года. По горизонтали указываются дни месяца, по вертикали — количество посетителей сайта за данный день. Определите по диаграмме, каково наименьшее суточное количество посетителей сайта РИА Новости в период с 16 по 21 ноября.



Ответ: _____.

- 3 На клетчатой бумаге с размером клетки 1×1 изображён треугольник. Найдите его площадь.



Ответ: _____.

- 4 В случайном эксперименте бросают две игральные кости. Найдите вероятность того, что одновременно хотя бы на одном кубике выпало число 1 и ни на одном кубике не выпало число 6.

Ответ: _____.

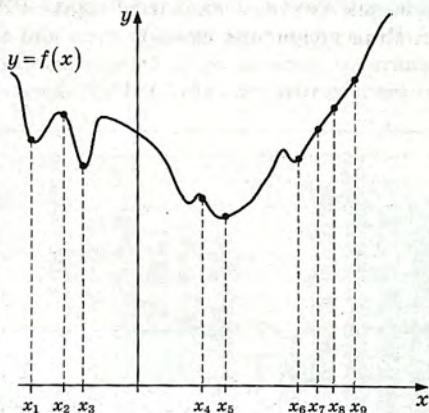
- 5 Найдите корень уравнения $\left(\frac{1}{3}\right)^{3-x} = 9^x$.

Ответ: _____.

- 6 В треугольнике ABC угол C равен 90° , $AB = 15$, $\operatorname{tg} A = \frac{3}{4}$. Найдите AC .

Ответ: _____.

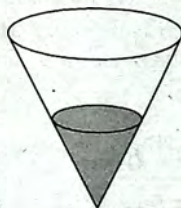
- 7 На рисунке изображены график функции $y = f(x)$ и девять точек на оси абсцисс: $x_1, x_2, x_3, x_4, x_5, x_6, x_7, x_8, x_9$. В скольких из этих точек производная функции $f(x)$ отрицательна?



Ответ: _____.

- 8 В сосуде, имеющем форму конуса, уровень жидкости достигает $\frac{1}{3}$ высоты. Объем жидкости равен 4 мл. Сколько миллилитров жидкости нужно долить, чтобы полностью наполнить сосуд?

Ответ: _____.



Не забудьте перенести все ответы в бланк ответов № 1.

Часть 2

9 Найдите значение выражения $(246^2 - 17^2) : 263$.

Ответ: _____.

10 Наблюдатель, находящийся на высоте h м над поверхностью земли, видит линию горизонта на расстоянии l км, которое можно найти по формуле $l = \sqrt{\frac{Rh}{500}}$, где $R = 6400$ км — радиус Земли.

Человек, стоящий на пляже, видит горизонт на расстоянии 4,8 километра. К пляжу ведёт лестница, каждая ступенька которой имеет высоту 20 см. На сколько ступенек ему нужно подняться, чтобы он увидел горизонт на расстоянии 6,4 километра?

Ответ: _____.

11 Если смешать 29-процентный раствор кислоты и 33-процентный раствор этой же кислоты и добавить 10 кг чистой воды, получится 19-процентный раствор кислоты. Если бы вместо 10 кг воды добавили 10 кг 50-процентного раствора той же кислоты, то получили бы 39-процентный раствор кислоты. Сколько килограммов 29-процентного раствора использовали для получения смеси?

Ответ: _____.

12 Найдите точку максимума функции $y = -\frac{x}{x^2 + 121}$.

Ответ: _____.



Не забудьте перенести все ответы в бланк ответов № 1 в соответствии с инструкцией по выполнению работы.

Проверьте, чтобы каждый ответ был записан в строке с номером соответствующего задания.

Для записи решений и ответов на задания 13–19 используйте БЛАНК ОТВЕТОВ № 2. Запишите сначала номер выполняемого задания (13, 14 и т. д.), а затем полное обоснованное решение и ответ. Ответы записывайте чётко и разборчиво.

13 а) Решите уравнение $\sin x + \sqrt{\frac{3}{2}(1 - \cos x)} = 0$.

б) Найдите его корни, принадлежащие отрезку $\left[-\frac{13\pi}{2}; -5\pi\right]$.

14 На ребре AA_1 прямоугольного параллелепипеда $ABCD A_1 B_1 C_1 D_1$ взята точка E так, что $A_1 E : EA = 2 : 1$, на ребре BB_1 — точка F так, что $B_1 F : FB = 1 : 5$, а на ребре $B_1 C_1$ — точка T так, что $B_1 T : TC_1 = 1 : 3$. Известно, что $AB = 5$, $AD = 4$, $AA_1 = 6$.

а) Докажите, что плоскость EFT проходит через вершину D_1 .

б) Найдите угол между плоскостью EFT и плоскостью $BB_1 C_1$.

15) Решите неравенство $\sqrt[3]{27^{2x-3}} > \sqrt[3]{81^{\frac{6-4x}{x+1}}}$.

- 16) Прямая, проходящая через середину M гипотенузы AB прямоугольного треугольника ABC , перпендикулярна CM и пересекает катет AC в точке K . При этом $AK : KC = 1 : 2$.
- а) Докажите, что $\angle BAC = 30^\circ$.
- б) Пусть прямые MK и BC пересекаются в точке P , а прямые AP и BK — в точке Q . Найдите KQ , если $BC = 8\sqrt{3}$.

- 17) 15 января планируется взять кредит в банке на 8 месяцев. Условия его возврата таковы:
- 1-го числа каждого месяца долг возрастает на 4% по сравнению с концом предыдущего месяца;
 - со 2-го по 14-е число каждого месяца необходимо выплатить часть долга;
 - 15-го числа каждого месяца долг должен быть на одну и ту же сумму меньше долга на 15-е число предыдущего месяца.
- Сколько процентов от суммы кредита составляет общая сумма денег, которую нужно выплатить банку за весь срок кредитования?

- 18) Найдите все значения a , при каждом из которых уравнение

$$(6x^2 - 6x + a^2 + 6)^2 = 24a^2(x^2 - x + 1)$$

имеет ровно один корень.

- 19) Конечная возрастающая последовательность a_1, a_2, \dots, a_n состоит из $n \geq 3$ различных натуральных чисел, причём при всех натуральных $k \leq n - 2$ выполнено равенство $4a_{k+2} = 5a_{k+1} - a_k$.
- а) Приведите пример такой последовательности при $n = 5$.
- б) Может ли в такой последовательности при некотором $n \geq 3$ выполняться равенство $3a_n = 4a_2 - a_1$?
- в) Какое наименьшее значение может принимать a_1 , если $a_n = 283$?



Проверьте, чтобы каждый ответ был записан рядом с номером соответствующего задания.

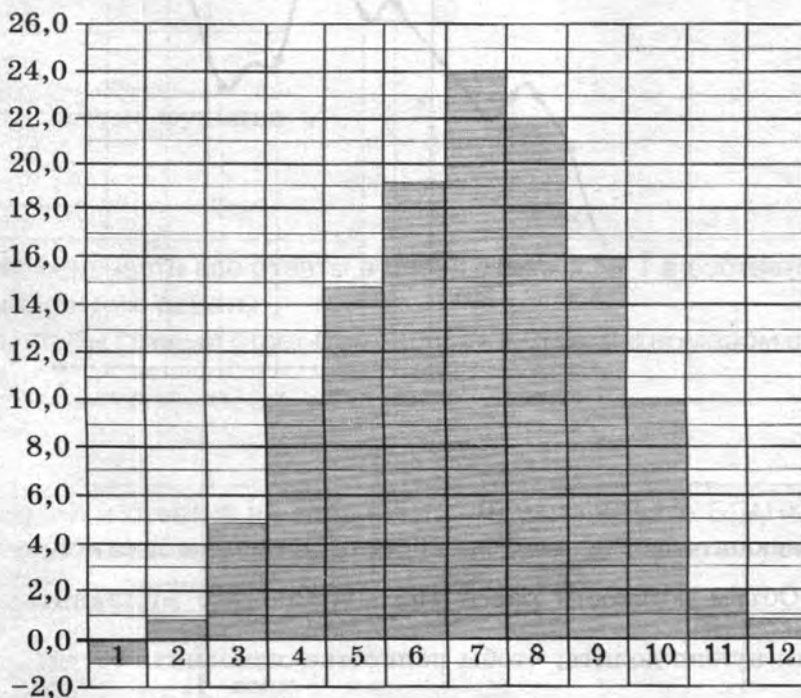
Ответом к заданиям 1–12 является целое число или конечная десятичная дробь. Запишите число в поле ответа в тексте работы, затем перенесите его в БЛАНК ОТВЕТОВ № 1 справа от номера соответствующего задания, начиная с первой клеточки. Каждую цифру, знак «минус» и запятую пишите в отдельной клеточке в соответствии с приведёнными в бланке образцами. Единицы измерений писать не нужно.

Часть 1

- 1** Диагональ экрана телевизора равна 31 дюйму. Выразите эту величину в сантиметрах. Считайте, что 1 дюйм равен 2,54 см. Результат округлите до целого числа сантиметров.

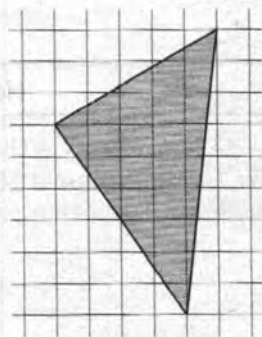
Ответ: _____.

- 2** На диаграмме показана среднемесячная температура воздуха в Симферополе за каждый месяц 1988 года. По горизонтали указываются месяцы, по вертикали — температура в градусах Цельсия. Определите по диаграмме наименьшую среднемесячную температуру с апреля по октябрь 1988 года. Ответ дайте в градусах Цельсия.



Ответ: _____.

- 3** На клетчатой бумаге с размером клетки 1×1 изображён треугольник. Найдите его площадь.



Ответ: _____.

- 4 В случайном эксперименте бросают две игральные кости. Найдите вероятность того, что произведение выпавших очков делится на 5, но не делится на 30.

Ответ: _____.

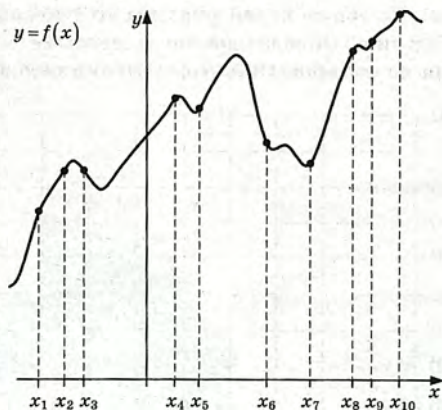
- 5 Найдите корень уравнения $\left(\frac{1}{4}\right)^{13-5x} = 16^{3x}$.

Ответ: _____.

- 6 В треугольнике ABC угол C равен 90° , $AB = 12$, $\operatorname{tg} A = \frac{5}{\sqrt{20}}$. Найдите AC .

Ответ: _____.

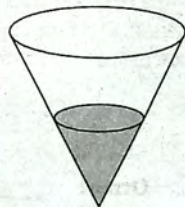
- 7 На рисунке изображены график функции $y = f(x)$ и десять точек на оси абсцисс: $x_1, x_2, x_3, x_4, x_5, x_6, x_7, x_8, x_9, x_{10}$. В скольких из этих точек производная функции $f(x)$ отрицательна?



Ответ: _____.

- 8 В сосуде, имеющем форму конуса, уровень жидкости достигает $\frac{2}{3}$ высоты. Объем жидкости равен 152 мл. Сколько миллилитров жидкости нужно долить, чтобы полностью наполнить сосуд?

Ответ: _____.



Не забудьте перенести все ответы в бланк ответов № 1.

Часть 2

- 9 Найдите значение выражения $(651^2 - 17^2) : 668$.

Ответ: _____.

- 10 Наблюдатель, находящийся на высоте h м над поверхностью земли, видит линию горизонта на расстоянии l км, которое можно найти по формуле $l = \sqrt{\frac{Rh}{500}}$, где $R = 6400$ км — радиус Земли.

Человек, стоящий на пляже, видит горизонт на расстоянии 6,4 километра. К пляжу ведёт лестница, каждая ступенька которой имеет высоту 20 см. На сколько ступенек ему нужно подняться, чтобы он увидел горизонт на расстоянии 11,2 километра?

Ответ: _____.

- 11 Если смешать 40-процентный раствор кислоты и 90-процентный раствор этой же кислоты и добавить 10 кг чистой воды, получится 62-процентный раствор кислоты. Если бы вместо 10 кг воды добавили 10 кг 50-процентного раствора той же кислоты, то получили бы 72-процентный раствор кислоты. Сколько килограммов 40-процентного раствора использовали для получения смеси?

Ответ: _____.

- 12 Найдите точку максимума функции $y = -\frac{x}{x^2 + 625}$.

Ответ: _____.



Не забудьте перенести все ответы в бланк ответов № 1 в соответствии с инструкцией по выполнению работы.

Проверьте, чтобы каждый ответ был записан в строке с номером соответствующего задания.

Для записи решений и ответов на задания 13–19 используйте БЛАНК ОТВЕТОВ № 2. Запишите сначала номер выполняемого задания (13, 14 и т. д.), а затем полное обоснованное решение и ответ. Ответы записывайте чётко и разборчиво.

- 13 а) Решите уравнение $\sin x = \sqrt{\frac{1 - \cos x}{2}}$.

б) Найдите его корни, принадлежащие отрезку $\left[2\pi; \frac{7\pi}{2}\right]$.

- 14 На ребре AA_1 прямоугольного параллелепипеда $ABCD A_1 B_1 C_1 D_1$ взята точка E так, что $A_1 E : EA = 4 : 3$, на ребре BB_1 — точка F так, что $B_1 F : FB = 2 : 5$, а на ребре — точка T — середина ребра $B_1 C_1$. Известно, что $AB = 3$, $AD = 4$, $AA_1 = 7$.

а) Докажите, что плоскость EFT проходит через вершину D_1 .

б) Найдите угол между плоскостью EFT и плоскостью $BB_1 C_1$.

15 Решите неравенство $\sqrt[3]{64^{3x-1}} > \sqrt{\left(\frac{1}{16}\right)^{\frac{1-3x}{x-1}}}$.

- 16 Прямая, проходящая через середину M гипотенузы AB прямоугольного треугольника ABC , перпендикулярна CM и пересекает катет AC в точке K . При этом $AK : KC = 1 : 2$.
- а) Докажите, что $\angle BAC = 30^\circ$.
- б) Пусть прямые MK и BC пересекаются в точке P , а прямые AP и BK — в точке Q . Найдите KQ , если $BC = 6\sqrt{7}$.

- 17 15 января планируется взять кредит в банке на 8 месяцев. Условия его возврата таковы:
- 1-го числа каждого месяца долг возрастает на 3% по сравнению с концом предыдущего месяца;
 - со 2-го по 14-е число каждого месяца необходимо выплатить часть долга;
 - 15-го числа каждого месяца долг должен быть на одну и ту же сумму меньше долга на 15-е число предыдущего месяца.
- Сколько процентов от суммы кредита составляет общая сумма денег, которую нужно выплатить банку за весь срок кредитования?

- 18 Найдите все значения a , при каждом из которых уравнение

$$(3x^2 - 3x + a^2 + 9)^2 = 12a^2(x^2 - x + 3)$$

имеет ровно один корень.

- 19 Конечная возрастающая последовательность a_1, a_2, \dots, a_n состоит из $n \geq 3$ различных натуральных чисел, причём при всех натуральных $k \leq n - 2$ выполнено равенство $6a_{k+2} = 7a_{k+1} - a_k$.
- а) Приведите пример такой последовательности при $n = 5$.
- б) Может ли в такой последовательности при некотором $n \geq 3$ выполняться равенство $5a_n = 6a_2 - a_1$?
- в) Какое наименьшее значение может принимать a_1 , если $a_n = 404$?



Проверьте, чтобы каждый ответ был записан рядом с номером соответствующего задания.

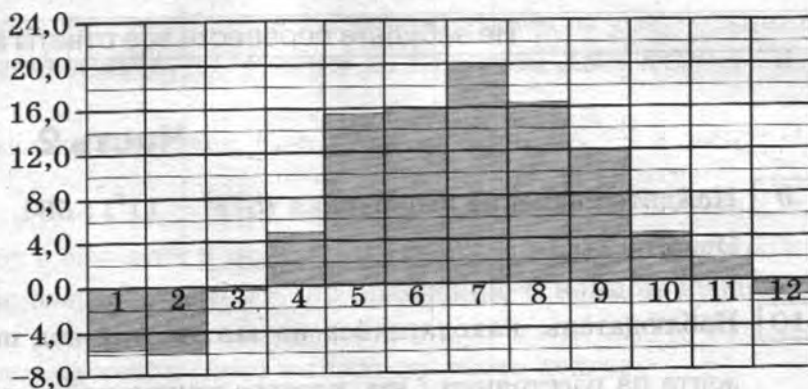
Ответом к заданиям 1–12 является целое число или конечная десятичная дробь. Запишите число в поле ответа в тексте работы, затем перенесите его в БЛАНК ОТВЕТОВ № 1 справа от номера соответствующего задания, начиная с первой клеточки. Каждую цифру, знак «минус» и запятую пишите в отдельной клеточке в соответствии с приведёнными в бланке образцами. Единицы измерений писать не нужно.

Часть 1

- 1 Диагональ экрана телевизора равна 57 дюймам. Выразите эту величину в сантиметрах. Считайте, что 1 дюйм равен 2,54 см. Результат округлите до целого числа сантиметров.

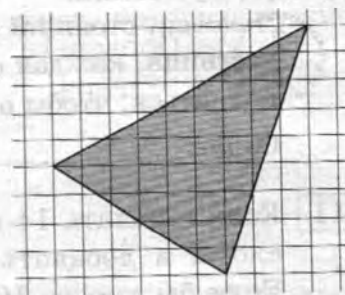
Ответ: _____.

- 2 На диаграмме показана среднемесячная температура воздуха в Минске за каждый месяц 2003 года. По горизонтали указываются месяцы, по вертикали — температура в градусах Цельсия. Определите по диаграмме наименьшую среднемесячную температуру в период с апреля по ноябрь 2003 года. Ответ дайте в градусах Цельсия.



Ответ: _____.

- 3 На клетчатой бумаге с размером клетки 1×1 изображён треугольник. Найдите его площадь.



Ответ: _____.

- 4 В случайном эксперименте бросают две игральные кости. Найдите вероятность того, что сумма выпавших очков равна 7. Результат округлите до тысячных.

Ответ: _____.

- 5 Найдите корень уравнения $\left(\frac{1}{6}\right)^{15-x} = 36^x$.

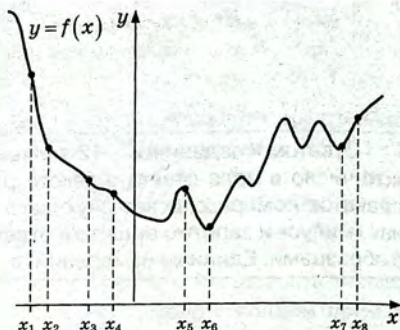
Ответ: _____.

- 6 В треугольнике ABC угол C равен 90° , $AB = 14$, $\operatorname{tg} A = \frac{20}{3\sqrt{10}}$. Найдите AC .

Ответ: _____.

- 7 На рисунке изображены график функции $y = f(x)$ и восемь точек на оси абсцисс: $x_1, x_2, x_3, x_4, x_5, x_6, x_7, x_8$. В скольких из этих точек производная функции $f(x)$ отрицательна?

Ответ: _____.



- 8 В сосуде, имеющем форму конуса, уровень жидкости достигает $\frac{2}{3}$ высоты. Объём жидкости равен 192 мл. Сколько миллилитров жидкости нужно долить, чтобы полностью наполнить сосуд?

Ответ: _____.



Не забудьте перенести все ответы в бланк ответов № 1.

Часть 2

- 9 Найдите значение выражения $(573^2 - 11^2) : 584$.

Ответ: _____.

- 10 Наблюдатель, находящийся на высоте h м над поверхностью земли, видит линию горизонта на расстоянии l км, которое можно найти по формуле $l = \sqrt{\frac{Rh}{500}}$, где $R = 6400$ км — радиус Земли.

Человек, стоящий на пляже, видит горизонт на расстоянии 4,8 километра. К пляжу ведёт лестница, каждая ступенька которой имеет высоту 20 см. На сколько ступенек ему нужно подняться, чтобы он увидел горизонт на расстоянии 9,6 километра?

Ответ: _____.

- 11 Если смешать 14-процентный раствор кислоты и 98-процентный раствор этой же кислоты и добавить 10 кг чистой воды, получится 70-процентный раствор кислоты. Если бы вместо 10 кг воды добавили 10 кг 50-процентного раствора той же кислоты, то получили бы 74-процентный раствор кислоты. Сколько килограммов 14-процентного раствора использовали для получения смеси?

Ответ: _____.

- 12 Найдите точку максимума функции $y = -\frac{x}{x^2 + 289}$.

Ответ: _____.



Не забудьте перенести все ответы в бланк ответов № 1 в соответствии с инструкцией по выполнению работы. Проверьте, чтобы каждый ответ был записан в строке с номером соответствующего задания.

Для записи решений и ответов на задания 13–19 используйте БЛАНК ОТВЕТОВ № 2. Запишите сначала номер выполняемого задания (13, 14 и т. д.), а затем полное обоснованное решение и ответ. Ответы записывайте чётко и разборчиво.

13 а) Решите уравнение $\sin x + \sqrt{\frac{2-\sqrt{3}}{2}} \cdot (\cos x + 1) = 0$.

б) Найдите его корни, принадлежащие отрезку $\left[-4\pi; -\frac{5\pi}{2}\right]$.

14 На ребре AA_1 прямоугольного параллелепипеда $ABCD A_1 B_1 C_1 D_1$ взята точка E так, что $A_1 E : EA = 4 : 1$, на ребре BB_1 — точка F так, что $B_1 F : FB = 3 : 2$, а на ребре $B_1 C_1$ — точка T так, что $B_1 T : TC_1 = 3 : 1$. Известно, что $AB = 3$, $AD = 4$, $AA_1 = 5$.

а) Докажите, что плоскость EFT проходит через вершину D_1 .

б) Найдите угол между плоскостью EFT и плоскостью $BB_1 C_1$.

15 Решите неравенство $\sqrt[4-2x]{625^{\frac{4-2x}{x-1}}} > \sqrt[3]{125^{2x+1}}$.

16 Прямая, проходящая через середину M гипотенузы AB прямоугольного треугольника ABC , перпендикулярна CM и пересекает катет AC в точке K . При этом $AK : KC = 1 : 2$.

а) Докажите, что $\angle BAC = 30^\circ$.

б) Пусть прямые MK и BC пересекаются в точке P , а прямые AP и BK — в точке Q . Найдите KQ , если $BC = 3\sqrt{14}$.

17 15 января планируется взять кредит в банке на 9 месяцев. Условия его возврата таковы:
— 1-го числа каждого месяца долг возрастает на 3% по сравнению с концом предыдущего месяца;
— со 2-го по 14-е число каждого месяца необходимо выплатить часть долга;
— 15-го числа каждого месяца долг должен быть на одну и ту же сумму меньше долга на 15-е число предыдущего месяца.

Сколько процентов от суммы кредита составляет общая сумма денег, которую нужно выплатить банку за весь срок кредитования?

18 Найдите все значения a , при каждом из которых уравнение

$$(2x^2 - 2x + 3a^2 + 2)^2 = 24a^2(x^2 - x + 1)$$

имеет ровно один корень.

19 Конечная возрастающая последовательность a_1, a_2, \dots, a_n состоит из $n \geq 3$ различных натуральных чисел, причём при всех натуральных $k \leq n - 2$ выполнено равенство $7a_{k+2} = 8a_{k+1} - a_k$.

а) Приведите пример такой последовательности при $n = 5$.

б) Может ли в такой последовательности при некотором $n \geq 3$ выполняться равенство $6a_n = 7a_2 - a_1$?

в) Какое наименьшее значение может принимать a_1 , если $a_n = 190$?



Проверьте, чтобы каждый ответ был записан рядом с номером соответствующего задания.

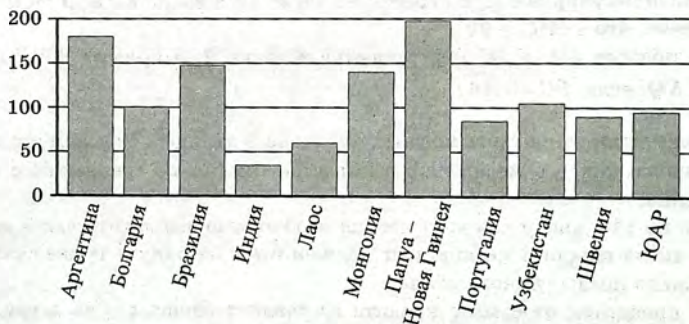
Ответом к заданиям 1–12 является целое число или конечная десятичная дробь. Запишите число в поле ответа в тексте работы, затем перенесите его в БЛАНК ОТВЕТОВ № 1 справа от номера соответствующего задания, начиная с первой клеточки. Каждую цифру, знак «минус» и запятую пишите в отдельной клеточке в соответствии с приведёнными в бланке образцами. Единицы измерений писать не нужно.

Часть 1

- 1 Футболка стоит 160 рублей. Какое наибольшее число футболок можно купить на 600 рублей во время распродажи, когда скидка составляет 20%?


Ответ: _____.

- 2 На диаграмме показано распределение выплавки меди в 11 странах мира (в тысячах тонн) за 2006 год. Среди представленных стран первое место по выплавке меди занимала Папуа — Новая Гвинея, одиннадцатое место — Индия. Какое место занимал Узбекистан?



Ответ: _____.

- 3 На клетчатой бумаге с размером клетки 1×1 изображён треугольник. Найдите его площадь.



Ответ: _____.

- 4 Ковбой Джон попадает в муху на стене с вероятностью 0,9, если стреляет из пристрелянного револьвера. Если Джон стреляет из непристрелянного револьвера, то он попадает в муху с вероятностью 0,3. На столе лежит 10 револьверов, из них только 2 пристрелянные. Ковбой Джон видит на стене муху, наудачу хватается первый попавшийся револьвер и стреляет в муху. Найдите вероятность того, что Джон промахнётся.

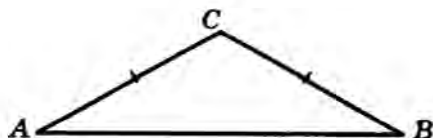
Ответ: _____.

- 5 Найдите корень уравнения $4^{3+5x} = 0,8 \cdot 5^{3+5x}$.

Ответ: _____.

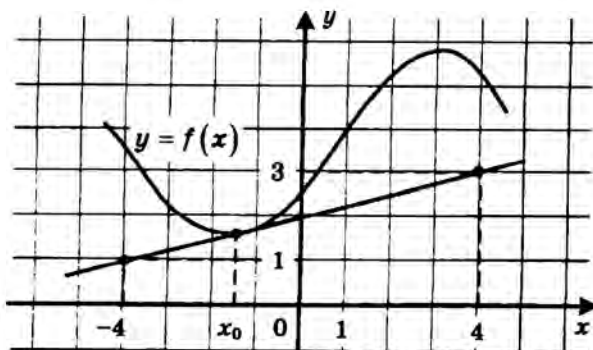
- 6 В треугольнике ABC угол A равен 29° , $AC = BC$.
Найдите угол C .

Ответ: _____.



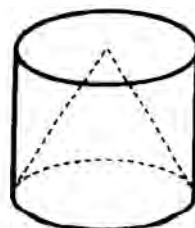
- 7 На рисунке изображены график функции $y = f(x)$ и касательная к нему в точке с абсциссой x_0 . Найдите значение производной функции $f(x)$ в точке x_0 .

Ответ: _____.



- 8 Объем цилиндра равен 12. Чему равен объём конуса, который имеет такое же основание и такую же высоту, как и данный цилиндр?

Ответ: _____.



Не забудьте перенести все ответы в бланк ответов № 1.

Часть 2

- 9 Найдите значение выражения $\log_8 144 - \log_8 4$.

Ответ: _____.

- 10 Зависимость объёма спроса q (тыс. руб.) на продукцию предприятия-монополиста от цены p (тыс. руб.) задаётся формулой $q = 160 - 10p$. Выручка предприятия за месяц r (в тысячах рублей) вычисляется по формуле $r(p) = q \cdot p$. Определите наименьшую цену p , при которой месячная выручка $r(p)$ составит 280 тыс. руб. Ответ приведите в тысячах рублей.

Ответ: _____.

- 11 Численность волков в двух заповедниках в 2009 году составляла 220 особей. Через год обнаружили, что в первом заповеднике численность волков возросла на 10%, а во втором — на 20%. В результате общая численность волков в двух заповедниках составила 250 особей. Сколько волков было в первом заповеднике в 2009 году?

Ответ: _____.

- 12 Найдите точку минимума функции $y = (x + 17)^2 e^{30-x}$.

Ответ: _____.



Не забудьте перенести все ответы в бланк ответов № 1 в соответствии с инструкцией по выполнению работы.

Проверьте, чтобы каждый ответ был записан в строке с номером соответствующего задания.

Для записи решений и ответов на задания 13–19 используйте БЛАНК ОТВЕТОВ № 2. Запишите сначала номер выполняемого задания (13, 14 и т. д.), а затем полное обоснованное решение и ответ. Ответы записывайте чётко и разборчиво.

- 13 а) Решите уравнение $5^{x^2-4x+1} + 5^{x^2-4x} = 30$.
б) Найдите все корни этого уравнения, принадлежащие отрезку $[-1; 3]$.
- 14 Основанием прямой треугольной призмы $ABCA_1B_1C_1$ является равнобедренный треугольник ABC , в котором $AB = BC = 20$, $AC = 32$. Боковое ребро призмы равно 24. Точка P принадлежит ребру BB_1 , причём $BP : PB_1 = 1 : 3$.
а) Пусть M — середина A_1C_1 . Докажите, что прямые MP и AC перпендикулярны.
б) Найдите тангенс угла между плоскостями $A_1B_1C_1$ и ACP .
- 15 Решите неравенство $\frac{x^2 - 2x - 1}{x - 2} + \frac{2}{x - 3} \leq x$.
- 16 На катетах AC и BC прямоугольного треугольника ABC вне треугольника построены квадраты $ACDE$ и $BFKC$. Точка M — середина гипотенузы AB , H — точка пересечения прямых CM и DK .
а) Докажите, что прямые CM и DK перпендикулярны.
б) Найдите MH , если известно, что катеты треугольника ABC равны 60 и 80.
- 17 У фермера есть два поля, каждое площадью 10 гектаров. На каждом поле можно выращивать картофель и свёклу, поля можно делить между этими культурами в любой пропорции. Урожайность картофеля на первом поле составляет 400 ц/га, а на втором — 300 ц/га. Урожайность свёклы на первом поле составляет 300 ц/га, а на втором — 400 ц/га. Фермер может продавать картофель по цене 5000 руб. за центнер, а свёклу — по цене 6000 руб. за центнер. Какой наибольший доход может получить фермер?
- 18 Найдите все значения k , при каждом из которых уравнение $\frac{1 + (2 - 2k) \sin t}{\cos t - \sin t} = 2k$ имеет хотя бы одно решение на интервале $\left(0; \frac{\pi}{2}\right)$.
- 19 Дана бесконечная арифметическая прогрессия, первый член которой равен 2014, а разность равна 13. Каждый член прогрессии заменили суммой его цифр. С полученной последовательностью поступили так же и действовали так до тех пор, пока не получилась последовательность однозначных чисел.
а) Найдите тысячное число получившейся последовательности.
б) Найдите сумму первой тысячи чисел получившейся последовательности.
в) Чему может равняться наибольшая сумма 1010 чисел получившейся последовательности, идущих подряд?



Проверьте, чтобы каждый ответ был записан рядом с номером соответствующего задания.

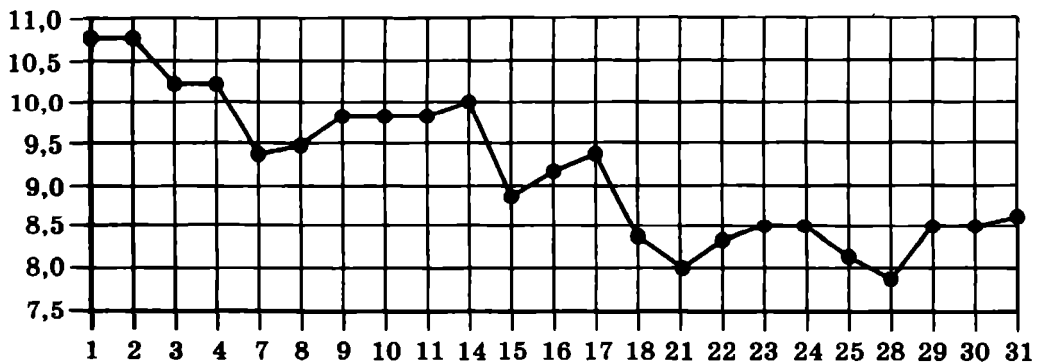
Ответом к заданиям 1–12 является целое число или конечная десятичная дробь. Запишите число в поле ответа в тексте работы, затем перенесите его в БЛАНК ОТВЕТОВ № 1 справа от номера соответствующего задания, начиная с первой клеточки. Каждую цифру, знак «минус» и запятую пишите в отдельной клеточке в соответствии с приведёнными в бланке образцами. Единицы измерений писать не нужно.

Часть 1

- 1** Павел Иванович купил американский автомобиль, спидометр которого показывает скорость в милях в час. Американская миля равна 1609 м. Какова скорость автомобиля в километрах в час, если спидометр показывает 39 миль в час? Ответ округлите до целого числа.


Ответ: _____.

- 2** На рисунке жирными точками показана цена серебра, установленная Центробанком РФ во все рабочие дни в октябре 2008 года. По горизонтали указываются числа месяца, по вертикали — цена серебра в рублях за грамм. Для наглядности жирные точки на рисунке соединены линией. Определите по рисунку, какого числа цена серебра была наименьшей за указанный период.



Ответ: _____.

- 3** На клетчатой бумаге с размером клетки 1×1 отмечены точки A и B . Найдите длину отрезка AB .



Ответ: _____.

- 4 В некотором городе из 2000 появившихся на свет младенцев 990 девочек. Найдите частоту рождения мальчиков в этом городе.

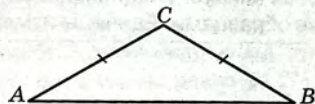
Ответ: _____.

- 5 Найдите корень уравнения $\sqrt{14+5x} = 7$.

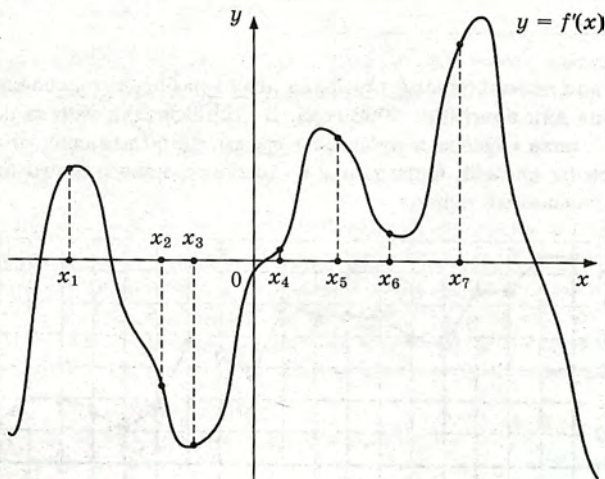
Ответ: _____.

- 6 В треугольнике ABC $AC = BC$, угол C равен 120° , $AB = \sqrt{3}$. Найдите AC .

Ответ: _____.



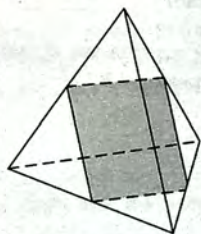
- 7 На рисунке изображены график функции $y = f'(x)$ — производной функции $f(x)$, и семь точек на оси абсцисс: $x_1, x_2, x_3, \dots, x_7$. В скольких из этих точек функция $f(x)$ возрастает?



Ответ: _____.

- 8 Рёбра правильного тетраэдра равны 14. Найдите площадь сечения, проходящего через середины четырёх его рёбер.

Ответ: _____.



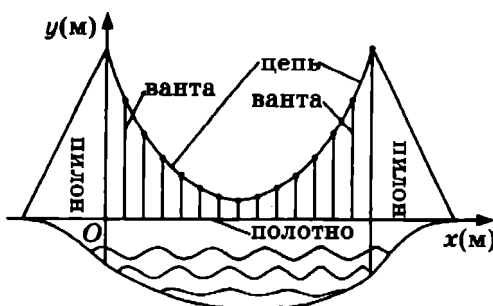
Не забудьте перенести все ответы в бланк ответов № 1.

Часть 2

- 9 Найдите $\sin \alpha$, если $\cos \alpha = \frac{\sqrt{7}}{4}$ и $\alpha \in (\pi; 2\pi)$.

Ответ: _____.

- 10 На рисунке изображена схема вантового моста. Вертикальные пилоны связаны провисающей цепью. Тросы, которые свисают с цепи и поддерживают полотно моста, называются вантами. Введём систему координат: ось Oy направим вертикально вдоль одного из пилонов, а ось Ox направим вдоль полотна моста, как показано на рисунке. В этой системе координат линия, по которой провисает цепь моста, имеет уравнение $y = 0,0013x^2 - 0,35x + 27$, где x и y измеряются в метрах. Найдите длину ванта, расположенной в 30 метрах от пилона. Ответ дайте в метрах.



Ответ: _____.

- 11 Моторная лодка прошла против течения 24 км и вернулась обратно, затратив на обратный путь на 20 мин меньше, чем при движении против течения. Найдите скорость (в км/ч) лодки в неподвижной воде, если скорость течения равна 3 км/ч.

Ответ: _____.

- 12 Найдите наибольшее значение функции $f(x) = -x^3 + 3x^2 + 9x - 29$ на отрезке $[-1; 4]$.

Ответ: _____.



Не забудьте перенести все ответы в бланк ответов № 1 в соответствии с инструкцией по выполнению работы.

Проверьте, чтобы каждый ответ был записан в строке с номером соответствующего задания.

Для записи решений и ответов на задания 13–19 используйте БЛАНК ОТВЕТОВ № 2. Запишите сначала номер выполняемого задания (13, 14 и т. д.), а затем полное обоснованное решение и ответ. Ответы записывайте чётко и разборчиво.

- 13 а) Решите уравнение $3 \sin^2 x + 5 \sin x + 2 = 0$.

б) Найдите все корни этого уравнения, принадлежащие отрезку $\left[\frac{\pi}{2}; 2\pi\right]$.

- 14** В правильной шестиугольной пирамиде $SABCDEF$ с вершиной S боковое ребро вдвое больше сторон основания.
- а) Докажите, что плоскость, проходящая через середины рёбер SA и SE и вершину C , делит ребро SB в отношении $1 : 3$, считая от вершины B .
- б) Найдите отношение, в котором плоскость, проходящая через середины рёбер SA и SE и вершину C , делит ребро SF , считая от вершины S .
- 15** Решите неравенство $4^x - 3 \cdot 2^{x+2} + 32 \geq 0$.
- 16** На сторонах AC и BC треугольника ABC вне треугольника построены квадраты $ACDE$ и $BFKC$. Точка M — середина стороны AB .
- а) Докажите, что $CM = \frac{1}{2} DK$.
- б) Найдите расстояния от точки M до центров квадратов, если $AC = 10$, $BC = 32$ и $\angle ACB = 30^\circ$.
- 17** 15 января планируется взять кредит в банке на 24 месяца. Условия его возврата таковы:
- 1-го числа каждого месяца долг возрастает на 2% по сравнению с концом предыдущего месяца;
 - со 2-го по 14-е число каждого месяца необходимо выплатить часть долга;
 - 15-го числа каждого месяца долг должен быть на одну и ту же величину меньше долга на 15-е число предыдущего месяца.
- Известно, что в течение первого года кредитования нужно вернуть банку 2466 тыс. рублей. Какую сумму нужно выплатить банку за последние 12 месяцев?
- 18** Найдите все неотрицательные значения a , при каждом из которых множество решений неравенства

$$1 \leq \frac{2a + x^2 - 4 \log_{1/3}(4a^2 - 4a + 9)}{5\sqrt{18x^4 + 7x^2 + 2a + 4} + \log_{1/3}^2(4a^2 - 4a + 9)}$$

состоит из одной точки, и найдите это решение.

- 19** В роте два взвода. В первом взводе солдат меньше, чем во втором, но больше, чем 50, а вместе солдат меньше, чем 120. Командир знает, что роту можно построить по несколько человек в ряд так, что в каждом ряду будет одинаковое число солдат, большее 7, и при этом ни в каком ряду не будет солдат из двух разных взводов.
- а) Сколько солдат в первом взводе и сколько во втором? Приведите хотя бы один пример.
- б) Можно ли построить роту указанным способом по 11 солдат в одном ряду?
- в) Сколько в роте может быть солдат?



Проверьте, чтобы каждый ответ был записан рядом с номером соответствующего задания.

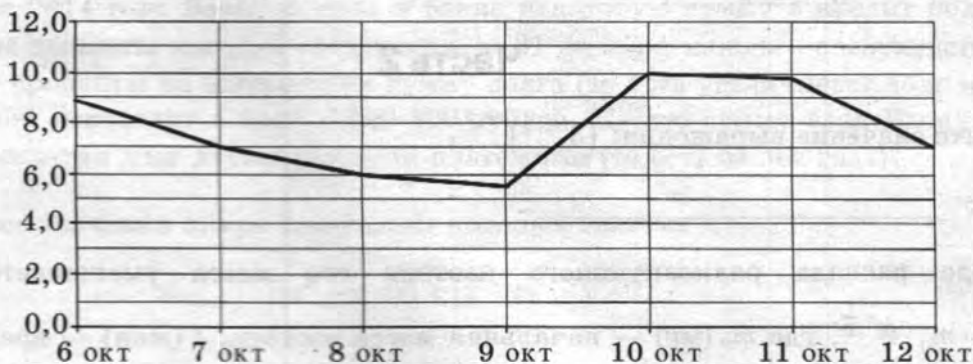
Ответом к заданиям 1–12 является целое число или конечная десятичная дробь. Запишите число в поле ответа в тексте работы, затем перенесите его в БЛАНК ОТВЕТОВ № 1 справа от номера соответствующего задания, начиная с первой клеточки. Каждую цифру, знак «минус» и запятую пишите в отдельной клеточке в соответствии с приведёнными в бланке образцами. Единицы измерений писать не нужно.

Часть 1

- 1 Сырок стоит 25 руб. 40 коп. Какое наибольшее число сырков можно купить на 200 рублей?

Ответ: _____.

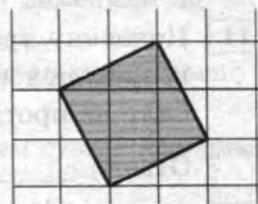
- 2 На рисунке изображён график среднесуточной температуры в г. Саратове в период с 6 по 12 октября 1969 г. На оси абсцисс откладываются числа, на оси ординат — температура в градусах Цельсия.



Определите, сколько дней из указанного периода средняя температура была в пределах от 6,5 °C до 9 °C.

Ответ: _____.

- 3 На клетчатой бумаге с размером клетки 1 × 1 изображён квадрат. Найдите его площадь.



Ответ: _____.

- 4 В случайном эксперименте бросают две игральные кости (кубика). Найдите вероятность того, что в сумме выпадет 7 очков. Результат округлите до сотых.

Ответ: _____.

- 5 Найдите корень уравнения $\sqrt[3]{x-3} = 2$.

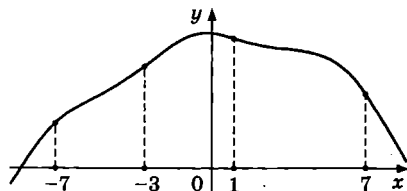
Ответ: _____.

- 6 Диагонали трапеции $ABCD$ с основаниями AB и CD пересекаются в точке M . Найдите MC , если $AB = 11$, $DC = 33$, $AC = 28$.

Ответ: _____.

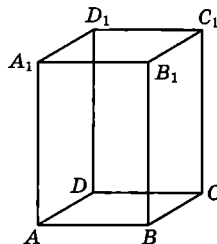
- 7 На рисунке изображён график функции $y = f(x)$ и отмечены точки -7 , -3 , 1 , 7 . В какой из этих точек значение производной наименьшее? В ответе укажите эту точку.

Ответ: _____.



- 8 Диагональ правильной четырёхугольной призмы наклонена к плоскости основания под углом 30° . Боковое ребро равно 3. Найдите диагональ призмы.

Ответ: _____.



Не забудьте перенести все ответы в бланк ответов № 1.

Часть 2

- 9 Найдите значение выражения: $(3^{\log_7 5})^{\log_3 7}$.

Ответ: _____.

- 10 В ходе распада радиоактивного изотопа его масса уменьшается по закону $m(t) = m_0 \cdot 2^{-\frac{t}{T}}$, где m_0 (мг) — начальная масса изотопа; t (мин) — время, прошедшее от начального момента; T (мин) — период полураспада. В начальный момент времени масса изотопа $m_0 = 200$ мг. Период его полураспада $T = 4$ мин. Через сколько минут масса изотопа будет равна 25 мг?

Ответ: _____.

- 11 Половину времени, затраченного на дорогу, автомобиль ехал со скоростью 60 км/ч, а вторую половину времени — со скоростью 46 км/ч. Найдите среднюю скорость автомобиля на протяжении всего пути. Ответ дайте в км/ч.

Ответ: _____.

- 12 Найдите наибольшее значение функции $y = x^6 + 20x^3 - 65x$ на отрезке $[-4; 0]$.

Ответ: _____.



Не забудьте перенести все ответы в бланк ответов № 1 в соответствии с инструкцией по выполнению работы. Проверьте, чтобы каждый ответ был записан в строке с номером соответствующего задания.

Для записи решений и ответов на задания 13–19 используйте БЛАНК ОТВЕТОВ № 2. Запишите сначала номер выполняемого задания (13, 14 и т. д.), а затем полное обоснованное решение и ответ. Ответы записывайте чётко и разборчиво.

- 13 а) Решите уравнение $6^{x^2-4x} + 6^{x^2-4x-1} = 42$.
б) Найдите все корни этого уравнения, принадлежащие отрезку $[-2; 4]$.
- 14 В правильной треугольной пирамиде $SABC$ с вершиной S , все рёбра которой равны 6, точка M — середина ребра BC , точка O — центр основания пирамиды, точка F делит отрезок SO в отношении $1:2$, считая от вершины пирамиды.
а) Найдите отношение, в котором плоскость CMF делит отрезок SA , считая от вершины S .
б) Найдите угол между плоскостью MCF и плоскостью ABC .
- 15 Решите неравенство $\log_x(x-2) \cdot \log_x(x+2) \leq 0$.
- 16 Окружность, построенная на стороне AD параллелограмма $ABCD$ как на диаметре, проходит через точку пересечения диагоналей параллелограмма.
а) Докажите, что $ABCD$ — ромб.
б) Эта окружность пересекает сторону AB в точке M , причём $AM:MB = 1:2$. Найдите диагональ AC , если известно, что $AD = 2\sqrt{3}$.
- 17 31 декабря 2014 года Василий взял в банке некоторую сумму в кредит под 11% годовых. Схема выплаты кредита следующая — 31 декабря каждого следующего года банк начисляет проценты на оставшуюся сумму долга (то есть увеличивает долг на 11%), затем Василий переводит в банк 3 696 300 рублей. Какую сумму взял Василий в банке, если он выплатил долг двумя равными платежами (то есть за два года)?
- 18 Найдите все значения a , при каждом из которых система

$$\begin{cases} |x^2 - x - 6| = (y - 1)^2 + x - 7, \\ 3y = 2x + a \end{cases}$$

имеет ровно один или два корня.

- 19 На доске написали несколько не обязательно различных двузначных натуральных чисел без нулей в десятичной записи. Сумма этих чисел оказалась равной 363. Затем в каждом числе поменяли местами первую и вторую цифры (например, число 17 заменили на число 71).
а) Приведите пример исходных чисел, для которых сумма получившихся чисел ровно в 4 раза больше, чем сумма исходных чисел.
б) Могла ли сумма получившихся чисел быть ровно в 2 раза больше, чем сумма исходных чисел?
в) Найдите наибольшее возможное значение суммы получившихся чисел.



Проверьте, чтобы каждый ответ был записан рядом с номером соответствующего задания.

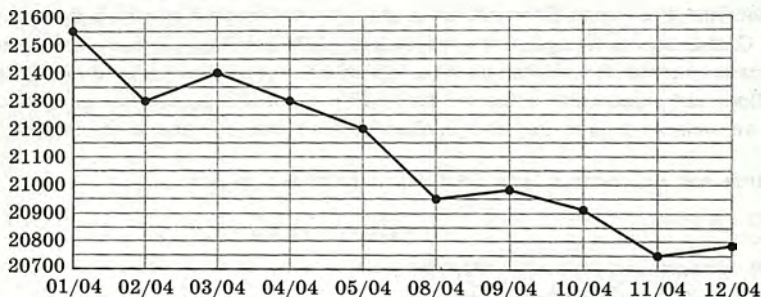
Ответом к заданиям 1–12 является целое число или конечная десятичная дробь. Запишите число в поле ответа в тексте работы, затем перенесите его в БЛАНК ОТВЕТОВ № 1 справа от номера соответствующего задания, начиная с первой клеточки. Каждую цифру, знак «минус» и запятую пишите в отдельной клеточке в соответствии с приведёнными в бланке образцами. Единицы измерений писать не нужно.

Часть 1

- 1 Каждый день во время конференции расходуется 120 пакетиков чая. Конференция длится 3 дня. Чай продаётся в пачках по 50 пакетиков. Какое наименьшее количество пачек нужно купить на все дни конференции?

Ответ: _____.

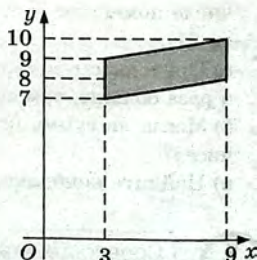
- 2 На рисунке жирными точками показана цена олова на момент закрытия биржевых торгов во все рабочие дни с 1 по 12 апреля 2019 года. По горизонтали указаны числа месяца, по вертикали — цена олова в долларах США за тонну. Для наглядности жирные точки на рисунке соединены линиями.



Определите по рисунку наименьшую цену олова на момент закрытия торгов за данный период. Ответ дайте в долларах США за тонну.

Ответ: _____.

- 3 Найдите площадь параллелограмма, вершины которого имеют координаты (3; 7), (9; 8), (9; 10), (3; 9).



Ответ: _____.

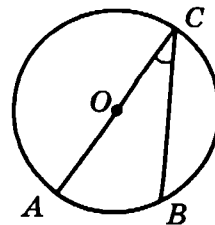
- 4 Марина и Дина бросают кубик по одному разу. Выигрывает та девочка, у которой выпадет больше очков. Первой кубик бросила Марина, у неё выпало 3 очка. Найдите вероятность того, что Дина выиграет.

Ответ: _____.

5 Найдите корень уравнения $5^{4-x} = 25$.

Ответ: _____.

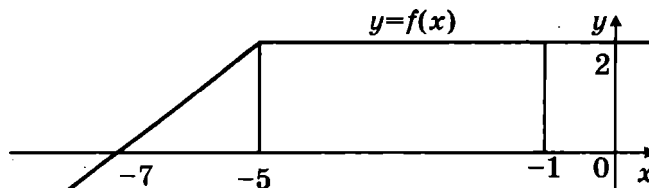
6 Найдите вписанный угол, опирающийся на дугу, которая составляет $1/5$ окружности. Ответ дайте в градусах.



Ответ: _____.

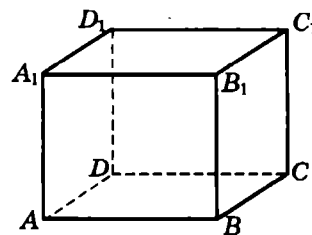
7 На рисунке изображён график некоторой функции $y = f(x)$. Пользуясь рисунком,

найдите интеграл $\int_{-7}^{-1} f(x) dx$.



Ответ: _____.

8 В прямоугольном параллелепипеде $ABCD A_1 B_1 C_1 D_1$ известны длины рёбер: $AB = 3$, $AD = 4$, $AA_1 = 32$. Найдите площадь сечения, проходящего через вершины C , C_1 и A .



Ответ: _____.

Не забудьте перенести все ответы в бланк ответов № 1.

Часть 2

9 Найдите значение выражения $\log_6 126 - \log_6 3,5$.

Ответ: _____.

10 Зависимость температуры (в кельвинах) от времени (в минутах) для нагревательного элемента некоторого прибора была получена экспериментально и на исследуемом интервале температур задаётся выражением $T(t) = T_0 + at + bt^2$, где $T_0 = 900$ К, $a = 31$ К/мин, $b = -0,2$ К/мин². Известно, что при температурах нагревателя свыше 1550 К прибор может испортиться, поэтому его нужно отключать. Определите (в минутах), через какое наибольшее время после начала работы нужно отключать прибор.

Ответ: _____.

11 Первый сплав содержит 5% меди, второй — 11% меди. Масса второго сплава больше массы первого на 4 кг. Из этих двух сплавов получили третий сплав, содержащий 10% меди. Найдите массу третьего сплава. Ответ дайте в килограммах.

Ответ: _____.

12 Найдите наименьшее значение функции $y = 11 \operatorname{tg} x - 11x + 16$ на отрезке $\left[0; \frac{\pi}{4}\right]$.

Ответ: _____.



Не забудьте перенести все ответы в бланк ответов № 1 в соответствии с инструкцией по выполнению работы. Проверьте, чтобы каждый ответ был записан в строке с номером соответствующего задания.

Для записи решений и ответов на задания 13–19 используйте БЛАНК ОТВЕТОВ № 2. Запишите сначала номер выполняемого задания (13, 14 и т. д.), а затем полное обоснованное решение и ответ. Ответы записывайте чётко и разборчиво.

13 а) Решите уравнение $6 \sin^2 x - 5 \sin x - 4 = 0$.

б) Найдите все корни этого уравнения, принадлежащие отрезку $\left[-\frac{7\pi}{2}; -\frac{3\pi}{2}\right]$.

14 В правильной четырёхугольной пирамиде $SABCD$ с вершиной S сторона основания равна 8. Точка L — середина ребра SC . Тангенс угла между прямыми BL и SA равен $2\sqrt{\frac{2}{5}}$.

а) Пусть O — центр основания пирамиды. Докажите, что прямые BO и LO перпендикулярны.

б) Найдите площадь поверхности пирамиды.

15 Решите неравенство $4^{x+1} - 17 \cdot 2^x + 4 \leq 0$.

16 На отрезке BD взята точка C . Биссектриса BL равнобедренного треугольника ABC с основанием BC является боковой стороной равнобедренного треугольника BLD с основанием BD .

а) Докажите, что треугольник DCL равнобедренный.

б) Известно, что $\cos \angle ABC = \frac{3}{4}$. В каком отношении прямая DL делит сторону AB ?

17 15 января планируется взять кредит в банке на 9 месяцев. Условия его возврата таковы:

- 1-го числа каждого месяца долг возрастает на $r\%$ по сравнению с концом предыдущего месяца;
- со 2-го по 14-е число каждого месяца необходимо выплатить часть долга;
- 15-го числа каждого месяца долг должен быть на одну и ту же величину меньше долга на 15-е число предыдущего месяца.

Известно, что общая сумма денег, которую нужно выплатить банку за весь срок кредитования, на 15% больше, чем сумма, взятая в кредит. Найдите r .

18 Найдите все значения a , при каждом из которых модуль разности корней уравнения $x^2 - 6x + 12 + a^2 - 4a = 0$ принимает наибольшее значение.

19 На доске было написано 20 натуральных чисел (необязательно различных), каждое из которых не превосходит 40. Вместо некоторых из чисел (возможно, одного) на доске написали числа, меньшие первоначальных на единицу. Числа, которые после этого оказались равными 0, с доски стёрли.

а) Могло ли оказаться так, что среднее арифметическое чисел на доске увеличилось?

б) Среднее арифметическое первоначально написанных чисел равнялось 27. Могло ли среднее арифметическое оставшихся на доске чисел оказаться равным 34?

в) Среднее арифметическое первоначально написанных чисел равнялось 27. Найдите наибольшее возможное значение среднего арифметического чисел, которые остались на доске.



Проверьте, чтобы каждый ответ был записан рядом с номером соответствующего задания.

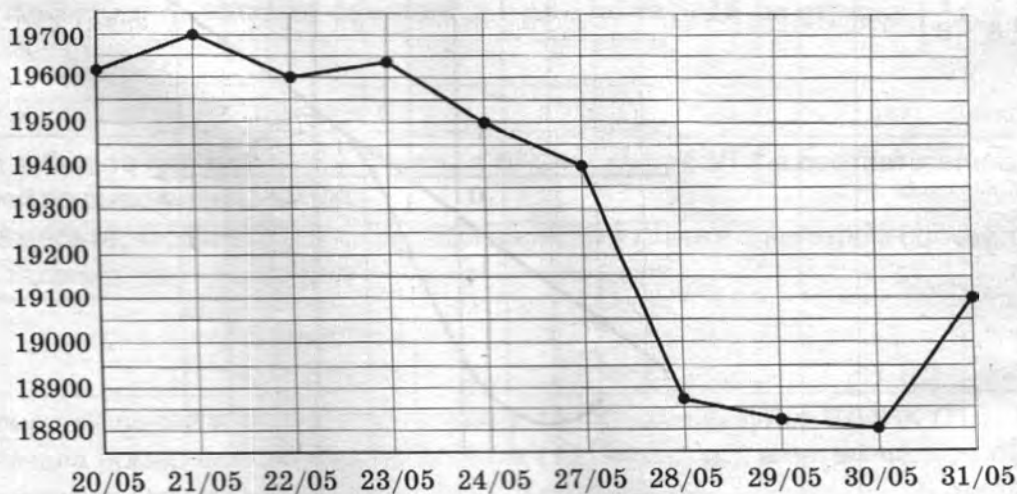
Ответом к заданиям 1–12 является целое число или конечная десятичная дробь. Запишите число в поле ответа в тексте работы, затем перенесите его в БЛАНК ОТВЕТОВ № 1 справа от номера соответствующего задания, начиная с первой клеточки. Каждую цифру, знак «минус» и запятую пишите в отдельной клеточке в соответствии с приведёнными в бланке образцами. Единицы измерений писать не нужно.

Часть 1

- 1 Тетрадь стоит 40 рублей. Какое наибольшее число таких тетрадей можно будет купить на 470 рублей после понижения цены на 25%?

Ответ: _____.

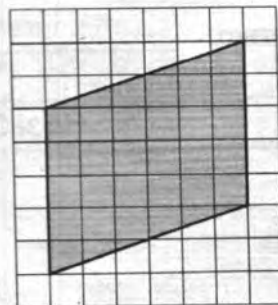
- 2 На рисунке жирными точками показана цена олова на момент закрытия биржевых торгов во все рабочие дни с 20 по 31 мая 2019 года. По горизонтали указаны числа месяца, по вертикали — цена олова в долларах США за тонну. Для наглядности жирные точки на рисунке соединены линиями.



Определите по рисунку разность между наибольшей и наименьшей ценой олова на момент закрытия торгов в период с 27 по 31 мая. Ответ дайте в долларах США за тонну.

Ответ: _____.

- 3 На клетчатой бумаге с размером клетки 1×1 изображён параллелограмм. Найдите его площадь.



Ответ: _____.

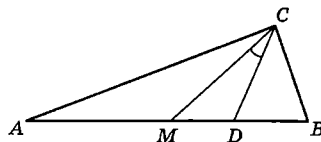
- 4 В группе туристов 8 человек. С помощью жребия они выбирают двух человек, которые должны идти в село в магазин за продуктами. Какова вероятность того, что турист А., входящий в состав группы, пойдёт в магазин?

Ответ: _____.

- 5 Найдите корень уравнения $\left(\frac{1}{9}\right)^{x+6} = 81^x$.

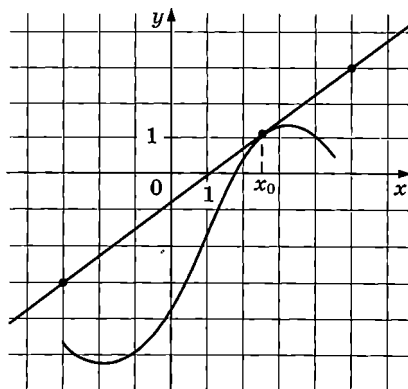
Ответ: _____.

- 6 Острые углы прямоугольного треугольника равны 87° и 3° . Найдите угол между биссектрисой и медианой, проведёнными из вершины прямого угла. Ответ дайте в градусах.



Ответ: _____.

- 7 На рисунке изображены график функции $y = f(x)$ и касательная к нему в точке с абсциссой x_0 . Найдите значение производной функции $f(x)$ в точке x_0 .



Ответ: _____.

- 8 Около конуса описана сфера (сфера содержит окружность основания конуса и его вершину). Центр сферы находится в центре основания конуса. Образующая конуса равна $6\sqrt{2}$. Найдите радиус сферы.

Ответ: _____.

Не забудьте перенести все ответы в бланк ответов № 1.

Часть 2

- 9 Найдите значение выражения $2 \operatorname{tg} 15^\circ \cdot \operatorname{tg} 105^\circ$.

Ответ: _____.

- 10 К источнику с ЭДС $\mathcal{E} = 65 \text{ В}$ и внутренним сопротивлением $r = 0,5 \text{ Ом}$ хотят подключить нагрузку с сопротивлением $R \text{ Ом}$. Напряжение на этой нагрузке, выражаемое в вольтах, даётся формулой $U = \frac{\mathcal{E}R}{R+r}$. При каком сопротивлении нагрузки напряжение на ней будет 60 В ? Ответ дайте в омах.

Ответ: _____.

- 11 Из точки А в точку В одновременно выехали два автомобиля. Первый проехал с постоянной скоростью весь путь. Второй проехал первую половину пути со скоростью, меньшей скорости первого на 14 км/ч , а вторую половину пути — со скоростью 105 км/ч , в результате чего прибыл в В одновременно с первым автомобилем. Найдите скорость первого автомобиля, если известно, что она больше 50 км/ч . Ответ дайте в км/ч.

Ответ: _____.

- 12 Найдите наименьшее значение функции $y = 4x - \ln(4x) + 16$ на отрезке $\left[\frac{1}{8}; \frac{5}{8}\right]$.

Ответ: _____.



Не забудьте перенести все ответы в бланк ответов № 1 в соответствии с инструкцией по выполнению работы.

Проверьте, чтобы каждый ответ был записан в строке с номером соответствующего задания.

Для записи решений и ответов на задания 13–19 используйте БЛАНК ОТВЕТОВ № 2. Запишите сначала номер выполняемого задания (13, 14 и т. д.), а затем полное обоснованное решение и ответ. Ответы записывайте чётко и разборчиво.

- 13 а) Решите уравнение $2 \cdot 9^{x^2-4x-1} + 42 \cdot 6^{x^2-4x} - 15 \cdot 4^{x^2-4x+1} = 0$.

б) Найдите все корни этого уравнения, принадлежащие отрезку $[-1; 3]$.

- 14 Ребро SA пирамиды $SABC$ перпендикулярно плоскости основания ABC .

а) Докажите, что плоскость, проходящая через середины рёбер AB , AC и SA , отсекает от пирамиды $SABC$ пирамиду, объём которой в 8 раз меньше объёма пирамиды $SABC$.

б) Найдите расстояние от вершины A до этой плоскости, если $SA = 2\sqrt{5}$, $AB = AC = 10$, $BC = 4\sqrt{5}$.

- 15 Решите неравенство $\log_{\frac{25-x^2}{16}} \frac{24+2x-x^2}{14} > 1$.

- 16 Точки B_1 и C_1 лежат на сторонах соответственно AC и AB треугольника ABC , причём $AB_1 : B_1C = AC_1 : C_1B$. Прямые BB_1 и CC_1 пересекаются в точке O .

а) Докажите, что прямая AO делит пополам сторону BC .

б) Найдите отношение площади четырёхугольника AB_1OC_1 к площади треугольника ABC , если известно, что $AB_1 : B_1C = AC_1 : C_1B = 1 : 3$.

- 17 В двух областях есть по 100 рабочих, каждый из которых готов трудиться по 10 часов в сутки на добыче алюминия или никеля. В первой области один рабочий за час добывает 0,3 кг алюминия или 0,1 кг никеля. Во второй области для добычи x кг алюминия в день требуется x^2 человеко-часов труда, а для добычи y кг никеля в день требуется y^2 человеко-часов труда.

Обе области поставляют добытый металл на завод, где для нужд промышленности производится сплав алюминия и никеля, в котором на 2 кг алюминия приходится 1 кг никеля. При этом области договариваются между собой вести добычу металлов так, чтобы завод мог произвести наибольшее количество сплава. Сколько килограммов сплава при таких условиях ежедневно сможет произвести завод?

- 18 Найдите все значения a , при каждом из которых система

$$\begin{cases} |2x^2 + y^2 - 1| + y^2 + 4y = 0, \\ y = 0,5x + a \end{cases}$$

имеет два или три корня.

- 19 Три различных натуральных числа являются длинами сторон некоторого тупоугольного треугольника.

а) Может ли отношение большего из этих чисел к меньшему из них быть равно 2?

б) Может ли отношение большего из этих чисел к меньшему из них быть равно $\frac{4}{3}$?

в) Какое наименьшее значение может принимать отношение большего из этих чисел к меньшему из них, если известно, что среднее по величине число равно 20?



Проверьте, чтобы каждый ответ был записан рядом с номером соответствующего задания.

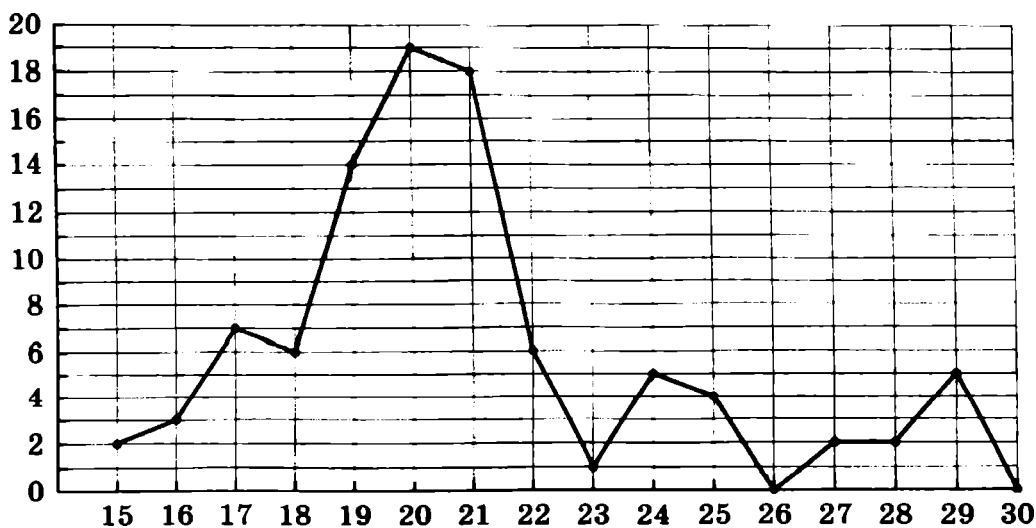
Ответом к заданиям 1–12 является целое число или конечная десятичная дробь. Запишите число в поле ответа в тексте работы, затем перенесите его в БЛАНК ОТВЕТОВ № 1 справа от номера соответствующего задания, начиная с первой клеточки. Каждую цифру, знак «минус» и запятую пишите в отдельной клеточке в соответствии с приведёнными в бланке образцами. Единицы измерений писать не нужно.

Часть 1

- 1 Задачу № 1 правильно решили 24 840 человек, что составляет 72% от выпускников города. Сколько всего выпускников в этом городе?

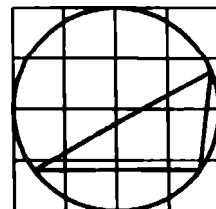
Ответ: _____.

- 2 На рисунке жирными точками показано суточное количество осадков, выпадавших в Саранске с 15 по 30 июля 2018 года. По горизонтали указываются числа месяца, по вертикали — количество осадков, выпавших в соответствующий день, в миллиметрах. Для наглядности жирные точки на рисунке соединены линией. Определите по рисунку наибольшее суточное количество осадков, выпавшее в Саранске с 15 по 30 июля. Ответ дайте в миллиметрах.



Ответ: _____.

- 3 На клетчатой бумаге с размером клетки 1×1 изображён треугольник. Найдите радиус описанной около него окружности.



Ответ: _____.

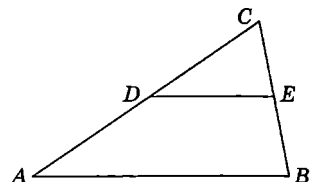
- 4 Монету бросают 9 раз. Во сколько раз событие «орёл выпадет ровно пять раз» более вероятно, чем событие «орёл выпадет ровно два раза»?

Ответ: _____.

- 5 Найдите корень уравнения $3^{\log_3(2x+6)} = 6$.

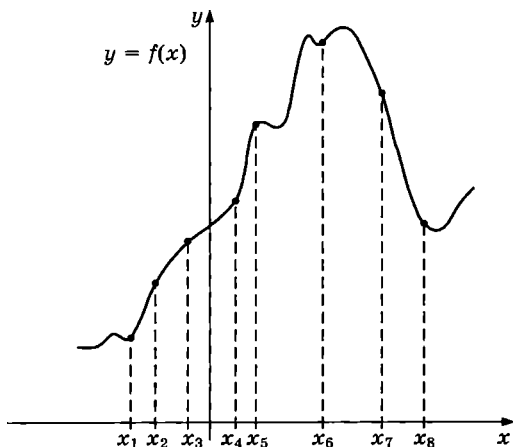
Ответ: _____.

- 6 Площадь треугольника ABC равна 80, DE — средняя линия, параллельная стороне AB . Найдите площадь трапеции $ABED$.



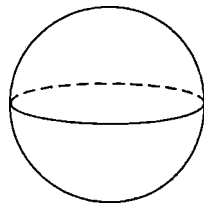
Ответ: _____.

- 7 На рисунке изображены график функции $y = f(x)$ и восемь точек на оси абсцисс: x_1, \dots, x_8 . Сколько из этих точек удовлетворяют неравенству $f'(x) > 0$?



Ответ: _____.

- 8 Площадь поверхности шара равна 8. Найдите площадь сечения этого шара плоскостью, проходящей через центр шара.



Ответ: _____.

Не забудьте перенести все ответы в бланк ответов № 1.

Часть 2

9 Найдите значение выражения $2 \sin \frac{23\pi}{12} \cdot \cos \frac{23\pi}{12}$.

Ответ: _____.

- 10 Ёмкость высоковольтного конденсатора в телевизоре равна $C = 6 \cdot 10^{-6}$ Ф. Параллельно с конденсатором подключён резистор с сопротивлением $R = 7 \cdot 10^6$ Ом. Во время работы телевизора напряжение на конденсаторе $U_0 = 32$ кВ. После выключения телевизора напряжение на конденсаторе убывает до значения U (кВ) за время $t = \alpha RC \log_2 \frac{U_0}{U}$ (с), где $\alpha = 0,7$ — постоянная. Определите напряжение на конденсаторе, если после выключения телевизора прошло 58,8 с. Ответ дайте в киловольтах.

Ответ: _____.

- 11 Автомобиль выехал с постоянной скоростью 54 км/ч из города А в город В, расстояние между которыми равно 153 км. Одновременно с ним из города С в город В, расстояние между которыми равно 120 км, с постоянной скоростью выехал мотоциклист. По дороге он сделал остановку на 50 минут. В результате автомобиль и мотоцикл прибыли в город В одновременно. Найдите скорость мотоциклиста. Ответ дайте в км/ч.

Ответ: _____.

12 Найдите наименьшее значение функции $y = 9^{x^2-6x+10}$.

Ответ: _____.



Не забудьте перенести все ответы в бланк ответов № 1 в соответствии с инструкцией по выполнению работы.

Проверьте, чтобы каждый ответ был записан в строке с номером соответствующего задания.

Для записи решений и ответов на задания 13–19 используйте БЛАНК ОТВЕТОВ № 2. Запишите сначала номер выполняемого задания (13, 14 и т. д.), а затем полное обоснованное решение и ответ. Ответы записывайте чётко и разборчиво.

13 а) Решите уравнение $(4^x - 8)^2 - 10|4^x - 8| = 3 \cdot 4^x - 36$.

б) Укажите корни этого уравнения, принадлежащие отрезку $[2; 3]$.

- 14 Основанием правильной треугольной пирамиды $MABC$ служит треугольник ABC со стороной 12. Ребро MA перпендикулярно грани MBC . Через вершину пирамиды M и середины рёбер AC и BC проведена плоскость α .

а) Докажите, что сечение пирамиды плоскостью α является равносторонним треугольником.

б) Найдите угол между плоскостью α и плоскостью AMB .

15 Решите неравенство $\frac{1}{\log_{(x-2)} \frac{x}{8}} \geq -1$.

- 16 Окружность с центром O , вписанная в прямоугольный треугольник ABC , касается гипотенузы AB в точке M , а катета AC — в точке N , $AC < BC$. Прямые MN и CO пересекаются в точке K .

а) Докажите, что угол CKN в два раза меньше угла ABC .

б) Найдите BK , если $BC = 2\sqrt{2}$.

- 17 Производство некоторого товара облагалось налогом в размере t_0 рублей за единицу товара. После того как государство, стремясь увеличить сумму налоговых поступлений, увеличило налог на 25% (до $t_1 = 1,25t_0$), сумма налоговых поступлений не изменилась. На сколько процентов государству следует изменить налог после этого, чтобы добиться максимальных налоговых сборов, если известно, что при налоге, равном t рублей за единицу товара, объём производства товара составляет $7000 - t$ единиц, если это число положительно, и 0 единиц иначе?

- 18 Найдите все значения a , при каждом из которых уравнение

$$\sin 2\sqrt{pax - x^2} - \sin \sqrt{pax - x^2} = 0$$

имеет ровно два решения.

- 19 У Игоря нет источника воды, но есть три ведра различных объёмов, в двух из которых есть вода. За один шаг Игорь переливает воду из ведра, в котором она есть, в другое ведро. Переливание заканчивается в тот момент, когда или первое ведро опустеет, или второе ведро заполнится. Выливать воду из вёдер запрещается.

а) Мог ли Игорь через несколько шагов получить в одном из вёдер ровно 3 литра воды, если сначала у него были вёдра объёмами 5 литров и 9 литров, полные воды, а также пустое ведро объёмом 10 литров?

б) Мог ли Игорь через несколько шагов получить равные объёмы воды во всех вёдрах, если сначала у него были вёдра объёмами 11 литров и 7 литров, полные воды, а также пустое ведро объёмом 8 литров?

в) Сначала у Игоря были вёдра объёмами 6 литров и 12 литров, полные воды, а также пустое ведро объёмом p литров. Какое наибольшее натуральное значение может принимать p , если известно, что Игорь сможет получить через несколько шагов ровно 7 литров воды в одном из вёдер?



Проверьте, чтобы каждый ответ был записан рядом с номером соответствующего задания.

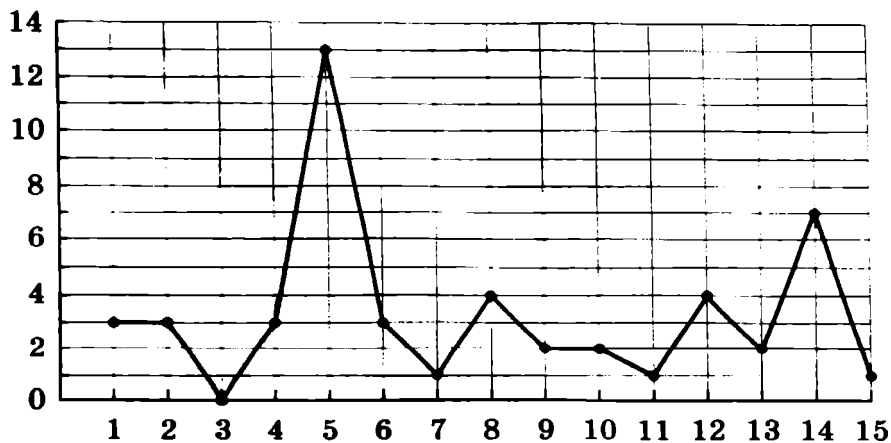
Ответом к заданиям 1–12 является целое число или конечная десятичная дробь. Запишите число в поле ответа в тексте работы, затем перенесите его в БЛАНК ОТВЕТОВ № 1 справа от номера соответствующего задания, начиная с первой клеточки. Каждую цифру, знак «минус» и запятую пишите в отдельной клеточке в соответствии с приведёнными в бланке образцами. Единицы измерений писать не нужно.

Часть 1

- 1 Задачу № 1 правильно решили 24 650 человек, что составляет 85% от выпускников города. Сколько всего выпускников в этом городе?

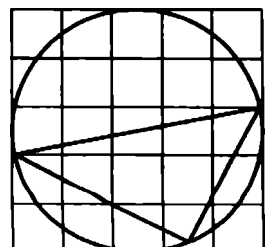
Ответ: _____.

- 2 На рисунке жирными точками показано суточное количество осадков, выпадавших в Череповце с 1 по 15 июля 2018 года. По горизонтали указываются числа месяца, по вертикали — количество осадков, выпавших в соответствующий день, в миллиметрах. Для наглядности жирные точки на рисунке соединены линией. Определите по рисунку наибольшее суточное количество осадков, выпавшее в Череповце с 8 по 15 июля. Ответ дайте в миллиметрах.



Ответ: _____.

- 3 На клетчатой бумаге с размером клетки 1×1 изображён треугольник. Найдите радиус описанной около него окружности.



Ответ: _____.

- 4 Монету бросают 10 раз. Во сколько раз событие «орёл выпадет ровно восемь раз» более вероятно, чем событие «орёл выпадет ровно девять раз»?

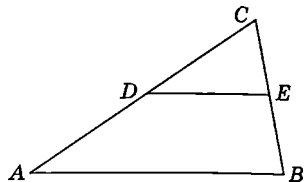
Ответ: _____.

- 5 Найдите корень уравнения $2^{\log_8(2x-3)} = 5$.

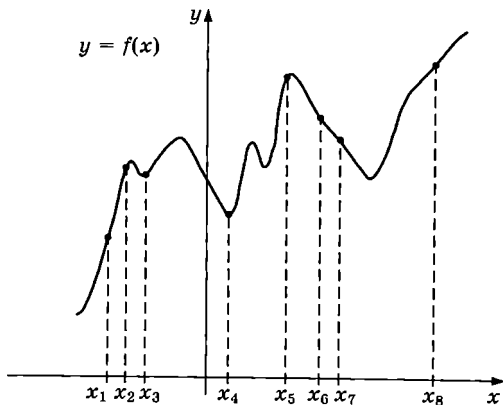
Ответ: _____.

- 6 Площадь треугольника ABC равна 76, DE — средняя линия, параллельная стороне AB . Найдите площадь трапеции $ABED$.

Ответ: _____.

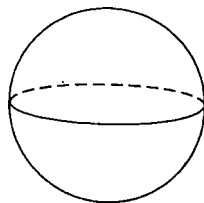


- 7 На рисунке изображены график функции $y = f(x)$ и восемь точек на оси абсцисс: x_1, \dots, x_8 . Сколько из этих точек удовлетворяют неравенству $f'(x) > 0$?



Ответ: _____.

- 8 Площадь поверхности шара равна 208. Найдите площадь сечения этого шара плоскостью, проходящей через центр шара.



Ответ: _____.

Не забудьте перенести все ответы в бланк ответов № 1.

Часть 2

- 9 Найдите значение выражения $5\sqrt{2} \sin \frac{\pi}{8} \cdot \cos \frac{\pi}{8}$.

Ответ: _____.

- 10 Ёмкость высоковольтного конденсатора в телевизоре равна $C = 3 \cdot 10^{-6}$ Ф. Параллельно с конденсатором подключён резистор с сопротивлением $R = 7 \cdot 10^6$ Ом. Во время работы телевизора напряжение на конденсаторе $U_0 = 8$ кВ. После выключения телевизора напряжение на конденсаторе убывает до значения U (кВ) за время $t = \alpha RC \log_2 \frac{U_0}{U}$ (с), где $\alpha = 1,1$ — постоянная. Определите напряжение на конденсаторе, если после выключения телевизора прошло 46,2 с. Ответ дайте в киловольтах.

Ответ: _____.

- 11 Автомобиль выехал с постоянной скоростью 82 км/ч из города А в город В, расстояние между которыми равно 123 км. Одновременно с ним из города С в город В, расстояние между которыми равно 63 км, с постоянной скоростью выехал мотоциклист. По дороге он сделал остановку на 45 минут. В результате автомобиль и мотоцикл прибыли в город В одновременно. Найдите скорость мотоциклиста. Ответ дайте в км/ч.

Ответ: _____.

- 12 Найдите наименьшее значение функции $y = 5^{x^2+30x+229}$.

Ответ: _____.



Не забудьте перенести все ответы в бланк ответов № 1 в соответствии с инструкцией по выполнению работы.

Проверьте, чтобы каждый ответ был записан в строке с номером соответствующего задания.

Для записи решений и ответов на задания 13–19 используйте БЛАНК ОТВЕТОВ № 2. Запишите сначала номер выполняемого задания (13, 14 и т. д.), а затем полное обоснованное решение и ответ. Ответы записывайте чётко и разборчиво.

- 13 а) Решите уравнение $(5^x - 6)^2 - 6|5^x - 6| + 5^2 = 25 - 5^x$.

б) Укажите корни этого уравнения, принадлежащие отрезку $[1; 2]$.

- 14 Основанием правильной треугольной пирамиды $МABC$ служит треугольник ABC со стороной 6. Ребро $МА$ перпендикулярно грани $МBC$. Через вершину пирамиды $М$ и середины рёбер AC и BC проведена плоскость α .

а) Докажите, что сечение пирамиды плоскостью α является равносторонним треугольником.

б) Найдите угол между плоскостью α и ребром MC .

15 Решите неравенство $\frac{1}{\log_{(x-1)} \frac{x}{20}} \geq -1$.

- 16 Окружность с центром O , вписанная в прямоугольный треугольник ABC , касается гипотенузы AB в точке M , а катета AC — в точке N , $AC < BC$. Прямые MN и CO пересекаются в точке K .

а) Докажите, что угол CKN в два раза меньше угла ABC .

б) Найдите BK , если $BC = 10\sqrt{2}$.

- 17 Производство некоторого товара облагалось налогом в размере t_0 рублей за единицу товара. После того как государство, стремясь увеличить сумму налоговых поступлений, увеличило налог в два с половиной раза (до $t_1 = 2,5t_0$), сумма налоговых поступлений не изменилась. На сколько процентов государству следует изменить налог после этого, чтобы добиться максимальных налоговых сборов, если известно, что при налоге, равном t рублей за единицу товара, объём производства товара составляет $9000 - 2t$ единиц, если это число положительно, и 0 единиц иначе?

- 18 Найдите все значения a , при каждом из которых уравнение

$$\sin 2\sqrt{2px - x^2 + \frac{a^2}{4}} + \cos \sqrt{2px - x^2 + \frac{a^2}{4}} = 0$$

имеет ровно два решения.

- 19 У Ромы нет источника воды, но есть три ведра различных объёмов, в двух из которых есть вода. За один шаг Рома переливает воду из ведра, в котором она есть, в другое ведро. Переливание заканчивается в тот момент, когда или первое ведро опустеет, или второе ведро заполнится. Выливать воду из вёдер запрещается.

а) Мог ли Рома через несколько шагов получить в одном из вёдер ровно 4 литра воды, если сначала у него были ведра объёмами 3 литра и 8 литров, полные воды, а также пустое ведро объёмом 9 литров?

б) Мог ли Рома через несколько шагов получить равные объёмы воды во всех вёдрах, если сначала у него были ведра объёмами 8 литров и 10 литров, полные воды, а также пустое ведро объёмом 11 литров?

в) Сначала у Ромы были ведра объёмами 4 литра и 8 литров, полные воды, а также пустое ведро объёмом n литров. Какое наибольшее натуральное значение может принимать n , если известно, что Рома сможет получить через несколько шагов ровно 5 литров воды в одном из вёдер?



Проверьте, чтобы каждый ответ был записан рядом с номером соответствующего задания.

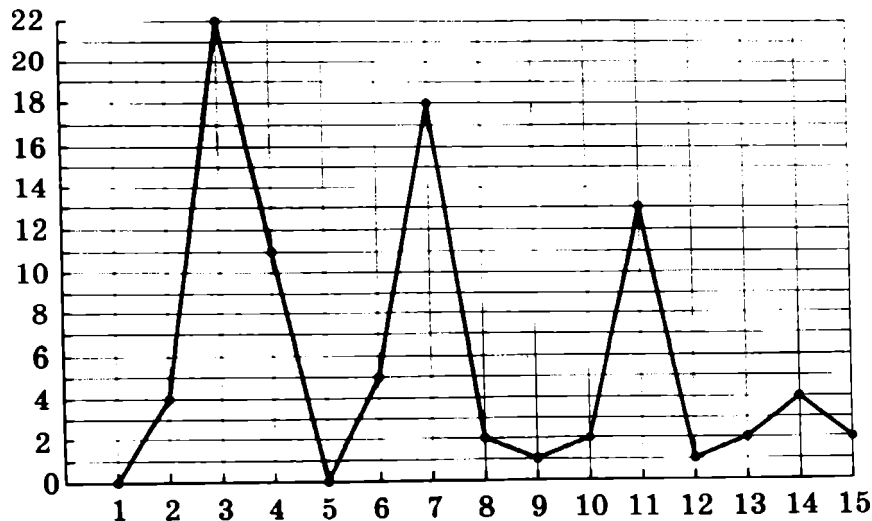
Ответом к заданиям 1–12 является целое число или конечная десятичная дробь. Запишите число в поле ответа в тексте работы, затем перенесите его в БЛАНК ОТВЕТОВ № 1 справа от номера соответствующего задания, начиная с первой клеточки. Каждую цифру, знак «минус» и запятую пишите в отдельной клеточке в соответствии с приведёнными в бланке образцами. Единицы измерений писать не нужно.

Часть 1

- 1** Задачу № 1 правильно решили 20 930 человек, что составляет 46% от выпускников города. Сколько всего выпускников в этом городе?

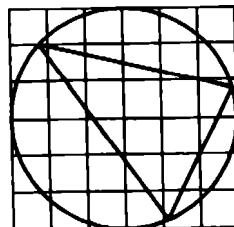
Ответ: _____.

- 2** На рисунке жирными точками показано суточное количество осадков, выпадавших в Благовещенске с 1 по 15 января 2019 года. По горизонтали указываются числа месяца, по вертикали — количество осадков, выпавших в соответствующий день, в миллиметрах. Для наглядности жирные точки на рисунке соединены линией. Определите по рисунку наибольшее суточное количество осадков, выпавшее в Благовещенске в период с 4 по 14 января. Ответ дайте в миллиметрах.



Ответ: _____.

- 3** На клетчатой бумаге с размером клетки 1×1 изображён треугольник. Найдите радиус описанной около него окружности.



Ответ: _____.

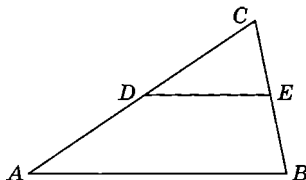
- 4 Монету бросают 9 раз. Во сколько раз событие «орёл выпадет ровно семь раз» более вероятно, чем событие «орёл выпадет ровно один раз»?

Ответ: _____.

- 5 Найдите корень уравнения $3^{\log_9(2x+5)} = 3$.

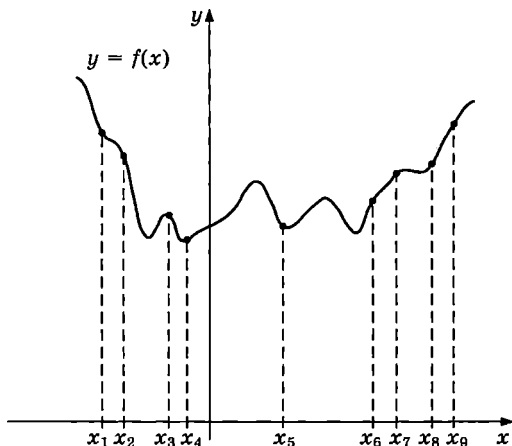
Ответ: _____.

- 6 Площадь треугольника ABC равна 44, DE — средняя линия, параллельная стороне AB . Найдите площадь трапеции $ABED$.



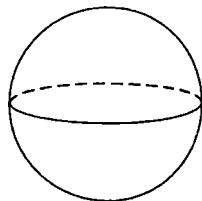
Ответ: _____.

- 7 На рисунке изображены график функции $y = f(x)$ и девять точек на оси абсцисс: x_1, \dots, x_9 . Сколько из этих точек удовлетворяют неравенству $f'(x) > 0$?



Ответ: _____.

- 8 Площадь поверхности шара равна 120. Найдите площадь сечения этого шара плоскостью, проходящей через центр шара.



Ответ: _____.

Не забудьте перенести все ответы в бланк ответов № 1.

Часть 2

9 Найдите значение выражения $3 \sin \frac{19\pi}{12} \cdot \cos \frac{19\pi}{12}$.

Ответ: _____.

- 10 Ёмкость высоковольтного конденсатора в телевизоре равна $C = 4 \cdot 10^{-6}$ Ф. Параллельно с конденсатором подключён резистор с сопротивлением $R = 4 \cdot 10^6$ Ом. Во время работы телевизора напряжение на конденсаторе $U_0 = 36$ кВ. После выключения телевизора напряжение на конденсаторе убывает до значения U (кВ) за время $t = \alpha RC \log_2 \frac{U_0}{U}$ (с), где $\alpha = 2$ — постоянная. Определите напряжение на конденсаторе, если после выключения телевизора прошло 64 с. Ответ дайте в киловольтах.

Ответ: _____.

- 11 Автомобиль выехал с постоянной скоростью 60 км/ч из города А в город В, расстояние между которыми равно 300 км. Одновременно с ним из города С в город В, расстояние между которыми равно 325 км, с постоянной скоростью выехал мотоциклист. По дороге он сделал остановку на 40 минут. В результате автомобиль и мотоцикл прибыли в город В одновременно. Найдите скорость мотоциклиста. Ответ дайте в км/ч.

Ответ: _____.

- 12 Найдите наименьшее значение функции $y = 3^{x^2 - 18x + 85}$.

Ответ: _____.



Не забудьте перенести все ответы в бланк ответов № 1 в соответствии с инструкцией по выполнению работы.

Проверьте, чтобы каждый ответ был записан в строке с номером соответствующего задания.

Для записи решений и ответов на задания 13–19 используйте БЛАНК ОТВЕТОВ № 2. Запишите сначала номер выполняемого задания (13, 14 и т. д.), а затем полное обоснованное решение и ответ. Ответы записывайте чётко и разборчиво.

13 а) Решите уравнение $2(3^x - 5)^2 + 3^x + 19 = 15|3^x - 5|$.

б) Укажите корни этого уравнения, принадлежащие отрезку $[0; 1]$.

- 14 Основанием правильной треугольной пирамиды $МABC$ служит треугольник ABC со стороной $3\sqrt{2}$. Ребро $МА$ перпендикулярно грани $МBC$. Через вершину пирамиды $М$ и середины рёбер AC и BC проведена плоскость α .

а) Докажите, что сечение пирамиды плоскостью α является равносторонним треугольником.

б) Найдите расстояние от вершины $В$ до плоскости α .

15 Решите неравенство $\frac{1}{\log_{(x-4)} \frac{x}{12}} \geq -1$.

16 Окружность с центром O , вписанная в прямоугольный треугольник ABC , касается гипотенузы AB в точке M , а катета AC — в точке N , $AC < BC$. Прямые MN и CO пересекаются в точке K .

а) Докажите, что угол CKN в два раза меньше угла ABC .

б) Найдите BK , если $BC = 6\sqrt{2}$.

17 15 августа планируется взять кредит в банке на 20 месяцев. Условия его возврата таковы:

— 1-го числа каждого месяца долг возрастает на $r\%$ по сравнению с концом предыдущего месяца;

— со 2-го по 14-е число каждого месяца необходимо выплатить часть долга;

— 15-го числа каждого месяца долг должен быть на одну и ту же величину меньше долга на 15-е число предыдущего месяца.

Известно, что общая сумма денег, которую нужно выплатить банку за весь срок кредитования, на 21% больше, чем сумма, взятая в кредит. Найдите r .

18 Найдите все значения a , при каждом из которых уравнение

$$\sin \sqrt{ax - x^2} + \cos 2\sqrt{ax - x^2} = 0$$

имеет ровно два решения.

19 У Жени нет источника воды, но есть три ведра различных объёмов, в двух из которых есть вода. За один шаг Женя переливает воду из ведра, в котором она есть, в другое ведро. Переливание заканчивается в тот момент, когда или первое ведро опустеет, или второе ведро заполнится. Выливать воду из вёдер запрещается.

а) Мог ли Женя через несколько шагов получить в одном из вёдер ровно 6 литров воды, если сначала у него были вёдра объёмами 5 литров и 8 литров, полные воды, а также пустое ведро объёмом 9 литров?

б) Мог ли Женя через несколько шагов получить равные объёмы воды во всех вёдрах, если сначала у него были вёдра объёмами 7 литров и 8 литров, полные воды, а также пустое ведро объёмом 10 литров?

в) Сначала у Жени были вёдра объёмами 5 литров и 10 литров, полные воды, а также пустое ведро объёмом p литров. Какое наибольшее натуральное значение может принимать p , если известно, что Женя сможет получить через несколько шагов ровно 6 литров воды в одном из вёдер?



Проверьте, чтобы каждый ответ был записан рядом с номером соответствующего задания.

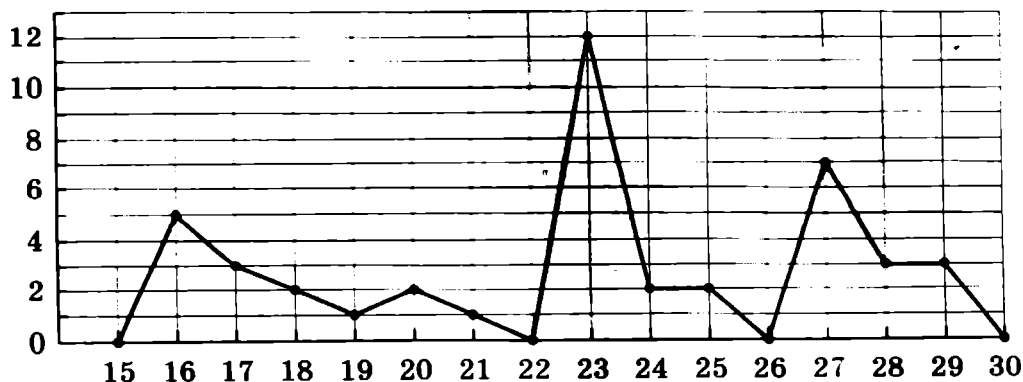
Ответом к заданиям 1–12 является целое число или конечная десятичная дробь. Запишите число в поле ответа в **тексте** работы, затем перенесите его в БЛАНК ОТВЕТОВ № 1 справа от номера соответствующего задания, начиная с первой клеточки. Каждую цифру, знак «минус» и запятую **пишете в отдельной** клеточке в соответствии с приведёнными в бланке образцами. Единицы измерений **писать** не нужно.

Часть 1

- 1 Задачу № 1 правильно решили 19 125 человек, что составляет 51% от выпускников города. Сколько всего выпускников в этом городе?

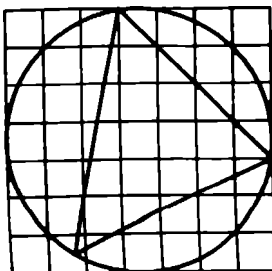
Ответ: _____.

- 2 На рисунке жирными точками показано суточное количество осадков, выпадавших в Магадане с 15 по 30 июня 2019 года. По горизонтали указываются числа месяца, по вертикали — количество осадков, выпавших в соответствующий день, в миллиметрах. Для наглядности жирные точки на рисунке соединены линией. Определите по рисунку наибольшее суточное количество осадков, выпавшее в Магадане в период с 24 по 30 июня. Ответ дайте в миллиметрах.



Ответ: _____.

- 3 На клетчатой бумаге с размером клетки 1×1 изображён треугольник. Найдите радиус описанной около него окружности.



Ответ: _____.

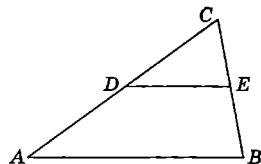
- 4 Монету бросают 10 раз. Во сколько раз событие «орёл выпадет ровно пять раз» более вероятно, чем событие «орёл выпадет ровно семь раз»?

Ответ: _____.

- 5 Найдите корень уравнения $2^{\log_4(9x+9)} = 6$.

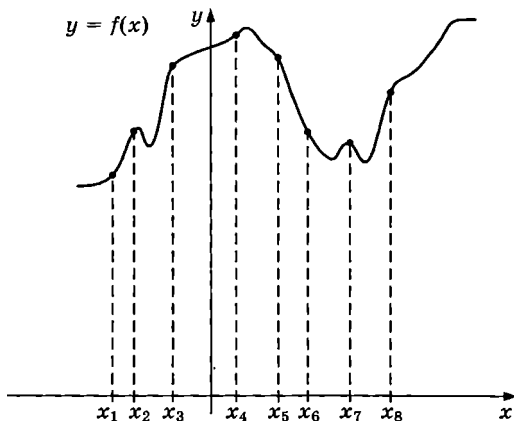
Ответ: _____.

- 6 Площадь треугольника ABC равна 40, DE — средняя линия, параллельная стороне AB . Найдите площадь трапеции $ABED$.



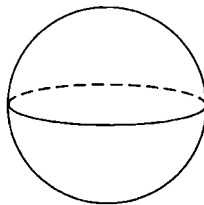
Ответ: _____.

- 7 На рисунке изображены график функции $y = f(x)$ и восемь точек на оси абсцисс: x_1, \dots, x_8 . Сколько из этих точек удовлетворяют неравенству $f'(x) > 0$?



Ответ: _____.

- 8 Площадь поверхности шара равна 16. Найдите площадь сечения этого шара плоскостью, проходящей через центр шара.



Ответ: _____.

Не забудьте перенести все ответы в бланк ответов № 1.

Часть 2

- 10 Найдите значение выражения $5 \sin \frac{\pi}{12} \cdot \cos \frac{\pi}{12}$.

Ответ: _____.

- 11 Ёмкость высоковольтного конденсатора в телевизоре равна $C = 2 \cdot 10^{-6}$ Ф. Параллельно с конденсатором подключён резистор с сопротивлением $R = 6 \cdot 10^6$ Ом. Во время работы телевизора напряжение на конденсаторе $U_0 = 10$ кВ. После выключения телевизора напряжение на конденсаторе убывает до значения U (кВ) за время $t = \alpha RC \log_2 \frac{U_0}{U}$ (с), где $\alpha = 0,7$ — постоянная. Определите напряжение на конденсаторе, если после выключения телевизора прошло 16,8 с. Ответ дайте в киловольтах.

Ответ: _____.

- 12 Автомобиль выехал с постоянной скоростью 63 км/ч из города А в город В, расстояние между которыми равно 168 км. Одновременно с ним из города С в город В, расстояние между которыми равно 174 км, с постоянной скоростью выехал мотоциклист. По дороге он сделал остановку на 15 минут. В результате автомобиль и мотоцикл прибыли в город В одновременно. Найдите скорость мотоциклиста. Ответ дайте в км/ч.

Ответ: _____.

- 13 Найдите наименьшее значение функции $y = 2^{x^2 - 16x + 67}$.

Ответ: _____.



Не забудьте перенести все ответы в бланк ответов № 1 в соответствии с инструкцией по выполнению работы.

Проверьте, чтобы каждый ответ был записан в строке с номером соответствующего задания.

Для записи решений и ответов на задания 13–19 используйте БЛАНК ОТВЕТОВ № 2. Запишите сначала номер выполняемого задания (13, 14 и т. д.), а затем полное обоснованное решение и ответ. Ответы записывайте чётко и разборчиво.

13. а) Решите уравнение $(4^x - 5)^2 + 2 \cdot 4^x = 9|4^x - 5|$.

б) Укажите корни этого уравнения, принадлежащие отрезку $[0; 1]$.

- 14 Основанием правильной треугольной пирамиды $MABC$ служит треугольник ABC со стороной $2\sqrt{3}$. Ребро MA перпендикулярно грани MBC . Через вершину пирамиды M и середины рёбер AC и BC проведена плоскость α .

а) Докажите, что сечение пирамиды плоскостью α является равносторонним треугольником.

б) Найдите расстояние от вершины A до плоскости α .

15 Решите неравенство $\frac{1}{\log_{(x-3)} \frac{x}{10}} \geq -1$.

- 16 Окружность с центром O , вписанная в прямоугольный треугольник ABC , касается гипотенузы AB в точке M , а катета AC — в точке N , $AC < BC$. Прямые MN и CO пересекаются в точке K .

- а) Докажите, что угол CKN в два раза меньше угла ABC .
 б) Найдите BK , если $BC = 5\sqrt{2}$.

- 17 По вкладу «А» банк в конце каждого года планирует увеличивать на 17% сумму, имеющуюся на вкладе в начале года, а по вкладу «Б» — увеличивать эту сумму на 9% в первый год и на целое число n процентов за второй год. Найдите наименьшее значение n , при котором за два года хранения вклад «Б» окажется выгоднее вклада «А» при одинаковых суммах первоначальных взносов.

- 18 Найдите все значения a , при каждом из которых уравнение

$$\cos \sqrt{2\pi ax - 4x^2} + \cos 2\sqrt{2\pi ax - 4x^2} = 0$$

имеет ровно два решения.

- 19 У Вити нет источника воды, но есть три ведра различных объёмов, в двух из которых есть вода. За один шаг Витя переливает воду из ведра, в котором она есть, в другое ведро. Переливание заканчивается в тот момент, когда или первое ведро опустеет, или второе ведро заполнится. Выливать воду из вёдер запрещается.

- а) Мог ли Витя через несколько шагов получить в одном из вёдер ровно 5 литров воды, если сначала у него были вёдра объёмами 3 литра и 6 литров, полные воды, а также пустое ведро объёмом 7 литров?
 б) Мог ли Витя через несколько шагов получить равные объёмы воды во всех вёдрах, если сначала у него были вёдра объёмами 6 литров и 9 литров, полные воды, а также пустое ведро объёмом 7 литров?
 в) Сначала у Вити были вёдра объёмами 2 литра и 4 литра, полные воды, а также пустое ведро объёмом n литров. Какое наибольшее натуральное значение может принимать n , если известно, что Витя сможет получить через несколько шагов ровно 3 литра воды в одном из вёдер?



Проверьте, чтобы каждый ответ был записан рядом с номером соответствующего задания.

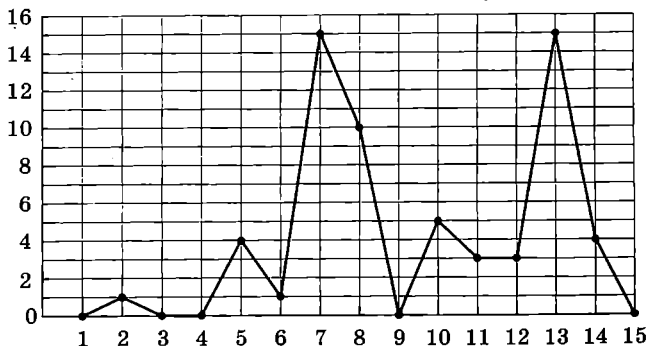
Ответом к заданиям 1–12 является целое число или конечная десятичная дробь. Запишите число в поле ответа в тексте работы, затем перенесите его в БЛАНК ОТВЕТОВ № 1 справа от номера соответствующего задания, начиная с первой клеточки. Каждую цифру, знак «минус» и запятую пишите в отдельной клеточке в соответствии с приведёнными в бланке образцами. Единицы измерений писать не нужно.

Часть 1

- 1 Задачу № 1 правильно решили 17 955 человек, что составляет 63% от выпускников города. Сколько всего выпускников в этом городе?

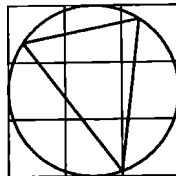
Ответ: _____.

- 2 На рисунке жирными точками показано суточное количество осадков, выпадавших в Калининграде с 1 по 15 июня 2019 года. По горизонтали указываются числа месяца, по вертикали — количество осадков, выпавших в соответствующий день, в миллиметрах. Для наглядности жирные точки на рисунке соединены линией. Определите по рисунку наибольшее суточное количество осадков, выпавшее в Калининграде в период с 1 по 15 июня. Ответ дайте в миллиметрах.



Ответ: _____.

- 3 На клетчатой бумаге с размером клетки 1×1 изображён треугольник. Найдите радиус описанной около него окружности.



Ответ: _____.

- 4 Монету бросают 8 раз. Во сколько раз событие «орёл выпадет ровно шесть раз» более вероятно, чем событие «орёл выпадет ровно один раз»?

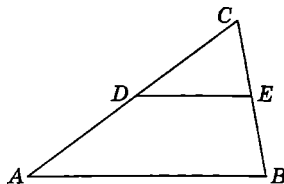
Ответ: _____.

- 5 Найдите корень уравнения $3^{\log_{31}(6x+8)} = 4$.

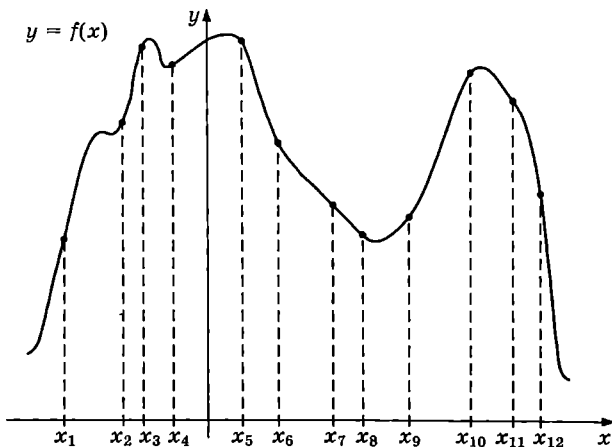
Ответ: _____.

- 6 Площадь треугольника ABC равна 36, DE — средняя линия, параллельная стороне AB . Найдите площадь трапеции $ABED$.

Ответ: _____.

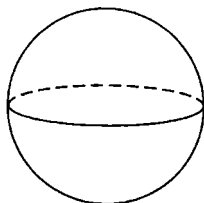


- 7 На рисунке изображён график функции $y = f(x)$ и двенадцать точек на оси абсцисс: x_1, x_2, \dots, x_{12} . Сколько из этих точек удовлетворяют неравенству $f'(x) > 0$?



Ответ: _____.

- 8 Площадь поверхности шара равна 80. Найдите площадь сечения этого шара плоскостью, проходящей через центр шара.



Ответ: _____.

Не забудьте перенести все ответы в бланк ответов № 1.

- 9 Найдите значение выражения $4\sqrt{2} \sin \frac{7\pi}{8} \cdot \cos \frac{7\pi}{8}$.

Ответ: _____.

- 10 Ёмкость высоковольтного конденсатора в телевизоре равна $C = 5 \cdot 10^{-6}$ Ф. Параллельно с конденсатором подключён резистор с сопротивлением $R = 5 \cdot 10^6$ Ом. Во время работы телевизора напряжение на конденсаторе $U_0 = 16$ кВ. После выключения телевизора напряжение на конденсаторе убывает до значения U (кВ) за время $t = \alpha RC \log_2 \frac{U_0}{U}$ (с), где $\alpha = 0,7$ — постоянная. Определите напряжение на конденсаторе, если после выключения телевизора прошло 35 с. Ответ дайте в киловольтах.

Ответ: _____.

- 11 Автомобиль выехал с постоянной скоростью 86 км/ч из города А в город В, расстояние между которыми равно 344 км. Одновременно с ним из города С в город В, расстояние между которыми равно 300 км, с постоянной скоростью выехал мотоциклист. По дороге он сделал остановку на 40 минут. В результате автомобиль и мотоцикл прибыли в город В одновременно. Найдите скорость мотоциклиста. Ответ дайте в км/ч.

Ответ: _____.

- 12 Найдите наименьшее значение функции $y = 4^{x^2 - 14x + 50}$.

Ответ: _____.



Не забудьте перенести все ответы в бланк ответов № 1 в соответствии с инструкцией по выполнению работы. Проверьте, чтобы каждый ответ был записан в строке с номером соответствующего задания.

Для записи решений и ответов на задания 13–19 используйте БЛАНК ОТВЕТОВ № 2. Запишите сначала номер выполняемого задания (13, 14 и т. д.), а затем полное обоснованное решение и ответ. Ответы записывайте чётко и разборчиво.

- 13 а) Решите уравнение $(3^x - 6)^2 - 16|3^x - 6| = 15 - 2 \cdot 3^{x+1}$.

б) Укажите корни этого уравнения, принадлежащие отрезку $[1; 2]$.

- 14 Основанием правильной треугольной пирамиды $МABC$ служит треугольник ABC со стороной 6. Ребро $МА$ перпендикулярно грани $МBC$. Через вершину пирамиды $М$ и середины рёбер AC и BC проведена плоскость α .

а) Докажите, что сечение пирамиды плоскостью α является равносторонним треугольником.

б) Найдите расстояние от вершины C до плоскости α .

15 Решите неравенство $\frac{1}{\log_{(x-1)} \frac{x}{6}} \geq -1$.

- 16 Окружность с центром O , вписанная в прямоугольный треугольник ABC , касается гипотенузы AB в точке M , а катета AC — в точке N , $AC < BC$. Прямые MN и CO пересекаются в точке K .

- а) Докажите, что угол CKN в два раза меньше угла ABC .
 б) Найдите BK , если $BC = 3\sqrt{2}$.

- 17 По вкладу «А» банк в конце каждого года планирует увеличивать на 14% сумму, имеющуюся на вкладе в начале года, а по вкладу «Б» — увеличивать эту сумму на 8% в первый год и на целое число n процентов за второй год. Найдите наименьшее значение n , при котором за два года хранения вклад «Б» окажется выгоднее вклада «А» при одинаковых суммах первоначальных взносов.

- 18 Найдите все значения a , при каждом из которых уравнение

$$\sin \sqrt{ax - x^2 - \pi^2} + \cos 2\sqrt{ax - x^2 - \pi^2} = 0$$

имеет ровно два решения.

- 19 У Бори нет источника воды, но есть три ведра различных объёмов, в двух из которых есть вода. За один шаг Боря переливает воду из ведра, в котором она есть, в другое ведро. Переливание заканчивается в тот момент, когда или первое ведро опустеет, или второе ведро заполнится. Выливать воду из вёдер запрещается.

- а) Мог ли Боря через несколько шагов получить в одном из вёдер ровно 2 литра воды, если сначала у него были вёдра объёмами 4 литра и 7 литров, полные воды, а также пустое ведро объёмом 8 литров?
 б) Мог ли Боря через несколько шагов получить равные объёмы воды во всех вёдрах, если сначала у него были вёдра объёмами 5 литров и 7 литров, полные воды, а также пустое ведро объёмом 10 литров?
 в) Сначала у Бори были вёдра объёмами 3 литра и 6 литров полные воды, а также пустое ведро объёмом n литров. Какое наибольшее натуральное значение может принимать n , если известно, что Боря сможет получить через несколько шагов ровно 4 литра воды в одном из вёдер?



Проверьте, чтобы каждый ответ был записан рядом с номером соответствующего задания.

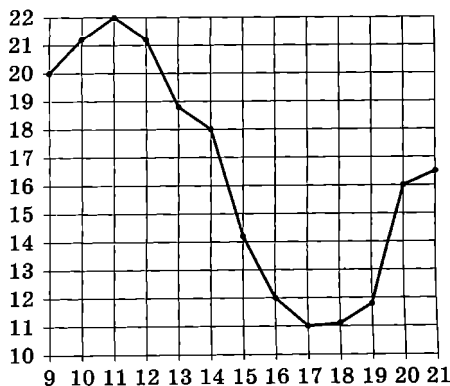
Ответом к заданиям 1–12 является целое число или конечная десятичная дробь. Запишите число в поле ответа в тексте работы, затем перенесите его в БЛАНК ОТВЕТОВ № 1 справа от номера соответствующего задания, начиная с первой клеточки. Каждую цифру, знак «минус» и запятую пишите в отдельной клеточке в соответствии с приведёнными в бланке образцами. Единицы измерений писать не нужно.

Часть 1

- 1 Для ремонта квартиры купили 42 рулона обоев. Какое наименьшее количество пачек обойного клея нужно купить, если одна пачка клея рассчитана на 8 рулонов?

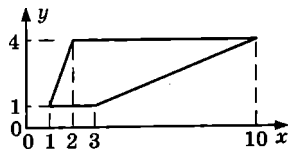
Ответ: _____.

- 2 На рисунке жирными точками показана средняя температура воздуха в Кемерове во все дни с 9 по 21 августа 2012 года. По горизонтали указываются числа месяца, по вертикали — средняя температура в градусах Цельсия. Для наглядности точки на рисунке соединены линией. Определите, какого числа средняя температура в Кемерове была наименьшей за данный период.



Ответ: _____.

- 3 Найдите площадь трапеции, вершины которой имеют координаты (1; 1), (2; 4), (10; 4), (3; 1).



Ответ: _____.

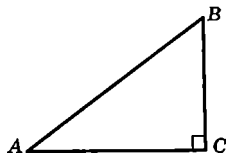
- 4 В случайном эксперименте бросают две игральные кости (кубика). Найдите вероятность того, что в сумме выпадет 7 очков. Результат округлите до сотых.

Ответ: _____.

- 5 Найдите корень уравнения $32^{x-3} = \frac{1}{2}$.

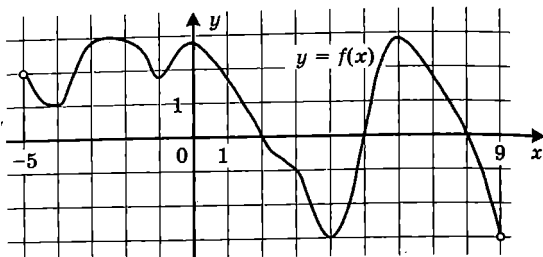
Ответ: _____.

- 6 В треугольнике ABC угол C равен 90° , $\cos A = \frac{4}{5}$. Найдите $\sin B$.



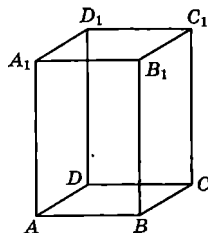
Ответ: _____.

- 7 На рисунке изображён график функции $y = f(x)$, определённой на интервале $(-5; 9)$. Найдите количество точек, в которых производная функции $f(x)$ равна 0.



Ответ: _____.

- 8 Диагональ правильной четырёхугольной призмы наклонена к плоскости основания под углом 30° . Боковое ребро равно 6. Найдите диагональ призмы.



Ответ: _____.

Не забудьте перенести все ответы в бланк ответов № 1.

Часть 2

- 9 Найдите значение выражения $\sqrt{9 - 4\sqrt{5}} - \sqrt{5}$.
- Ответ: _____.
- 10 Ёмкость высоковольтного конденсатора в телевизоре $C = 3 \cdot 10^{-6}$ Ф. Параллельно с конденсатором подключён резистор с сопротивлением $R = 5 \cdot 10^6$ Ом. Во время работы телевизора напряжение на конденсаторе $U_0 = 9$ кВ. После выключения телевизора напряжение на конденсаторе убывает до значения U (кВ) за время, определяемое выражением $t = \alpha RC \log_2 \frac{U_0}{U}$ (с), где $\alpha = 1,1 \frac{\text{с}}{\text{Ом} \cdot \text{Ф}}$ — постоянная. Определите напряжение на конденсаторе, если после выключения телевизора прошло 33 секунды. Ответ дайте в кВ (киловольтах).
- Ответ: _____.
- 11 Мощность отопителя в автомобиле регулируется дополнительным сопротивлением. При этом меняется сила тока в электрической цепи электродвигателя: чем меньше сопротивление, тем больше сила тока и тем быстрее вращается мотор отопителя. На графике показана зависимость силы тока от величины сопротивления. На горизонтальной оси отмечено сопротивление в омах, на вертикальной оси — сила тока в амперах. Определите по графику, на сколько ампер уменьшилась сила тока при увеличении сопротивления с 0,5 до 2,5 Ом.
- Ответ: _____.
- 12 Найдите наименьшее значение функции $y = e^{2x} - 5e^x - 2$ на отрезке $[-2; 1]$.
- Ответ: _____.



Не забудьте перенести все ответы в бланк ответов № 1 в соответствии с инструкцией по выполнению работы. Проверьте, чтобы каждый ответ был записан в строке с номером соответствующего задания.

Для записи решений и ответов на задания 13–19 используйте БЛАНК ОТВЕТОВ № 2. Запишите сначала номер выполняемого задания (13, 14 и т. д.), а затем полное обоснованное решение и ответ. Ответы записывайте чётко и разборчиво.

13 а) Решите уравнение $\frac{2 \cos x - \sqrt{3}}{\sqrt{7} \sin x} = 0$.

б) Найдите все корни этого уравнения, принадлежащие отрезку $\left[\pi; \frac{5\pi}{2}\right]$.

14 Диаметр окружности основания цилиндра равен 26, образующая цилиндра равна 21. Плоскость пересекает его основания по хордам длины 24 и 10. Расстояние между этими хордами равно $\sqrt{730}$.

а) Докажите, что центры оснований цилиндра лежат по разные стороны от этой плоскости.

б) Найдите угол между этой плоскостью и плоскостью основания цилиндра.

15 Решите неравенство $2^x + 3 \cdot 2^{-x} \leq 4$.

16 На катетах AC и BC прямоугольного треугольника ABC вне треугольника построены квадраты $ACDE$ и $BKFC$. Точка M — середина гипотенузы AB , H — точка пересечения прямых CM и DK .

а) Докажите, что прямые CM и DK перпендикулярны.

б) Найдите MH , если известно, что катеты треугольника ABC равны 30 и 40.

17 15 января планируется взять кредит в банке на сумму 2,4 млн рублей на 24 месяца. Условия его возврата таковы:

— 1-го числа каждого месяца долг возрастает на 3% по сравнению с концом предыдущего месяца;

— со 2-го по 14-е число каждого месяца необходимо выплатить часть долга;

— 15-го числа каждого месяца долг должен быть на одну и ту же величину меньше долга на 15-е число предыдущего месяца.

Какую сумму нужно выплатить банку за первые 12 месяцев?

18 Найдите все значения a , при каждом из которых уравнение

$$a^2 + 7|x+1| + 5\sqrt{x^2 + 2x + 5} = 2a + 3|x - 4a + 1|$$

имеет хотя бы один корень.

19 Имеется 8 карточек. На них записывают по одному каждое из чисел $-1, 2, 4, -6, 7, -8, -10, 12$. Карточки переворачивают и перемешивают. На их чистых сторонах заново пишут по одному каждое из чисел $-1, 2, 4, -6, 7, -8, -10, 12$. После этого числа на каждой карточке складывают, а полученные восемь сумм перемножают.

а) Может ли в результате получиться 0?

б) Может ли в результате получиться 1?

в) Какое наименьшее целое неотрицательное число может в результате получиться?



Проверьте, чтобы каждый ответ был записан рядом с номером соответствующего задания.

Ответом к заданиям 1–12 является целое число или конечная десятичная дробь. Запишите число в поле ответа в тексте работы, затем перенесите его в БЛАНК ОТВЕТОВ № 1 справа от номера соответствующего задания, начиная с первой клеточки. Каждую цифру, знак «минус» и запятую пишите в отдельной клеточке в соответствии с приведёнными в бланке образцами. Единицы измерений писать не нужно.

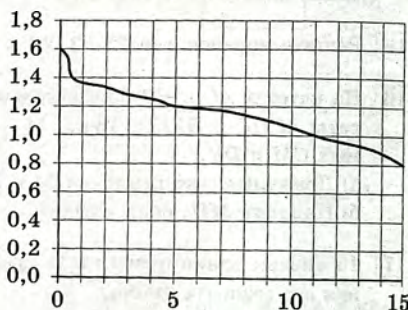
Часть 1

- 1 Флакон шампуня стоит 190 рублей. Какое наибольшее число флаконов можно купить на 1000 рублей во время распродажи, когда скидка составляет 35%?

Ответ: _____.

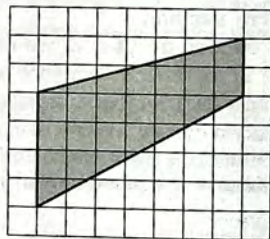
- 2 При работе фонарика батарейка постепенно разряжается, и напряжение в электрической цепи фонарика падает. На рисунке показана зависимость напряжения в цепи от времени работы фонарика. На горизонтальной оси отмечается время работы фонарика в часах, на вертикальной оси — напряжение в вольтах. Определите по рисунку, какое напряжение будет в цепи через 5 часов работы фонарика. Ответ дайте в вольтах.

Ответ: _____.



- 3 На клетчатой бумаге с размером клетки 1×1 изображена трапеция. Найдите её площадь.

Ответ: _____.



- 4 В корабельной артиллерии применяется система управления огнём. Орудие делает выстрел по цели. Если цель не поражена, делается ещё один выстрел. Третий выстрел не делается. Известно, что вероятность поражения цели каждым отдельным выстрелом равна 0,8. Найдите вероятность того, что цель будет поражена.

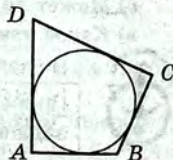
Ответ: _____.

- 5 Найдите корень уравнения $\sqrt{1-6x} = 7$.

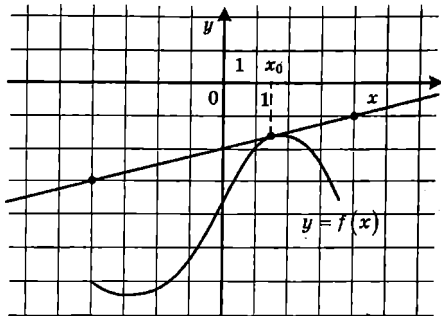
Ответ: _____.

- 6 В четырёхугольник $ABCD$ вписана окружность, $AB = 6$, $BC = 4$ и $CD = 16$. Найдите четвёртую сторону четырёхугольника.

Ответ: _____.



- 7 На рисунке изображены график функции $y = f(x)$ и касательная к нему в точке с абсциссой x_0 . Найдите значение производной функции $f(x)$ в точке x_0 .



Ответ: _____.

- 8 Шар вписан в цилиндр. Площадь поверхности шара равна 78. Найдите площадь полной поверхности цилиндра.

Ответ: _____.

Не забудьте перенести все ответы в бланк ответов № 1.

Часть 2

- 9 Найдите значение выражения $\frac{6 \cos 207^\circ}{\cos 27^\circ}$.

Ответ: _____.

- 10 Независимое агентство намерено ввести рейтинг новостных интернет-изданий на основе показателей информативности In , оперативности Op , объективности Tr публикаций, а также качества Q сайта. Каждый отдельный показатель — целое число от -2 до 2 . Составители рейтинга считают, что объективность ценится вдвое, а информативность публикаций — втрое дороже, чем оперативность и качество сайта. Таким образом, формула приняла вид

$$R = \frac{3In + Op + 2Tr + Q}{A}.$$

Найдите, каким должно быть число A , чтобы издание, у которого все показатели максимальны, получило бы рейтинг 1.

Ответ: _____.

- 11 Из пункта А в пункт В одновременно выехали два автомобиля. Первый проехал с постоянной скоростью весь путь. Второй проехал первую половину пути со скоростью 44 км/ч, а вторую половину пути — со скоростью, на 21 км/ч большей скорости первого, в результате чего прибыл в В одновременно с первым автомобилем. Найдите скорость первого автомобиля. Ответ дайте в км/ч.

Ответ: _____.

- 12 Найдите наибольшее значение функции $y = x^3 + 6x^2 + 19$ на отрезке $[-6; -2]$.

Ответ: _____.



Не забудьте перенести все ответы в бланк ответов № 1 в соответствии с инструкцией по выполнению работы.
Проверьте, чтобы каждый ответ был записан в строке с номером соответствующего задания.

Для записи решений и ответов на задания 13–19 используйте БЛАНК ОТВЕТОВ № 2. Запишите сначала номер выполняемого задания (13, 14 и т. д.), а затем полное обоснованное решение и ответ. Ответы записывайте чётко и разборчиво.

13 а) Решите уравнение $(16^{\sin x})^{\cos x} = \left(\frac{1}{4}\right)^{\sqrt{5} \sin x}$.

б) Найдите все корни этого уравнения, принадлежащие отрезку $\left[2\pi; \frac{7\pi}{2}\right]$.

14 Площадь основания $ABCD$ правильной четырёхугольной пирамиды $SABCD$ равна 64, а площадь сечения пирамиды плоскостью SAC равна $32\sqrt{3}$.

а) Докажите, что угол между плоскостью основания пирамиды и боковым ребром равен 60° .

б) Найдите площадь боковой поверхности пирамиды.

15 Решите неравенство $\frac{3}{(2^2 - x^2 - 1)^2} - \frac{4}{2^2 - x^2 - 1} + 1 \geq 0$.

16 Медианы AA_1 , BB_1 и CC_1 треугольника ABC пересекаются в точке M . Точки A_2 , B_2 и C_2 — середины отрезков MA , MB и MC соответственно.

а) Докажите, что площадь шестиугольника $A_1B_2C_1A_2B_1C_2$ вдвое меньше площади треугольника ABC .

б) Найдите сумму квадратов всех сторон этого шестиугольника, если известно, что $AB = 4$, $BC = 7$ и $AC = 8$.

17 31 декабря 2014 года Дмитрий взял в банке 4 290 000 рублей в кредит под 14,5% годовых. Схема выплаты кредита следующая — 31 декабря каждого следующего года банк начисляет проценты на оставшуюся сумму долга (то есть увеличивает долг на 14,5%), затем Дмитрий переводит в банк x рублей. Какой должна быть сумма x , чтобы Дмитрий выплатил долг двумя равными платежами (то есть за два года)?

18 Найдите все значения a , при каждом из которых уравнение

$$|x - a^2 + 4a - 2| + |x - a^2 + 2a + 3| = 2a - 5$$

имеет хотя бы один корень на отрезке $[5; 23]$.

19 Возрастающая конечная арифметическая прогрессия состоит из различных целых неотрицательных чисел. Математик вычислил разность между квадратом суммы всех членов прогрессии и суммой их квадратов. Затем математик добавил к этой прогрессии следующий её член и снова вычислил такую же разность.

а) Приведите пример такой прогрессии, если во второй раз разность оказалась на 40 больше, чем в первый раз.

б) Во второй раз разность оказалась на 1768 больше, чем в первый раз. Могла ли прогрессия сначала состоять из 13 членов?

в) Во второй раз разность оказалась на 1768 больше, чем в первый раз. Какое наибольшее количество членов могло быть в прогрессии сначала?



Проверьте, чтобы каждый ответ был записан рядом с номером соответствующего задания.

СИСТЕМА ОЦЕНИВАНИЯ ЭКЗАМЕНАЦИОННОЙ РАБОТЫ ПО МАТЕМАТИКЕ (профильный уровень)

Каждое из заданий 1–12 считается выполненными верно, если экзаменуемый дал верный ответ в виде целого числа или конечной десятичной дроби. Каждое верно выполненное задание оценивается 1 баллом.

Решения и критерии оценивания заданий 13–19

Количество баллов, выставленных за выполнение заданий 13–19, зависит от полноты решения и правильности ответа.

Общие требования к выполнению заданий с развёрнутым ответом: решение должно быть математически грамотным, полным; все возможные случаи должны быть рассмотрены. Методы решения, формы его записи и формы записи ответа могут быть разными. За решение, в котором обоснованно получен правильный ответ, выставляется максимальное количество баллов. Правильный ответ при отсутствии текста решения оценивается в 0 баллов.

Эксперты проверяют только математическое содержание представленного решения, а особенности записи не учитывают.

При выполнении задания могут использоваться без доказательства и ссылок любые математические факты, содержащиеся в учебниках и учебных пособиях, входящих в Федеральный перечень учебников, рекомендуемых к использованию при реализации имеющих государственную аккредитацию образовательных программ среднего общего образования.

РЕШЕНИЕ ЗАДАНИЙ

ВАРИАНТ 21

Часть 2

13 а) Решите уравнение $\cos x + \sqrt{\frac{2-\sqrt{2}}{2}} \cdot (\sin x + 1) = 0$.

б) Найдите его корни, принадлежащие отрезку $\left[-\frac{11\pi}{2}; -4\pi\right]$.

Решение.

а) Перейдём к системе

$$\begin{cases} \frac{2-\sqrt{2}}{2} \cdot (\sin x + 1) = \cos^2 x; \\ \cos x \leq 0, \end{cases}$$

Решим уравнение:

$$(2-\sqrt{2})(\sin x + 1) = 2\cos^2 x; \quad (2-\sqrt{2})\sin x + 2 - \sqrt{2} = 2 - 2\sin^2 x;$$

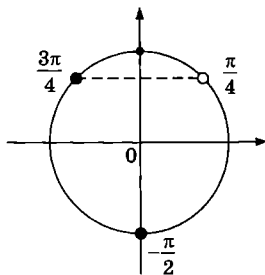
$$2\sin^2 x + (2-2\sqrt{2})\sin x - \sqrt{2} = 0; \quad \sin x = -1 \text{ или } \sin x = \frac{\sqrt{2}}{2}.$$

Следовательно,

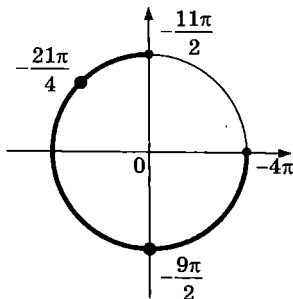
$$x = -\frac{\pi}{2} + 2\pi k, \quad k \in \mathbb{Z}, \quad x = \frac{\pi}{4} + 2\pi k, \quad k \in \mathbb{Z} \text{ или } x = \frac{3\pi}{4} + 2\pi k, \quad k \in \mathbb{Z}.$$

С помощью тригонометрической окружности отберём серии, удовлетворяющие условию $\cos x \leq 0$. Получим:

$$x = -\frac{\pi}{2} + 2\pi k, \quad k \in \mathbb{Z}; \quad x = \frac{3\pi}{4} + 2\pi k, \quad k \in \mathbb{Z}.$$



б) С помощью тригонометрической окружности отберём корни, принадлежащие отрезку $\left[-\frac{11\pi}{2}; -4\pi\right]$. Получим $x = -\frac{21\pi}{4}$, $x = -\frac{9\pi}{2}$.

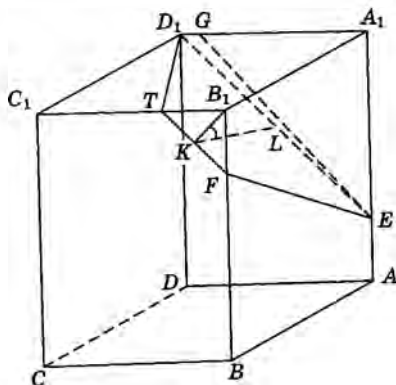


Ответ: а) $-\frac{\pi}{2} + 2\pi k, \quad k \in \mathbb{Z}; \quad \frac{3\pi}{4} + 2\pi k, \quad k \in \mathbb{Z};$ б) $-\frac{21\pi}{4}; -\frac{9\pi}{2}.$

Содержание критерия	Баллы
Обоснованно получены верные ответы в обоих пунктах	2
Обоснованно получен верный ответ в пункте а или в пункте б. ИЛИ Получен неверный ответ из-за вычислительной ошибки, но при этом имеется верная последовательность всех шагов решения	1
Решение не соответствует ни одному из критериев, перечисленных выше	0
Максимальный балл	2

- 14 На ребре AA_1 прямоугольного параллелепипеда $ABCD A_1 B_1 C_1 D_1$ взята точка E так, что $A_1 E : EA = 3 : 1$, на ребре BB_1 — точка F так, что $B_1 F : FB = 1 : 3$, а на ребре $B_1 C_1$ — точка T так, что $B_1 T : TC_1 = 1 : 2$. Известно, что $AB = 4$, $AD = 3$, $AA_1 = 4$.
- а) Докажите, что плоскость EFT проходит через вершину D_1 .
- б) Найдите угол между плоскостью EFT и плоскостью $BB_1 C_1$.

Решение.



- а) В плоскости $AA_1 D_1$ проведём через точку E прямую, параллельную TF . Пусть она пересекает ребро $A_1 D_1$ или его продолжение в точке G . Плоскость EFT проходит через точку G . Треугольник EGA_1 подобен равнобедренному треугольнику FTB_1 , в котором $FB_1 = B_1 T = 1$. Отсюда $EA_1 = A_1 G = 3$, значит, точка G совпадает с точкой D_1 .
- б) В плоскости $BB_1 C_1$ из точки B_1 опустим перпендикуляр $B_1 K$ на отрезок FT . В плоскости EFT из точки K проведём перпендикуляр к FT , который пересекает ED_1 в точке L . Тогда $\angle B_1 K L$ — угол между плоскостью EFT и плоскостью $BB_1 C_1$ или смежный с ним. Из равнобедренного треугольника $FB_1 T$ находим $B_1 K = \frac{FB_1 \cdot B_1 T}{FT} = \frac{\sqrt{2}}{2}$. Из равнобедренной трапеции $EFT D_1$ находим

$$KL = \sqrt{TD_1^2 - \left(\frac{ED_1 - FT}{2} \right)^2} = \sqrt{20 - \left(\frac{3\sqrt{2} - \sqrt{2}}{2} \right)^2} = 3\sqrt{2}.$$

Точка L — середина отрезка ED_1 , поэтому она удалена от сторон AA_1 и A_1D_1 параллелепипеда на $\frac{3}{2}$. Значит, B_1L является диагональю параллелепипеда со сторонами $\frac{3}{2}$, $\frac{3}{2}$ и 4.

Отсюда $B_1L = \sqrt{\frac{41}{2}}$. Из теоремы косинусов для треугольника B_1KL находим

$$\cos \angle B_1KL = \frac{B_1K^2 + KL^2 - B_1L^2}{2 \cdot B_1K \cdot KL} = -\frac{1}{3}.$$

Ответ: б) $\arccos \frac{1}{3}$.

Содержание критерия	Баллы
Имеется верное доказательство утверждения пункта a , и обоснованно получен верный ответ в пункте b	2
Верно доказан пункт a . ИЛИ Верно решён пункт b при отсутствии обоснований в пункте a	1
Решение не соответствует ни одному из критериев, перечисленных выше	0
Максимальный балл	2

15 Решите неравенство $\sqrt[5]{32^{4x-3}} < \sqrt[4]{16^{\frac{2x+1}{x}}}$.

Решение.

Преобразуем неравенство:

$$2^{4x-3} < 2^{\frac{4x+2}{x}}; \quad 4x-3 < \frac{4x+2}{x}; \quad \frac{4x^2-3x}{x} < \frac{4x+2}{x}; \quad \frac{4x^2-7x-2}{x} < 0; \quad \frac{(4x+1)(x-2)}{x} < 0.$$

Применяя метод интервалов, получаем решение: $x < -\frac{1}{4}$ или $0 < x < 2$.

Ответ: $x < -\frac{1}{4}$, $0 < x < 2$.

Содержание критерия	Баллы
Обоснованно получен верный ответ	2
Решение содержит вычислительную ошибку, возможно, приведшую к неверному ответу, но при этом имеется верная последовательность всех шагов решения	1
Решение не соответствует ни одному из критериев, перечисленных выше	0
Максимальный балл	2

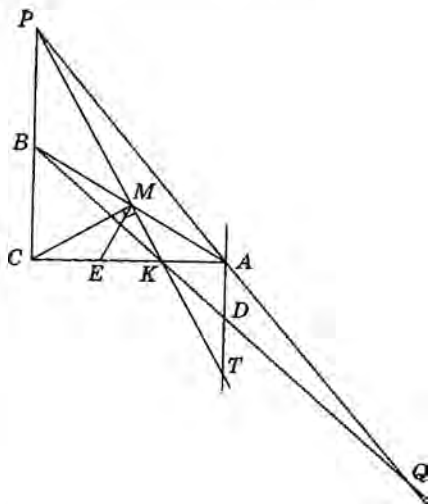
- 16** Прямая, проходящая через середину M гипотенузы AB прямоугольного треугольника ABC , перпендикулярна CM и пересекает катет AC в точке K . При этом $AK : KC = 1 : 2$.
- а) Докажите, что $\angle BAC = 30^\circ$.
- б) Пусть прямые MK и BC пересекаются в точке P , а прямые AP и BK — в точке Q . Найдите KQ , если $BC = 3\sqrt{2}$.

Решение.

а) Пусть E — середина KC . Тогда ME — медиана прямоугольного треугольника CMK , проведённая из вершины прямого угла. Значит,

$$ME = \frac{1}{2}CK = AK = \frac{1}{2}AE.$$

Следовательно, $\angle A = 30^\circ$.



б) Из прямоугольных треугольников ABC и KBC находим, что

$$AC = BC \operatorname{ctg} 30^\circ = 3\sqrt{2} \cdot \sqrt{3} = 3\sqrt{6}.$$

$$BK = \sqrt{BC^2 + \left(\frac{2}{3}AC\right)^2} = \sqrt{18 + 24} = \sqrt{42}.$$

Через вершину A проведём прямую, параллельную BC . Пусть T — точка пересечения этой прямой с прямой MK , D и Q — точки пересечения прямой BK с прямыми AT и AP соответственно.

Из равенства треугольников AMT и BMP получаем, что $AT = BP$, а из подобия треугольников CKP и AKT следует $CP = 2AT = 2BP$. Значит, B — середина CP .

Треугольник AKD подобен треугольнику CKB с коэффициентом $\frac{1}{2}$, поэтому

$AD = \frac{1}{2}BC = \frac{1}{2}BP$, а так как AD параллельна BP , AD — средняя линия треугольника BQP . Значит,

$$BQ = 2DB = 2 \cdot \frac{3}{2}BK = 2 \cdot \frac{3}{2} \cdot \sqrt{42} = 3\sqrt{42}.$$

Следовательно,

$$KQ = BQ - BK = 3\sqrt{42} - \sqrt{42} = 2\sqrt{42}.$$

Ответ: $2\sqrt{42}$.

Содержание критерия	Баллы
Имеется верное доказательство утверждения пункта <i>a</i> и обоснованно получен верный ответ в пункте <i>b</i>	3
Обоснованно получен верный ответ в пункте <i>b</i> . ИЛИ Имеется верное доказательство утверждения пункта <i>a</i> и при обоснованном решении пункта <i>b</i> получен неверный ответ из-за арифметической ошибки	2
Имеется верное доказательство утверждения пункта <i>a</i> . ИЛИ При обоснованном решении пункта <i>b</i> получен неверный ответ из-за арифметической ошибки. ИЛИ Обоснованно получен верный ответ в пункте <i>b</i> с использованием утверждения пункта <i>a</i> , при этом пункт <i>a</i> не выполнен	1
Решение не соответствует ни одному из критериев, перечисленных выше	0
Максимальный балл	3

17 15 января планируется взять кредит в банке на 5 месяцев. Условия его возврата таковы:

- 1-го числа каждого месяца долг возрастает на 5% по сравнению с концом предыдущего месяца;
- со 2-го по 14-е число каждого месяца необходимо выплатить часть долга;
- 15-го числа каждого месяца долг должен быть на одну и ту же сумму меньше долга на 15-е число предыдущего месяца.

Сколько процентов от суммы кредита составляет общая сумма денег, которую нужно выплатить банку за весь срок кредитования?

Решение.

Пусть сумма кредита равна S . По условию, долг перед банком по состоянию на 15-е число должен уменьшаться до нуля равномерно:

$$S, \frac{4S}{5}, \frac{3S}{5}, \frac{2S}{5}, \frac{S}{5}, 0.$$

Первого числа каждого месяца долг возрастает на 5%, значит, последовательность размеров долга по состоянию на 1-е число такова:

$$1,05S, 1,05 \cdot \frac{4S}{5}, 1,05 \cdot \frac{3S}{5}, 1,05 \cdot \frac{2S}{5}, 1,05 \cdot \frac{S}{5}.$$

Следовательно, выплаты должны быть следующими:

$$0,05S + \frac{S}{5}, \frac{4 \cdot 0,05S + S}{5}, \frac{3 \cdot 0,05S + S}{5}, \frac{2 \cdot 0,05S + S}{5}, \frac{0,05S + S}{5}.$$

Всего следует выплатить

$$S + S \cdot 0,05 \left(1 + \frac{4}{5} + \dots + \frac{1}{5} \right) = S \left(1 + \frac{6 \cdot 0,05}{2} \right) = 1,15S.$$

Значит, банку нужно вернуть 115% от суммы кредита.

Ответ: 115.

Содержание критерия	Баллы
Обоснованно получен верный ответ	3
Верно построена математическая модель, решение сведено к исследованию этой модели, получен неверный ответ из-за вычислительной ошибки	2
Верно построена математическая модель и решение сведено к исследованию этой модели, при этом решение не завершено	1
Решение не соответствует ни одному из критериев, перечисленных выше	0
<i>Максимальный балл</i>	3

- 18 Найдите все значения a , при каждом из которых уравнение

$$(x^2 + x + 2a^2 + 1)^2 = 8a^2(x^2 + x + 1)$$

имеет ровно один корень.

Решение.

Сделаем замену: $y = x^2 + x + 1$. Получим уравнение для y :

$$(y + 2a^2)^2 = 8a^2y;$$

$$y^2 + 4a^2y + 4a^4 - 8a^2y = 0;$$

$$(y - 2a^2)^2 = 0; y = 2a^2.$$

Вернёмся к переменной x : $x^2 + x + 1 - 2a^2 = 0$. Это уравнение имеет единственный корень в том и только том случае, когда его дискриминант равен 0:

$$1 - 4(1 - 2a^2) = 0; 8a^2 - 3 = 0; a = \pm \sqrt{\frac{8}{3}} = \pm \frac{2\sqrt{6}}{3}.$$

Ответ: $a = \pm \frac{2\sqrt{6}}{3}$.

Содержание критерия	Баллы
Обоснованно получен верный ответ	4
С помощью верного рассуждения получены все значения a , но ответ содержит лишнее значение	3
С помощью верного рассуждения получены все решения уравнения	2
Задача верно сведена к исследованию возможного значения корней уравнения	1
Решение не соответствует ни одному из критериев, перечисленных выше	0
<i>Максимальный балл</i>	4

- 19 Конечная возрастающая последовательность a_1, a_2, \dots, a_n состоит из $n \geq 3$ различных натуральных чисел, причём при всех натуральных $k \leq n - 2$ выполнено равенство $5a_{k+2} = 6a_{k+1} - a_k$.

а) Приведите пример такой последовательности при $n = 5$.

б) Может ли в такой последовательности при некотором $n \geq 3$ выполняться равенство $4a_n = 5a_2 - a_1$?

в) Какое наименьшее значение может принимать a_1 , если $a_n = 286$?

Решение.

а) Например, подходит последовательность 1, 126, 151, 156, 157.

б) При всех натуральных $k \leq n-1$ положим $b_k = a_{k+1} - a_k$. Тогда равенство $5a_{k+2} = 6a_{k+1} - a_k$ равносильно равенству $5b_{k+1} = b_k$. Следовательно, последовательность b_k

при $1 \leq k \leq n-1$ образует геометрическую прогрессию со знаменателем $q = \frac{1}{5}$.

Имеем $a_n = a_1 + b_1 + b_2 + \dots + b_{n-1} = a_1 + \frac{b_1(1-q^{n-1})}{1-q} < a_1 + \frac{b_1}{1-q} = a_1 + \frac{5}{4}b_1 = \frac{5}{4}a_2 - \frac{1}{4}a_1$. Значит, равенство $4a_n = 5a_2 - a_1$ ни при каком $n \geq 3$ выполняться не может.

в) Как доказано в решении пункта б, последовательность $b_k = a_{k+1} - a_k$ при $1 \leq k \leq n-1$ образует геометрическую прогрессию со знаменателем $q = \frac{1}{5}$. Имеем

$286 = a_n = a_1 + \frac{b_1(1-q^{n-1})}{1-q} = a_1 + \frac{b_1(5^{n-1}-1)}{2 \cdot 5^{n-2}}$. Следовательно, b_1 делится на 5^{n-2} , а a_1 даёт при

делении на $\frac{5^{n-1}-1}{2}$ тот же остаток, что и число 286. Так как $5^4 = 625 > 286 > b_1 \geq 5^{n-2}$, по-

лучаем, что $n \leq 5$. Остатки при делении числа 286 на $\frac{5^2-1}{4} = 6$, $\frac{5^3-1}{4} = 31$, $\frac{5^4-1}{4} = 156$,

$\frac{5^5-1}{4} = 781$ соответственно равны 4, 7, 130 и 286. Значит, a_1 не может быть меньше 4.

Пример последовательности 4, 239, 286 показывает, что a_1 может равняться 4.

Ответ: а) например, последовательность 1, 126, 151, 156, 157; б) нет; в) 4.

Содержание критерия	Баллы
Получены верные обоснованные ответы в пунктах а, б и в	4
Получены верные обоснованные ответы в пунктах а и б, либо получены верные обоснованные ответы в пунктах а и в	3
Получен верный обоснованный ответ в пункте б, пункты а и в не решены, либо получен верный обоснованный ответ в пункте в, пункты а и б не решены	2
Приведён пример в пункте а, пункты б и в не решены	1
Решение не соответствует ни одному из критериев, перечисленных выше	0
Максимальный балл	4

Часть 2

13 а) Решите уравнение $(3^x - 6)^2 - 16|3^x - 6| = 15 - 2 \cdot 3^{x+1}$.

б) Укажите корни этого уравнения, принадлежащие отрезку $[1; 2]$.

Решение.

Преобразуем уравнение:

$$(3^x - 6)^2 - 16|3^x - 6| + 6(3^x - 6) + 21 = 0.$$

Пусть $3^x - 6 = t$.

а) При $t \geq 0$ получаем $t^2 - 10t + 21 = 0$, откуда $t = 3$ или $t = 7$, следовательно, $x = 2$ или $x = \log_3 13$.

При $t < 0$ получаем $t^2 + 22t + 21 = 0$, откуда $t = -1$ или $t = -21$, следовательно, $x = \log_3 5$.

б) Поскольку $1 = \log_3 3 < \log_3 5 < \log_3 9 = 2 < \log_3 13$, отрезку $[1; 2]$ принадлежат только корни $\log_3 5, 2$.

Ответ: а) $\log_3 5, 2, \log_3 13$; б) $\log_3 5, 2$.

Содержание критерия	Баллы
Обоснованно получены верные ответы в обоих пунктах	2
Обоснованно получен верный ответ в пункте а или в пункте б. ИЛИ Получен неверный ответ из-за вычислительной ошибки, но при этом имеется верная последовательность всех шагов решения	1
Решение не соответствует ни одному из критериев, перечисленных выше	0
Максимальный балл	2

14 Основанием правильной треугольной пирамиды $МABC$ служит правильный треугольник ABC со стороной 6. Ребро $МА$ перпендикулярно грани $МBC$. Через вершину пирамиды $М$ и середины ребер AC и BC проведена плоскость α .

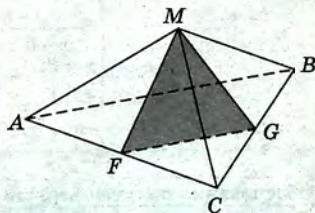
а) Докажите, что сечение пирамиды плоскостью α является равносторонним треугольником.

б) Найдите расстояние от вершины C до плоскости α .

Решение.

а) Обозначим F и G середины сторон AC и BC соответственно (см. рисунок).

Из условия следует, что треугольник AMC прямоугольный с прямым углом при вершине M . Поскольку пирамида правильная, все боковые грани — прямоугольные равнобедренные треугольники. Отрезок MF — медиана прямоугольного треугольника AMC , проведенная к гипотенузе, поэтому $MF = \frac{6}{2} = 3$. Аналогично, $MG = 3$. Кроме того, $FG = 3$, поскольку FG —



средняя линия равностороннего треугольника ABC со стороной 6. Таким образом, все стороны треугольника FMG равны.

б) Искомое расстояние r найдём как высоту треугольной пирамиды $CMFG$, считая основанием сечение MFG . Объём этой пирамиды равен четверти объёма пирамиды $MABC$:

$$V_{CMFG} = \frac{1}{4} V_{MABC} = \frac{1}{4} \cdot \frac{1}{6} \cdot AM \cdot BM \cdot CM = \frac{1}{24} \left(\frac{6\sqrt{2}}{2} \right)^3 = \frac{9\sqrt{2}}{4}.$$

$$\text{С другой стороны, } V_{CMFG} = \frac{1}{3} S_{MFG} \cdot r = \frac{1}{3} \cdot \frac{3^2 \sqrt{3}}{4} \cdot r = \frac{3r\sqrt{3}}{4}.$$

$$\text{Получаем: } \frac{3r\sqrt{3}}{4} = \frac{9\sqrt{2}}{4}, \text{ откуда } r = \sqrt{6}.$$

Ответ: 6) $\sqrt{6}$.

Содержание критерия	Баллы
Имеется верное доказательство утверждения пункта a , и обоснованно получен верный ответ в пункте b	2
Верно доказан пункт a . ИЛИ Верно решён пункт b при отсутствии обоснований в пункте a	1
Решение не соответствует ни одному из критериев, перечисленных выше	0
Максимальный балл	2

15 Решите неравенство $\frac{1}{\log_{(x-1)} \frac{x}{6}} \geq -1$.

Решение.

Перейдём к десятичным логарифмам:

$$\frac{1}{\log_{(x-1)} \frac{x}{6}} \geq -1; \begin{cases} \frac{\lg(x-1) + \lg \frac{x}{6}}{\lg \frac{x}{6}} \geq 0, \\ x \neq 2 \end{cases}$$

$$\begin{cases} \frac{\lg(x-1) + \lg \frac{x}{6}}{\lg \frac{x}{6}} \geq 0, \\ x \neq 2 \end{cases} \begin{cases} \frac{(x-1) \frac{x}{6} - 1}{\frac{x}{6} - 1} \geq 0, \\ x \neq 2, \\ x > 1 \end{cases} \begin{cases} \frac{(x-1)x - 6}{x - 6} \geq 0, \\ x \neq 2, \\ x > 1 \end{cases}$$

$$\begin{cases} \frac{x^2 - x - 6}{x - 6} \geq 0, \\ x \neq 2, \\ x > 1 \end{cases} \begin{cases} \frac{(x+2)(x+3)}{x - 6} \geq 0, \\ x \neq 2, \\ x > 1 \end{cases} \begin{cases} \frac{x - 3}{x - 6} \geq 0, \\ x \neq 2, \\ x > 1 \end{cases} \begin{cases} 1 < x < 2; \\ 2 < x \leq 3; \\ x > 6. \end{cases}$$

Ответ: (1; 2), (2; 3], (6; $+\infty$).

Содержание критерия	Баллы
Обоснованно получен верный ответ	2
Решение содержит вычислительную ошибку, возможно, приведшую к неверному ответу, но при этом имеется верная последовательность всех шагов решения	1
Решение не соответствует ни одному из критериев, перечисленных выше	0
Максимальный балл	2

- 16 Окружность с центром O , вписанная в прямоугольный треугольник ABC , касается гипотенузы AB в точке M , а катета AC — в точке N , $AC < BC$. Прямые MN и CO пересекаются в точке K .

а) Докажите, что угол CKN в два раза меньше угла ABC .

б) Найдите BK , если $BC = 3\sqrt{2}$.

Решение.

а) Центр окружности, вписанной в треугольник, совпадает с точкой пересечения его биссектрис, поэтому лучи BO и CO — биссектрисы углов ABC и ACB .

Пусть $\angle ABC = 2\alpha$. Тогда $\angle BAC = 90^\circ - 2\alpha$. Из равнобедренного треугольника AMN находим, что

$$\angle ANM = \frac{1}{2}(180^\circ - \angle BAC) = \frac{1}{2}(180^\circ - (90^\circ - 2\alpha)) = 45^\circ + \alpha.$$

По теореме о внешнем угле треугольника

$$\angle CKN = \angle ANM - \angle NCK = 45^\circ + \alpha - 45^\circ = \alpha = \frac{1}{2}\angle ABC.$$

Что и требовалось доказать.

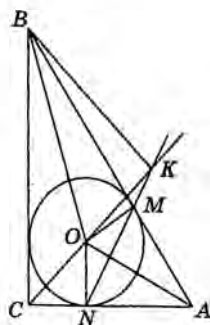
б) Пусть r — радиус вписанной окружности. Треугольник CKN подобен треугольнику CBO . Следовательно,

$$\frac{BC}{CK} = \frac{CO}{CN} = \frac{r\sqrt{2}}{r} = \sqrt{2}, \quad CK = \frac{BC}{\sqrt{2}} = 3.$$

Из треугольника CBK по теореме косинусов находим

$$BK^2 = CB^2 + CK^2 - 2CB \cdot CK \cos \angle KCB = (3\sqrt{2})^2 + 3^2 - 2 \cdot 3 \cdot 3\sqrt{2} \cdot \cos 45^\circ = 3^2.$$

Ответ: 3.



Содержание критерия	Баллы
Имеется верное доказательство утверждения пункта а и обоснованно получен верный ответ в пункте б	3
Обоснованно получен верный ответ в пункте б. ИЛИ Имеется верное доказательство утверждения пункта а и при обоснованном решении пункта б получен неверный ответ из-за арифметической ошибки	2
Имеется верное доказательство утверждения пункта а. ИЛИ При обоснованном решении пункта б получен неверный ответ из-за арифметической ошибки. ИЛИ Обоснованно получен верный ответ в пункте б с использованием утверждения пункта а, при этом пункт а не выполнен	1
Решение не соответствует ни одному из критериев, перечисленных выше	0
Максимальный балл	3

- 17** По вкладу «А» банк в конце каждого года планирует увеличивать на 14% сумму, имеющуюся на вкладе в начале года, а по вкладу «Б» — увеличивать эту сумму на 8% в первый год и на целое число n процентов за второй год. Найдите наименьшее значение n , при котором за два года хранения вклад «Б» окажется выгоднее вклада «А» при одинаковых суммах первоначальных взносов.

Решение.

Пусть на каждый тип вклада была внесена одинаковая сумма S . На вкладе «А» каждый год сумма увеличивается на 14%, то есть увеличивается в 1,14 раза. Поэтому через два года сумма на вкладе «А» будет равна

$$1,14^2 S = 1,2996S.$$

Аналогично сумма на вкладе «Б» будет равна

$$1,08 \cdot \left(1 + \frac{n}{100}\right) S,$$

где n — некоторое натуральное число процентов.

По условию требуется найти наименьшее натуральное решение неравенства

$$1,08 \cdot \left(1 + \frac{n}{100}\right) S > 1,2996S;$$

$$\left(1 + \frac{n}{100}\right) > \frac{1,2996}{1,08} = 1,203 \dots$$

При $n = 21$ неравенство

$$1,21 > 1,203 \dots$$

верно, а при $n = 20$ неравенство

$$1,20 > 1,203 \dots$$

неверно, как и при всех меньших n .

Ответ: 21.

Содержание критерия	Баллы
Обоснованно получен верный ответ	3
Верно построена математическая модель, решение сведено к исследованию этой модели, получен неверный ответ из-за вычислительной ошибки	2
Верно построена математическая модель и решение сведено к исследованию этой модели, при этом решение не завершено	1
Решение не соответствует ни одному из критериев, перечисленных выше	0
<i>Максимальный балл</i>	3

- 18** Найдите все значения a , при каждом из которых уравнение

$$\sin \sqrt{ax - x^2 - \pi^2} + \cos 2\sqrt{ax - x^2 - \pi^2} = 0$$

имеет ровно два решения.

Решение.

Сделаем замену: $y = \sqrt{ax - x^2 - \pi^2}$. Получаем:

$$\sin y + \cos 2y = 0; \quad 2 \sin^2 y - \sin y - 1 = 0,$$

откуда $\sin y = 1$ или $\sin y = -\frac{1}{2}$.

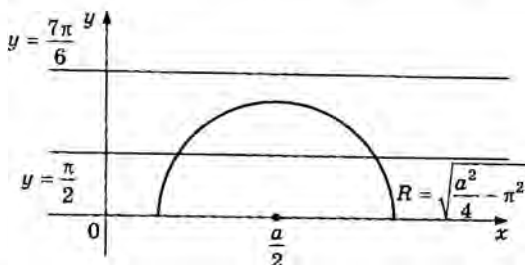
Тогда $y = \frac{\pi}{2} + 2\pi n$, $y = \frac{7\pi}{6} + 2\pi n$ или $y = \frac{11\pi}{6} + 2\pi n$, $n \in \mathbb{Z}$.

При $y \geq 0$ на координатной плоскости эти уравнения определяют множество горизонтальных прямых. Две самые близкие к оси абсцисс прямые имеют уравнения $y = \frac{\pi}{2}$ и $y = \frac{7\pi}{6}$.

Уравнение $y = \sqrt{ax - x^2 - \pi^2}$ запишем в виде

$$y = \sqrt{\frac{a^2}{4} - \pi^2 - \left(x - \frac{a}{2}\right)^2}.$$

Получилось уравнение полуокружности радиусом $\sqrt{\frac{a^2}{4} - \pi^2}$ с центром, лежащим на оси абсцисс.



Данное уравнение имеет ровно два решения, если полуокружность пересекает прямую $y = \frac{\pi}{2}$, но не имеет общих точек с прямой $y = \frac{7\pi}{6}$. Запишем и решим неравенство:

$$\frac{\pi}{2} < \sqrt{\frac{a^2}{4} - \pi^2} < \frac{7\pi}{6}; \quad \frac{\pi^2}{4} < \frac{a^2}{4} - \pi^2 < \frac{49\pi^2}{36}; \quad 5\pi^2 < a^2 < \frac{85\pi^2}{9},$$

откуда $-\frac{\sqrt{85}\pi}{3} < a < -\sqrt{5}\pi$ или $\sqrt{5}\pi < a < \frac{\sqrt{85}\pi}{3}$.

Ответ: $-\frac{\sqrt{85}\pi}{3} < a < -\sqrt{5}\pi$ или $\sqrt{5}\pi < a < \frac{\sqrt{85}\pi}{3}$.

Содержание критерия	Баллы
Обоснованно получен верный ответ	4
С помощью верного рассуждения получены все значения a , но ответ содержит лишнее значение	3
С помощью верного рассуждения получены все решения уравнения	2
Задача верно сведена к исследованию возможного значения корней уравнения	1
Решение не соответствует ни одному из критериев, перечисленных выше	0
Максимальный балл	4

19 У Бори нет источника воды, но есть три ведра различных объёмов, в двух из которых есть вода. За один шаг Боря переливает воду из ведра, в котором она есть, в другое ведро. Переливание заканчивается в тот момент, когда или первое ведро опустеет, или второе ведро заполнится. Выливать воду из вёдер запрещается.

а) Мог ли Боря через несколько шагов получить в одном из вёдер ровно 2 литра воды, если сначала у него были ведра объёмами 4 литра и 7 литров, полные воды, а также пустое ведро объёмом 8 литров?

б) Мог ли Боря через несколько шагов получить равные объёмы воды во всех вёдрах, если сначала у него были ведра объёмами 5 литров и 7 литров, полные воды, а также пустое ведро объёмом 10 литров?

в) Сначала у Бори были ведра объёмами 3 литра и 6 литров, полные воды, а также пустое ведро объёмом n литров. Какое наибольшее натуральное значение может принимать n , если известно, что, как бы ни старался Боря, он не сможет получить через несколько шагов ровно 4 литра воды в одном из вёдер?

Решение.

а) Пусть запись (k, l, m) означает, что в ведрах объёмами 4, 7 и 8 литров находится k, l и m литров воды соответственно. Тогда Боря мог действовать так, чтобы объёмы воды в вёдрах были последовательно $(4, 7, 0)$, $(0, 7, 4)$, $(0, 3, 8)$, $(3, 0, 8)$, $(3, 7, 1)$, $(4, 6, 1)$, $(0, 6, 5)$ и $(4, 2, 5)$. Во втором ведре после нескольких шагов оказалось 2 литра воды.

б) После каждого переливания либо одно из вёдер становится пустым, либо одно из вёдер становится полным. Если во всех вёдрах оказались равные объёмы воды, то в каждом из них по 4 литра. Значит, ни одно из вёдер не пусто и не полно. Пришли к противоречию.

в) Если $n \geq 9$, то объём третьего ведра не меньше, чем общий объём воды у Бори. В этом случае все возможные записи состояний объёмов воды в вёдрах это $(3, 6, 0)$, $(0, 6, 3)$, $(3, 0, 6)$, $(0, 3, 6)$, $(3, 3, 3)$ и $(0, 0, 9)$. Получить другое состояние невозможно, так как в вёдрах всегда оказываются объёмы воды в литрах, кратные 3.

Приведём пример последовательных состояний для подходящих под условие переливаний в случае $n = 8$: $(3, 6, 0)$, $(3, 0, 6)$, $(1, 0, 8)$, $(1, 6, 2)$, $(3, 4, 2)$.

Этот пример показывает, что наибольшее натуральное значение может принимать n — это 8.

Ответ: а) Да. б) Нет. в) 8.

Содержание критерия	Баллы
Получены верные обоснованные ответы в пунктах а, б и в	4
Получены верные обоснованные ответы в пунктах а и б, либо получены верные обоснованные ответы в пунктах а и в	3
Получен верный обоснованный ответ в пункте б, пункты а и в не решены, либо получен верный обоснованный ответ в пункте в, пункты а и б не решены	2
Приведён пример в пункте а, пункты б и в не решены	1
Решение не соответствует ни одному из критериев, перечисленных выше	0
Максимальный балл	4

ОТВЕТЫ

Вариант 1

1	2	3	4	5	6	7	8	9	10	11	12
570	3	3,5	0,8	-13	17	-1	225	87	11	47	15

13	а) $-3; 4; 4 \pm \sqrt{14}$; б) $4; 4 + \sqrt{14}$
14	б) $\frac{25\sqrt{6}}{3}$
15	$-1 < x \leq -\frac{63}{64}$
16	7
17	1 064 800 рублей
18	$a = -\frac{107}{16}$
19	а) может; б) не может; в) $\frac{205}{103}$

Вариант 2

1	2	3	4	5	6	7	8	9	10	11	12
940	8	5	0,125	-1	77	-2	289	-13	15	26	19

13	а) $-7; 1; -5 \pm 2\sqrt{7}$; б) $-5 + 2\sqrt{7}; 1$
14	б) $\frac{208}{3}$
15	$-2 < x \leq -\frac{31}{16}$
16	12
17	1 036 800 рублей
18	$a = -\frac{25}{36}$
19	а) может; б) не может; в) $\frac{155}{53}$

Вариант 3

1	2	3	4	5	6	7	8	9	10	11	12
5720	4500	20	0,032	8	3	0,25	84	20	400	120	9

13	а) $2\pi n, \pm \arccos \frac{1}{6} + 2\pi m, n, m \in \mathbb{Z}$; б) $-2\pi - \arccos \frac{1}{6}; -2\pi; -2\pi + \arccos \frac{1}{6}$
14	б) $\frac{10}{7}$
15	$(-\infty; -2]; 0; [1; 5)$
16	289
17	119
18	$-\frac{9}{4} < a \leq -2$
19	а) например, последовательность 1, 28, 46, 58; б) нет; в) 2

Вариант 4

1	2	3	4	5	6	7	8	9	10	11	12
796,5	18 350	2,5	0,4	6	60	2	343	6	9,8	40	0,5

13	а) $-\frac{\pi}{6} + 2\pi k, k \in \mathbb{Z}$; б) $\frac{35\pi}{6}$
14	б) 1 : 2
15	$[\log_2 7; 6]$
16	$\frac{11 - 2\sqrt{10}}{3}$
17	300 000 рублей
18	$x = 0$ при $a = 4$
19	а) да, например, числа 7, 10 и 13; б) нет; в) $\frac{35}{24}$

Вариант 5

1	2	3	4	5	6	7	8	9	10	11	12
27	0,8	10,5	0,25	-20	71	6	4	12	1000	70	-18

13	а) -4; 0; б) 0
14	б) $\frac{21}{16}$
15	$(-6; -4], [4; +\infty)$
16	13
17	90 кг
18	$0 \leq k < \frac{4\sqrt{2}-2}{21}$ или $\frac{4\sqrt{2}-2}{21} < k \leq \frac{1}{3}$
19	а) да, например, числа 10, 11 и 15; б) нет; в) $\frac{25}{17}$

Вариант 6

1	2	3	4	5	6	7	8	9	10	11	12
11	8	39	0,26	-6	155	1	6	-22	8	15	7

13	а) $-\arctg 2 + \pi n$, $-\arctg 3 + \pi m$, $n, m \in \mathbb{Z}$; б) $-\pi - \arctg 2$, $-\pi - \arctg 3$
14	б) 1
15	$[-9; -2], (-2, -1), (-1, 0), (0; 7]$
16	1:15
17	6
18	$\left(-\infty; -\frac{9}{16}\right)$
19	а) например, подходит последовательность 2, 4, 5, 5, 4; б) нет; в) при $n = 82$

Вариант 7

1	2	3	4	5	6	7	8	9	10	11	12
17	6	3	0,8	42	34	21	34	2	7	10	-2

13	а) $x = \pi - \arctg \frac{4}{3} + 2\pi n$, $n \in \mathbb{Z}$; б) $3\pi - \arctg \frac{4}{3}$; $5\pi - \arctg \frac{4}{3}$
14	$2\sqrt{7}$
15	$[-4; -1], (-1, 0), (0, 1), (1; 4]$
16	9 : 7
17	1 066 500 рублей
18	$\left(\frac{1}{3}; +\infty\right)$
19	а) да; б) нет; в) 5

Вариант 8

1	2	3	4	5	6	7	8	9	10	11	12
8	80	288	0,2	-8	18	-4	4	50	15	31	-3

13	а) $\pm \frac{\pi}{3} + 2\pi k$, $k \in \mathbb{Z}$; б) $-\frac{11\pi}{3}$
14	60°
15	$(-2; -1] \cup (1; 2)$
16	$\frac{17 - 4\sqrt{13}}{3}$
17	1 620 000 рублей
18	$\frac{1}{6}; 2,5$
19	а) да; б) нет; в) 31

Вариант 9

1	2	3	4	5	6	7	8	9	10	11	12
176	6	8	0,5	11	8	2	10	2	90	4	1

13	a) $\pm \arccos \frac{2}{5} + 2\pi n$, $n \in \mathbb{Z}$; б) $-2\pi - \arccos \frac{2}{5}$, $-2\pi + \arccos \frac{2}{5}$
14	a) $2 : 3$; б) $\frac{4\sqrt{41}}{41}$
15	$(-4, 2; -3, 95]$, $[-0, 2; +\infty)$
16	1,92
17	12
18	$-\frac{1}{12} < a < 0$ или $0 < a < \frac{1}{12}$
19	а) нет; б) да; в) 12

Вариант 10

1	2	3	4	5	6	7	8	9	10	11	12
3	3	9	0,008	69	20	0,25	32	0,75	6000	9	9

13	a) $2\pi n$, $\pm \arccos \frac{1}{6} + 2\pi m$, $n, m \in \mathbb{Z}$; б) $-2\pi - \arccos \frac{1}{6}$; $-2\pi + \arccos \frac{1}{6}$; -2π
14	a) 13; б) $\frac{12}{5}$
15	$[\log_3 30; 4]$
16	$\frac{24}{5} \sqrt{6}$
17	104 500 рублей
18	$-\frac{9}{4} \leq a < 2$
19	а) да, например, если $a = 10$, $b = 20$, $c = 11$ и $d = 37$; б) нет; в) $\frac{79}{21}$

Вариант 11

1	2	3	4	5	6	7	8	9	10	11	12
16	-13,5	5	0,94	-22	7	17,5	82	10	4	20	7

13	a) $\frac{\pi}{4} + \frac{\pi}{2}n$, где $n \in \mathbb{Z}$; б) $\frac{13\pi}{4}$; $\frac{15\pi}{4}$; $\frac{17\pi}{4}$
14	б) $\frac{3\sqrt{3}}{2}$
15	$(-\infty; -4]$; $[-3; 0)$; $(0; 2)$
16	$\frac{3\sqrt{13}}{5}$
17	3
18	$\sqrt[3]{2,25} < a < 4$
19	а) нет; б) нет; в) да, например, 1, 5, 25, 2, 27

Вариант 12

1	2	3	4	5	6	7	8	9	10	11	12
19	4	4	0,97	-11	7	14	160	18	14,4	7	8

13	а) $\pm \frac{\pi}{6} + \pi n$, $n \in \mathbb{Z}$; б) $-\frac{11\pi}{6}$; $-\frac{7\pi}{6}$; $-\frac{5\pi}{6}$
14	б) 4
15	$(-2; 0)$; $\left(0; \frac{2}{3}\right]$; $[1; +\infty)$
16	$6\sqrt{13}$
17	2,5
18	$\frac{4}{9} < a < 1$
19	а) нет; б) нет; в) да, например, 1, 3, 9, 16, 5

Вариант 13

1	2	3	4	5	6	7	8	9	10	11	12
22	0,5	3	0,87	-52	14	21	42	-4	7,2	28	1

13	а) $\frac{\pi}{4} + \frac{\pi}{2}n$, где $n \in \mathbb{Z}$; б) $-\frac{5\pi}{4}$; $-\frac{3\pi}{4}$; $-\frac{\pi}{4}$
14	б) 4,5
15	$[-1,5; 0)$; $(0; 2]$; $(5; +\infty)$
16	$3\sqrt{13}$
17	1,5
18	$0 < a < \sqrt[3]{2,25}$; $a > 4$
19	а) нет; б) нет; в) да, например, 2, 3, 4, 10 и 25

Вариант 14

1	2	3	4	5	6	7	8	9	10	11	12
16	-4	2	0,91	-10	3	15	26	4	13,6	21	-5

13	а) $\frac{\pi}{4} + \frac{\pi}{2}n$, где $n \in \mathbb{Z}$; б) $\frac{9\pi}{4}$; $\frac{11\pi}{4}$; $\frac{13\pi}{4}$
14	б) 1
15	$(-\infty; -4)$; $\left[-\frac{11}{3}; -1\right]$
16	$\frac{12\sqrt{13}}{5}$
17	2
18	$0 < a < \frac{4}{9}$; $a > 1$
19	а) да, например, 12, 6, 3, 4, 2, 1, 2; б) нет; в) 11

Вариант 15

1	2	3	4	5	6	7	8	9	10	11	12
20	11	1	0,95	-23	15	15	28	-6	12,8	8	10

13	а) $\pm \frac{\pi}{6} + \pi n$, $n \in \mathbb{Z}$; б) $\frac{43\pi}{6}$; $\frac{47\pi}{6}$; $\frac{49\pi}{6}$
14	б) $\arcsin \frac{1}{3}$
15	$(-\infty; -2)$; $[-0,5; 0)$; $(0; 2]$
16	$\frac{6\sqrt{13}}{5}$
17	1
18	$\sqrt[3]{2,25} \leq a \leq 4$, $a = 0$
19	а) да, например, 8, 4, 2, 3, 4, 5; б) нет; в) 11

Вариант 16

1	2	3	4	5	6	7	8	9	10	11	12
11	9	6	0,0485	-1	28	6	1	5	55	50	-5

13	а) πk ; $\pm \frac{\pi}{6} + 2\pi k$, $k \in \mathbb{Z}$; б) $-\frac{13\pi}{6}$; -2π ; $-\frac{11\pi}{6}$
14	б) $\arcsin \frac{3\sqrt{14}}{32}$
15	$2 \leq x < \frac{2\sqrt{31}-1}{3}$
16	5,4
17	38 млн рублей
18	$4 < a < 4,5$; $4,5 < a$
19	а) например, подходит последовательность 7, 5, 4, 4, 5; б) нет; в) при $n = 26$

Вариант 17

1	2	3	4	5	6	7	8	9	10	11	12
15	20	15	0,039	-5	34	1	2	81	33	80	3

13	а) $\frac{\pi}{2} + \pi k$; $(-1)^k \frac{\pi}{4} + \pi k$, $k \in \mathbb{Z}$; б) $\frac{\pi}{2}$; $\frac{3\pi}{4}$; $\frac{3\pi}{2}$
14	б) $\arcsin \frac{12\sqrt{73}}{365}$
15	$2 \leq x < \frac{\sqrt{17}}{2}$
16	$3\sqrt{11}$
17	14,4 млн рублей
18	$-2 < a < -1,5$; $-1,5 < a$
19	а) например, подходит последовательность 5, 3, 2, 2, 3; б) нет; в) при $n = 20$

Вариант 18

1	2	3	4	5	6	7	8	9	10	11	12
7	700	12	0,0476	4	51	5	7	49	37	50	9

13	а) $\frac{\pi}{2} + \pi k$; $(-1)^k \frac{\pi}{3} + \pi k$, $k \in \mathbb{Z}$; б) $\frac{7\pi}{3}$; $\frac{5\pi}{2}$; $\frac{8\pi}{3}$
14	б) $\arcsin \frac{12\sqrt{65}}{325}$
15	$1 \leq x < \frac{2\sqrt{13}-4}{3}$
16	$\frac{3\sqrt{5}}{2}$
17	15,6 млн рублей
18	$a < 1,5$; $1,5 < a < 2$
19	а) например, подходит последовательность 7, 4, 2, 2, 1; б) нет; в) при $n = 28$

Вариант 19

1	2	3	4	5	6	7	8	9	10	11	12
13	13	84	0,0294	1	62	8	4	9	45	60	11

13	а) πk ; $\pm \frac{\pi}{3} + 2\pi k$, $k \in \mathbb{Z}$; б) -2π ; $-\frac{5\pi}{3}$; $-\frac{7\pi}{3}$
14	б) $\arcsin \frac{6\sqrt{34}}{85}$
15	$2 \leq x < \frac{2\sqrt{31}-5}{3}$
16	$3\sqrt{7}$
17	9 млн рублей
18	$8 < a < 8,5$; $8,5 < a$
19	а) например, подходит последовательность 7, 7, 6, 4, 1; б) нет; в) при $n = 24$

Вариант 20

1	2	3	4	5	6	7	8	9	10	11	12
27	10	63	0,078	5	85	4	9	121	32	40	-15

13	а) $\frac{\pi}{2} + \pi k$; $\pm \frac{\pi}{4} + 2\pi k$, $k \in \mathbb{Z}$; б) $\frac{9\pi}{4}$; $\frac{5\pi}{2}$
14	б) $\arcsin \frac{4\sqrt{253}}{161}$
15	$3 \leq x < \frac{\sqrt{89}-2}{2}$
16	4
17	17,88 млн рублей
18	$a < 5,5$; $5,5 < a < 6$
19	а) например, подходит последовательность 11, 7, 4, 2, 1; б) нет; в) при $n = 34$

Вариант 21

1	2	3	4	5	6	7	8	9	10	11	12
53	-6	17	0,5	-3	6	6	378	229	14	15	-12

13	а) $-\frac{\pi}{2} + 2\pi k, k \in \mathbb{Z}; \frac{3\pi}{4} + 2\pi k, k \in \mathbb{Z};$ б) $-\frac{21\pi}{4}; -\frac{9\pi}{2}$
14	б) $\arccos \frac{1}{3}$
15	$x < -\frac{1}{4}, 0 < x < 2$
16	$2\sqrt{42}$
17	115
18	$a = \pm \frac{2\sqrt{6}}{3}$
19	а) например, последовательность 1, 126, 151, 156, 157; б) нет; в) 4

Вариант 22

1	2	3	4	5	6	7	8	9	10	11	12
89	140 000	12	0,116	-6	4	8	315	157	16	20	-14

13	а) $-\frac{\pi}{2} + 2\pi k, k \in \mathbb{Z}; \frac{\pi}{6} + 2\pi k, k \in \mathbb{Z};$ б) $\frac{7\pi}{2}; \frac{25\pi}{6}$
14	б) $\arccos \frac{\sqrt{33}}{33}$
15	$x < -1, -\frac{2}{5} < x < 0$
16	$8\sqrt{14}$
17	116
18	$a = \pm \frac{\sqrt{26}}{4}$
19	а) например, последовательность 1, 49, 73, 85, 91, 94; б) нет; в) 2

Вариант 23

1	2	3	4	5	6	7	8	9	10	11	12
94	650 000	14	0,25	-3	12	4	104	229	7	5	-11

13	а) $2\pi k, k \in \mathbb{Z}; -\frac{\pi}{3} + 2\pi k, k \in \mathbb{Z};$ б) $-\frac{19\pi}{3}; -6\pi$
14	б) $\arccos \frac{3\sqrt{59}}{59}$
15	$-5 < x < -1, x > \frac{3}{2}$
16	$16\sqrt{7}$
17	118
18	$a = \pm 3 \frac{\sqrt{2}}{2}$
19	а) например, последовательность 1, 257, 321, 337, 341; б) нет; в) 3

Вариант 24

1	2	3	4	5	6	7	8	9	10	11	12
79	10	21	0,25	-13	8	2	361	634	33	10	-25

13	а) $2\pi k, k \in \mathbb{Z}; \frac{2\pi}{3} + 2\pi k, k \in \mathbb{Z};$ б) $2\pi; \frac{8\pi}{3}$
14	б) $\arccos \frac{\sqrt{22}}{11}$
15	$\frac{1}{3} < x < 1, x > 3$
16	$28\sqrt{3}$
17	113,5
18	$a = \pm \frac{\sqrt{33}}{2}$
19	а) например, последовательность 1, 433, 505, 517, 519; б) нет; в) 5

Вариант 25

1	2	3	4	5	6	7	8	9	10	11	12
145	2	33	0,167	-15	6	5	456	562	27	30	-17

13	а) $-\frac{\pi}{6} + 2\pi k, k \in \mathbb{Z}; \pi + 2\pi k, k \in \mathbb{Z};$ б) $-\frac{25\pi}{6}; -5\pi$
14	б) $\arccos \frac{\sqrt{19}}{19}$
15	$x < -3, 1 < x < \frac{3}{2}$
16	$14\sqrt{6}$
17	115
18	$a = \pm \frac{\sqrt{2}}{2}$
19	а) например, последовательность 1, 344, 393, 400, 401; б) нет; в) 6

Вариант 26

1	2	3	4	5	6	7	8	9	10	11	12
4	5	6	0,58	-0,4	122	0,25	4	2	2	140	-17

13	а) $2 \pm \sqrt{5};$ б) $2 - \sqrt{5}$
14	б) 0,5
15	$(-\infty; 1], (2; 3)$
16	98
17	44 000 рублей
18	$\frac{1}{2} < k < \frac{2 + \sqrt{2}}{2}$ или $k > \frac{2 + \sqrt{2}}{2}$
19	а) 7; б) 5002; в) 5054

Вариант 27

1	2	3	4	5	6	7	8	9	10	11	12
63	28	17	0,505	7	1	5	49	-0,75	17,67	21	-2

13	а) $-\frac{\pi}{2} + 2\pi n$, $(-1)^{n+1} \arcsin \frac{2}{3} + \pi n$, $n, m \in \mathbb{Z}$; б) $\frac{3\pi}{2}$, $2\pi - \arcsin \frac{2}{3}$, $\pi + \arcsin \frac{2}{3}$
14	б) 3 : 4
15	$(-\infty; 2]; [3; +\infty)$
16	19
17	2 034 000 рублей
18	$x = 0$ при $a = 0$ или $a = 1$
19	а) например, 54 и 63; б) нет; в) 117 или 119

Вариант 28

1	2	3	4	5	6	7	8	9	10	11	12
7	3	5	0,17	11	21	7	6	5	12	53	44

13	а) $2 \pm \sqrt{6}$; б) $2 - \sqrt{6}$
14	а) 1 : 6; б) $\arctg \frac{4\sqrt{2}}{3}$
15	$(2; 3]$
16	$4\sqrt{2}$
17	6 330 000 рублей
18	$(-9; -2]; [3; +\infty)$
19	а) например, 15 раз число 19 и число 78; б) нет; в) 1650

Вариант 29

1	2	3	4	5	6	7	8	9	10	11	12
8	20750	12	0,5	2	36	10	160	2	25	6	16

13	а) $(-1)^{n+1} \frac{\pi}{6} + \pi n$, $n \in \mathbb{Z}$; б) $-\frac{17\pi}{6}$, $-\frac{13\pi}{6}$
14	б) 192
15	$[-2; 2]$
16	4 : 21
17	3
18	$a = 2$
19	а) да; б) нет; в) $38\frac{1}{7}$

Вариант 30

1	2	3	4	5	6	7	8	9	10	11	12
15	600	30	0,25	-2	42	0,75	6	-2	6	84	17

13	а) 0; 4; б) 0
14	б) 2
15	$(-4; -3), (-1; 3)$
16	1:10
17	240 кг
18	$\left(-1 - \frac{\sqrt{30}}{4}; -\frac{3}{8}\right); \left[-\frac{\sqrt{2}}{4}; \frac{\sqrt{2}}{4}\right)$
19	а) да, например, числа 4, 5 и 8; б) нет; в) $\frac{28}{19}$

Вариант 31

1	2	3	4	5	6	7	8	9	10	11	12
34 500	19	2	3,5	15	60	6	2	-0,5	8	60	9

13	а) 1; $\log_4 5$; $\log_4 9$; $\log_4 20$; б) $\log_4 20$
14	б) $\arcsin \frac{\sqrt{6}}{3}$
15	$(2; 3); (3; 4]; (8; +\infty)$
16	2
17	уменьшить на 10%
18	$-\frac{2}{3} < a < 0; 0 < a < \frac{2}{3}$
19	а) да; б) нет; в) 17

Вариант 32

1	2	3	4	5	6	7	8	9	10	11	12
29 000	7	2,5	4,5	64	57	5	52	2,5	2	84	625

13	а) 1; $\log_5 8$; $\log_5 9$; б) 1; $\log_5 8$; $\log_5 9$
14	б) $\arcsin \frac{\sqrt{3}}{3}$
15	$(1; 2); (2; 5]; (20; +\infty)$
16	10
17	уменьшить на 30%
18	$-\frac{\sqrt{13}\pi}{3} < a < \frac{\sqrt{13}\pi}{3}$
19	а) да; б) нет; в) 11

Вариант 33

1	2	3	4	5	6	7	8	9	10	11	12
45 500	18	3	4	2	33	5	30	-0,75	9	75	81

13	а) 1; $\log_3 8$; 2; 6) 1
14	б) $\sqrt{3}$
15	(4; 5); (5; 6]; (12; $+\infty$)
16	6
17	2
18	$-\frac{7}{3} < a < -1$; $1 < a < \frac{7}{3}$
19	а) да; б) нет; в) 14

Вариант 34

1	2	3	4	5	6	7	8	9	10	11	12
37 500	7	3,5	2,1	3	30	5	4	1,25	2,5	72	8

13	а) 1; $\log_4 7$; $\log_4 10$; 6) 1
14	б) $\sqrt{2}$
15	(3; 4); (4; 5]; (10; $+\infty$)
16	5
17	26
18	$\left(-2; -\frac{2}{3}\right) \cup \left(\frac{2}{3}; 2\right)$
19	а) да; б) нет; в) 5

Вариант 35

1	2	3	4	5	6	7	8	9	10	11	12
28 500	15	1,5	3,5	31	27	6	20	-2	4	90	4

13	а) $\log_3 5$, 2, $\log_3 13$; 6) $\log_3 5$, 2
14	б) $\sqrt{6}$
15	(1; 2), (2; 3], (6; $+\infty$)
16	3
17	21
18	$-\frac{\sqrt{85}\pi}{3} < a < -\sqrt{5}\pi$ или $\sqrt{5}\pi < a < \frac{\sqrt{85}\pi}{3}$
19	а) да; б) нет; в) 8

Вариант 36

1	2	3	4	5	6	7	8	9	10	11	12
6	17	15	0,17	2,8	0,8	6	12	-2	2,25	6	-8,25

13	а) $\frac{\pi}{6} + 2\pi k, k \in \mathbb{Z}$; б) $\frac{13\pi}{6}$
14	б) $\arctg \frac{21}{17}$
15	$[0; \log_2 3]$
16	49
17	1 866 000 рублей
18	$[7 - \sqrt{39}; 7 + \sqrt{39}]$; $[-5 - \sqrt{15}; -5 + \sqrt{15}]$
19	а) нет; б) нет; в) 16

Вариант 37

1	2	3	4	5	6	7	8	9	10	11	12
8	1,2	21	0,96	-8	18	0,25	117	-6	14	56	51

13	а) $\pi k; \pm \frac{5\pi}{6} + 2\pi k, k \in \mathbb{Z}$; б) $2\pi; \frac{17\pi}{6}; 3\pi; \frac{19\pi}{6}$
14	б) $64\sqrt{7}$
15	$(-\infty; -\sqrt{2})$; $(-\sqrt{2}; -1]$; 0; $[1; \sqrt{2})$; $(\sqrt{2}; +\infty)$
16	$\frac{43}{2}$
17	2 622 050
18	$4 \leq a \leq 7$
19	а) 2, 3; б) нет; в) 8

Справочное издание

**Ященко И. В., Волчкевич М. А., Высоцкий И. Р., Гордин Р. К.,
Семёнов П. В., Косухин О. Н., Фёдоровых Д. А., Суздальцев А. И.,
Рязановский А. Р., Смирнов В. А., Хачатурян А. В.,
Шестаков С. А., Шноль Д. Э.**

ЕГЭ

МАТЕМАТИКА

ПРОФИЛЬНЫЙ УРОВЕНЬ

ТИПОВЫЕ ВАРИАНТЫ

ЭКЗАМЕНАЦИОННЫХ ЗАДАНИЙ



Издательство **«ЭКЗАМЕН»**

Гигиенический сертификат
№ РОСС RU C-RU.AK01.H.04670/19 с 23.07.2019 г.

Главный редактор *Л. Д. Лаппо*

Редактор *И. М. Бокова*

Технический редактор *Л. В. Павлова*

Корректоры *Т. И. Шитикова, С. Д. Казанчева*

Дизайн обложки *Л. В. Демьянова*

Компьютерная верстка *К. А. Реутова, Е. Ю. Лысова*

Россия, 107045, Москва, Луков пер., д. 8. www.examen.biz

E-mail: по общим вопросам: info@examen.biz;

по вопросам реализации: sale@examen.biz

тел./факс 8 (495) 641-00-30 (многоканальный)

Общероссийский классификатор продукции

ОК 034-2014; 58.11.1 — книги печатные

Отпечатано в соответствии с предоставленными материалами
в ООО «ИПК Парето-Принт», Россия, 170546, г. Тверь, www.pareto-print.ru

По вопросам реализации обращаться по тел.:

8 (495) 641-00-30 (многоканальный).



ВСЕ НЕОБХОДИМОЕ И ДОСТАТОЧНОЕ ДЛЯ ЕГЭ 2021 МАТЕМАТИКА

ПРОФИЛЬНЫЙ УРОВЕНЬ

Издание гарантирует выработку устойчивых навыков безошибочных действий на экзамене и тренировку выполнения самых разных видов заданий

- ◆ Приведены реальные типовые варианты экзаменационных работ 2021 года
- ◆ Авторы пособия – ведущие специалисты, принимающие непосредственное участие в разработке методических материалов для подготовки к выполнению контрольных измерительных материалов ЕГЭ

◆ Единственное пособие, которое включает не только 37 полноценных вариантов экзаменационных заданий, но также:

- инструкции по выполнению работы
- экзаменационные бланки и инструкции по их заполнению
- ответы ко всем заданиям

Если учащийся решил все задания данного пособия, он может с уверенностью сказать:

Я готов к ЕГЭ по математике!

Приказом № 699 Министерства образования и науки Российской Федерации учебные пособия издательства «ЭКЗАМЕН» допущены к использованию в общеобразовательных организациях.

Рекомендованный комплект пособий для подготовки к ЕГЭ 2021 по математике избавит Вас от необходимости покупать множество книг и искать дополнительную информацию в Интернете



ISBN 978-5-377-16138-7



9 785377 161387

Рекомендованные комплекты пособий аналогичной структуры выпускаются по всем школьным предметам, которые выносятся на ЕГЭ 2021 года